

شكراً لتحميلك هذا الملف من موقع المناهج السعودية



ورقة عمل درس مساحة المثلث وشبه المنحرف

موقع المناهج ← المناهج السعودية ← الصف الأول المتوسط ← رياضيات ← الفصل الثالث ← الملف

تاريخ إضافة الملف على موقع المناهج: 2024-04-27 18:14:40

التواصل الاجتماعي بحسب الصف الأول المتوسط

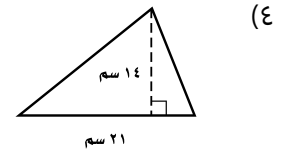
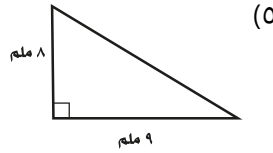
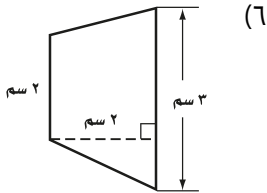
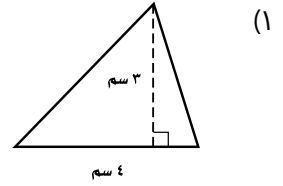
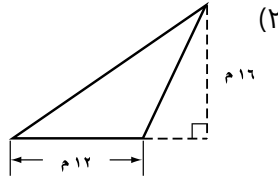
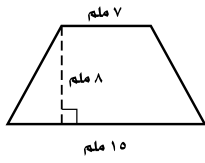


اضغط هنا للحصول على جميع روابط "الصف الأول المتوسط"

المزيد من الملفات بحسب الصف الأول المتوسط والمادة رياضيات في الفصل الثالث

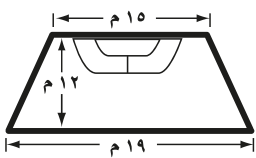
نماذج اختبارات منتصف الفصل مرفقة بالإجابات	1
ملخص الفصل السابع الاحتمال	2
خطة منهج القرآن الكريم للفصل الثالث	3
نماذج اختبارات نهائية مع نماذج الإجابة	4
إجابة اختبار نهائي الدور الأول	5

المثالان ٢،١: احسب مساحة كل من الأشكال التالية، وقرب الناتج إلى أقرب عُشر:



المثال ٣:

(٤) رياضة: يمثّل الشكل المجاور ساحة في فناء مدرسة تُستعمل لمزاولة ألعاب رياضية. احسب مساحتها.



(١٢) جبر: أوجد مساحة شبه منحرف طول قاعدتيه ١٣م، ١٥م، وارتفاعه ٧م.

