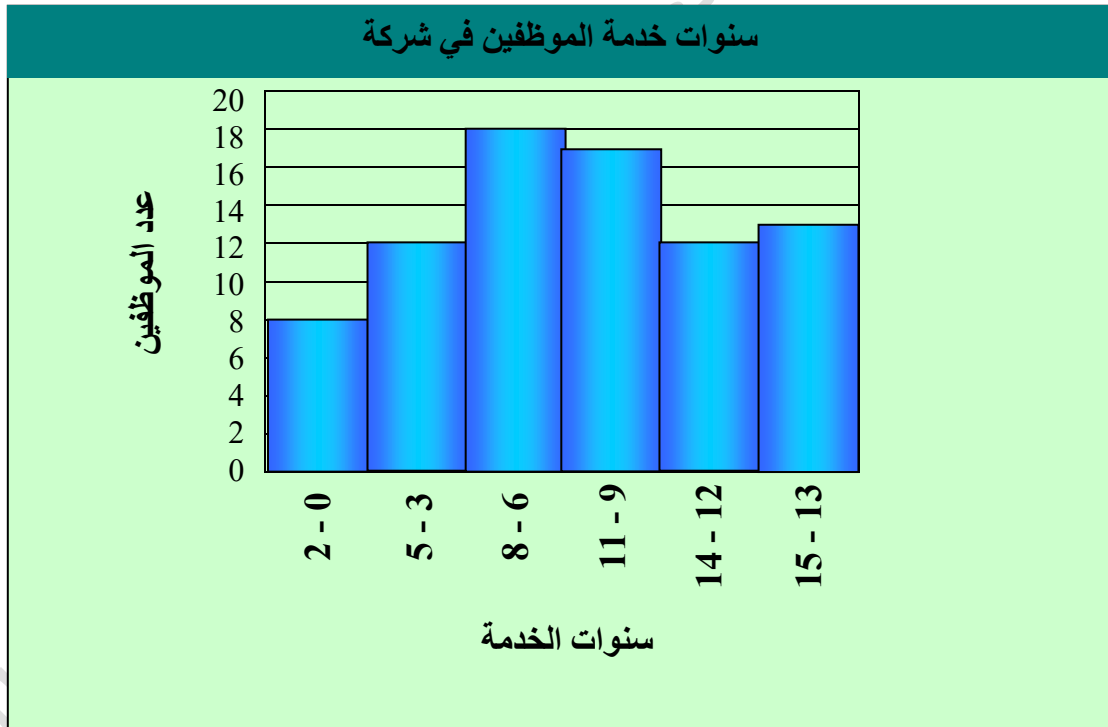


التمثيل بالأعمدة والمدرجات التكرارية

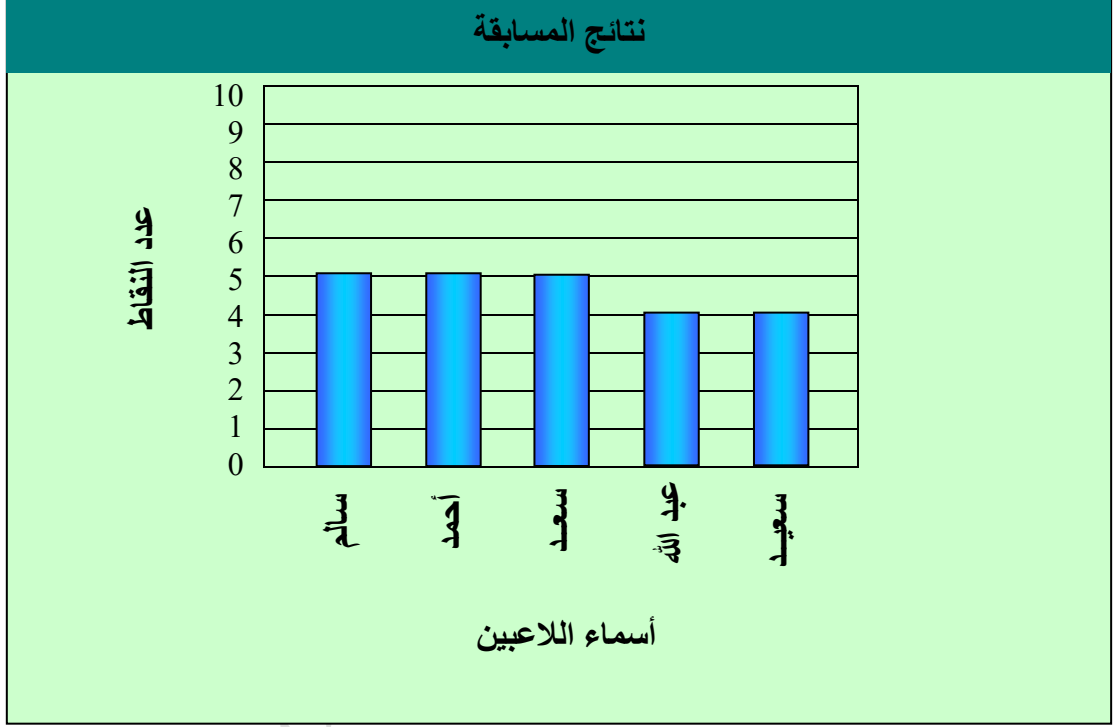
اختر التمثيل المناسب (الأعمدة أو المدرج التكراري) لعرض ما يلي :

(1)

سنوات خدمة الموظفين في شركة	
عدد الموظفين	سنوات الخدمة
8	2 - 0
12	5 - 3
18	8 - 6
17	11 - 9
12	14 - 12
13	15 - 13

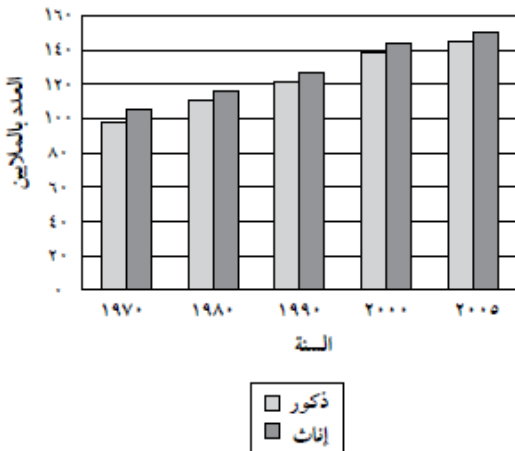


نتائج المسابقة	
عدد النقاط	اسم اللاعب
5	سالم
5	أحمد
5	سعد
4	عبدالله
4	سعيد



للتمارين 3 - 5 استعمل تمثيل الأعمدة المجاور الذي يبين عدد الذكور والإناث في العالم للأعوام: 1970 ، 1980 ، 1990 ، 2000 ، 2005

الذكور والإناث



(3) كم زاد عدد الإناث من عام 1970 إلى 1980 ؟

الزيادة = $115 - 105 = 10$ ملايين أنثى تقريبا

(4) كم زاد عدد الإناث من عام 2000 إلى 2005 ؟

الزيادة = $150 - 142 = 8$ ملايين أنثى تقريبا

(5) بين أي عامين كانت الزيادة في عدد الإناث أكبر ما يمكن .

الزيادة بين 1980 ، 1990 = $127 - 115 = 12$ مليون تقريبا
الزيادة بين 1990 ، 2000 = $142 - 127 = 15$ مليون تقريبا

تركيب

من النتائج يتبين أن الزيادة تكون أكبر ما يمكن بين عامي 1990 ، 2000 تقريبا

موقع المناهج السعودية www.alManahj.com/sa