

تم تحميل هذا الملف من موقع المناهج السعودية



# موقع المناهج المنهاج السعودي

\*للحصول على أوراق عمل لجميع الصفوف وجميع المواد اضغط هنا

<https://www.almanahj.com/sa>

\* للحصول على أوراق عمل لجميع مواد الصف الأول المتوسط اضغط هنا

<https://almanahj.com/sa/7>

\* للحصول على جميع أوراق الصف الأول المتوسط في مادة الحاسب الآلي ولجميع الفصول, اضغط هنا

<https://almanahj.com/sa/7computer>

\* للحصول على أوراق عمل لجميع مواد الصف الأول المتوسط في مادة الحاسب الآلي الخاصة بـ الفصل الأول اضغط هنا

<https://www.almanahj.com/sa/7computer1>

\* لتحميل كتب جميع المواد في جميع الفصول للـ الصف الأول المتوسط اضغط هنا

<https://www.almanahj.com/sa/grade7>

للحصول على جميع روابط الصفوف على تلغرام وفيسبوك من قنوات وصفحات: اضغط هنا

<https://t.me/sacourse>

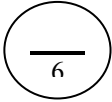


اسم الطالبة: .....

20

الاختبار العملي النهائي لمادة الحاسب والمعلومات للصف الأول متوسط  
مستعينة بالله أجيب عن جميع الأسئلة الآتية

السؤال الأول :

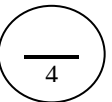


أ- من خلال دراستك لبرنامج الحاسبة ؟

الرقم	السؤال	نفذت	لم تنفذ	الدرجة	الدرجة المستحقة
1	افتحي البرنامج			1	
2	قومي بإجراء العملية الحسابية التالية $1405 * 32 =$			1	
3	قومي بفتح لعبة كانسنة الألغام			1	
4	كيف يمكنك الانتقال إلى حساب آخر دون إغلاق البرامج الحالية ؟			1	
5	قومي بوضع جهاز الكمبيوتر على وضع استعداد			1	
	الدرجة	5	مجموع الدرجة المستحقة		

ب- قومي بتحديد العناصر الإيقونات ( العناصر ) الأساسية على سطح المكتب ؟

السؤال الثاني :



أ- (1) قومي بفتح إيقونة جهاز الكمبيوتر ؟  
(2) عددي مكونات نافذة جهاز الكمبيوتر مع تحديد كل مكون على جهاز الكمبيوتر ؟

ب - حددي نوع المجلدات التالية من قائمة أنواع المجلدات المعطاة لديك  
(مجلدات نصية - مجلدات صور - مجلدات أصوات - مجلدات عامة - مجلدات فيديو)

-----	-----	-----	-----	-----

ج- ضعي كلمة ( صح ) أمام العبارات الصحيحة وكلمة ( خطأ ) أمام العبارات الخاطئة :

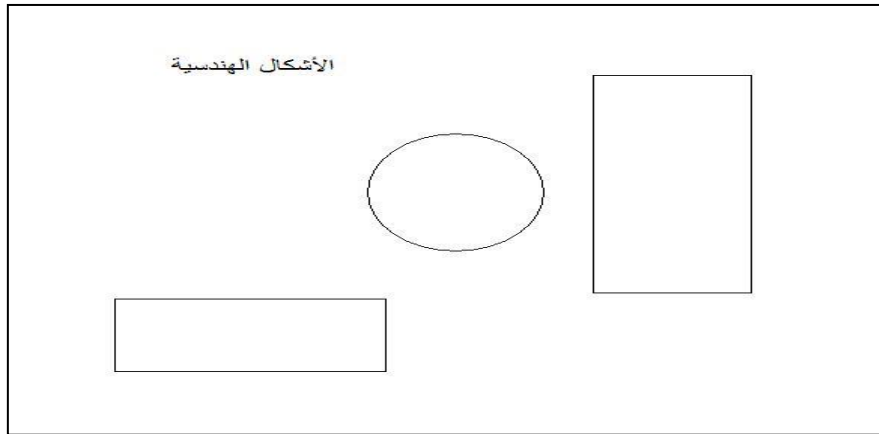
- يساعد لوحة المفاتيح على إدخال النصوص والأرقام والرموز بمعنى الكتابة في الحاسب ( )
- يستخدم الزر الأيسر للفارة لإظهار القوائم المختصرة ( )



السؤال الثالث :  
أ- من خلال دراستك للملفات قومي بعمل الخطوات التالية :

الدرجة المستحقة	الدرجة	لم تنفذ	نفذت	السؤال	الرقم
	1			أنشئ ملف .	1
	1			غيري اسم الملف وسميه باسمك الثلاثي .	2
	1			انقلي الملف إلى المستندات .	3
	1			احذف الملف إلى سلة المحذوفات .	4
	1			ما نوع الملف الذي قمتي بإنشائه .	5
				مجموع الدرجة المستحقة	5
				الدرجة	

ب- من خلال دراستك لبرنامج الرسم قومي بتنفيذ الشكل التالي مع مراعاة ما هو مطلوب في الجدول :



الدرجة المستحقة	الدرجة	لم تنفذ	نفذت	السؤال	الرقم
	1			افتح برنامج الرسم .	1
	1			ارسمي الدائرة والمستطيلان كما في الرسم .	2
	1			لونى الدائرة بالوردي والمستطيلان الأول بالأخضر والآخر بالأزرق .	3
	1			استخدمي أداة النص وكتبي العبارة ( الأشكال الهندسية ) .	4
	1			أحفظي الرسم باسمك الثلاثي .	5
				مجموع الدرجة المستحقة	5
				الدرجة	

انتهت الأسئلة

مع تمنياتي لك بالتوفيق