

تم تحميل هذا الملف من موقع المناهج السعودية

almanahj.com/sa

موقع المناهج السعودية

*للحصول على أوراق عمل لجميع الصفوف وجميع المواد اضغط هنا

<https://www.almanahj.com/sa>

* للحصول على أوراق عمل لجميع مواد الصف الأول المتوسط اضغط هنا

<https://almanahj.com/sa/7>

* للحصول على جميع أوراق الصف الأول المتوسط في مادة رياضيات ولجميع الفصول, اضغط هنا

<https://almanahj.com/sa/7>

* للحصول على أوراق عمل لجميع مواد الصف الأول المتوسط في مادة رياضيات الخاصة بـ اضغط هنا

<https://www.almanahj.com/sa/73>

* لتحميل كتب جميع المواد في جميع الفصول للصف الأول المتوسط اضغط هنا

<https://www.almanahj.com/sa/grade7>

[sacourse/me.t://https](https://me.t://https)

للحصول على جميع روابط الصفوف على تلغرام وفيسبوك من قنوات وصفحات: اضغط هنا

(ورقة عمل تفاعلية)

المادة : الرياضيات

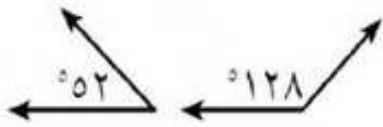
عنوان الدرس : الزوايا المتتامه و المتكامله

الصف : الأول متوسط ()

اسم الطالب /

١ / صح أم خطأ :

نقول أن الزاويتين متتامتان إذا كان مجموع قياسهما يساوي 180° ()



٢ / يصنف زوج الزوايا التالي الى زاويتين

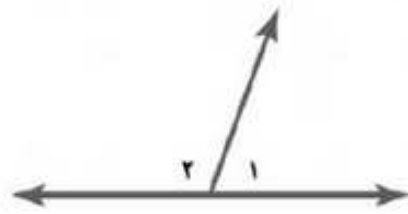
(ج) غير ذلك

(ب) متكاملتين

(أ) متتامتين

٣ / اختيار من متعدد = مستعينًا بالرسم المجاور،

أيّ الجمل الآتية صحيح؟

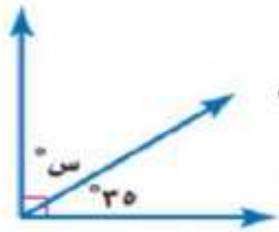


(هـ) $1 > 2$ و $2 > 1$ متكاملتان.

(و) $1 > 2$ و $2 > 1$ متقابلتان بالرأس.

(ز) $1 > 2$ و $2 > 1$ متتامتان.

(ح) $1 > 2$ و $2 > 1$ غير حادتين.



٤ / قيمة س في الشكل المجاور هو س =

(د) 55°

(ج) 160°

(ب) 90°

(أ) 180°



٥ / قيمة س في الشكل المجاور هو س =

(د) 55°

(ج) 160°

(ب) 90°

(أ) 180°