

تم تحميل هذا الملف من موقع المناهج السعودية

almanahj.com/sa

# موقع المناهج السعودية

\*للحصول على أوراق عمل لجميع الصفوف وجميع المواد اضغط هنا

<https://www.almanahj.com/sa>

\* للحصول على أوراق عمل لجميع مواد الصف الأول المتوسط اضغط هنا

<https://almanahj.com/sa/7>

\* للحصول على جميع أوراق الصف الأول المتوسط في مادة رياضيات ولجميع الفصول, اضغط هنا

<https://almanahj.com/sa/7>

\* للحصول على أوراق عمل لجميع مواد الصف الأول المتوسط في مادة رياضيات الخاصة بـ اضغط هنا

<https://www.almanahj.com/sa/73>

\* لتحميل كتب جميع المواد في جميع الفصول للـ الصف الأول المتوسط اضغط هنا

<https://www.almanahj.com/sa/grade7>

[sacourse/me.t://https](https://me.t://https)

للحصول على جميع روابط الصفوف على تلغرام وفيسبوك من قنوات وصفحات: اضغط هنا

## الفاقد التعليمي

المادة : رياضيات

الصف : أول متوسط العام الدراسي : ١٤٤٢ الفصل الثاني

المهارة المفقودة : ١ / قياس وتقدير الزوايا ورسمها .

أسم الطالبة :



شاهدي الفيديو إذا كنت محتاجة مساعدة

س١ / اختاري الإجابة

١ ما نوع الزاوية التي قياسها ٥٥° ؟

١	قائمة	ب	مستقيمة	ج	منفرجة	د	حادّة
---	-------	---	---------	---	--------	---	-------

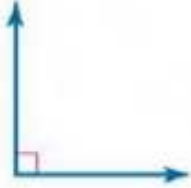
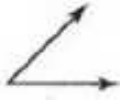




٢ أي مما يأتي لا يعد من أسماء الزاوية في الشكل المجاور :

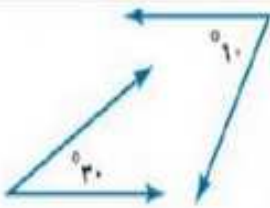


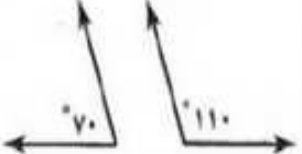
١	> أ ب ج	ب	> ١	ج	> ب	د	> ب أ ج
---	---------	---	-----	---	-----	---	---------

أمل العماني  
AMAL ALOMANI

س٢ / اسحبى تصنيف كل زاوية مما يأتي وضعيها أسفل الشكل المناسب :

مستقيمة	قائمة	منفرجة	حادة
			

س٣ / اسحبى التصنيف المناسب لكل زوج من الزوايا الآتية وضعيها أسفل الشكل المناسب :

متجاورتان	متكاملتان	متقابلتان بالرأس	متتامتان
			

أمل العماني  
AMAL ALOMANI