

تم تحميل هذا الملف من موقع المناهج السعودية

almanahj.com/sa

موقع المناهج السعودية

*للحصول على أوراق عمل لجميع الصفوف وجميع المواد اضغط هنا

<https://www.almanahj.com/sa>

* للحصول على أوراق عمل لجميع مواد الصف الأول المتوسط اضغط هنا

<https://almanahj.com/sa/7>

* للحصول على جميع أوراق الصف الأول المتوسط في مادة رياضيات ولجميع الفصول, اضغط هنا

<https://almanahj.com/sa/7>

* للحصول على أوراق عمل لجميع مواد الصف الأول المتوسط في مادة رياضيات الخاصة بـ اضغط هنا

<https://www.almanahj.com/sa/73>

* لتحميل كتب جميع المواد في جميع الفصول للـ الصف الأول المتوسط اضغط هنا

<https://www.almanahj.com/sa/grade7>

[sacourse/me.t://https](https://me.t://https)

للحصول على جميع روابط الصفوف على تلغرام وفيسبوك من قنوات وصفحات: اضغط هنا

عنوان الدرس : الأشكال المتشابهة

الصف : الأول متوسط (□)

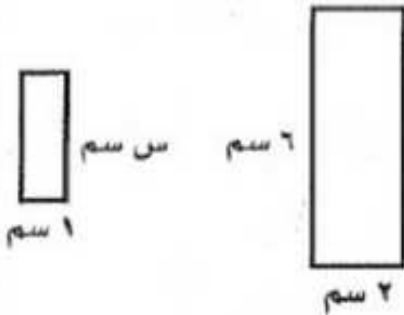
اسم الطالب /

١ / صح أم خطأ :

إذا تشابه شكلان ، فإن أضلاعهما و زواياهما المتناظرة متطابقة (✓)

٢ /

ما قيمة س في الشكلين المتشابهين المجاورين؟





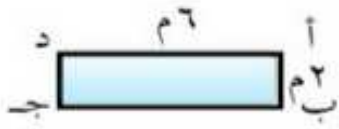

(ب) ٣

(أ) ٤

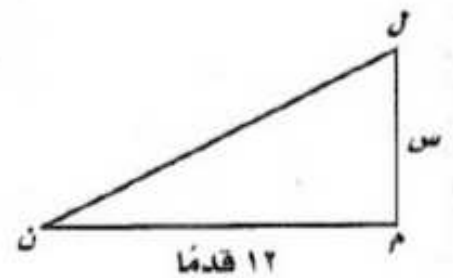
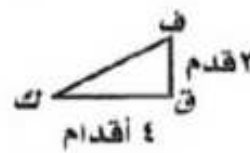
(د) ١

(ج) ٢

٣ / أي المستطيلات التالية يشبه المستطيل ك ق ف ل ؟



٤ / قيمة س في كل زوج من الأشكال المتشابهة هو س =



(ج) ١٦

(ب) ٢٠

(أ) ٢٤

(ج) ٩

(ب) ٦

(أ) ٣