

شكراً لتحميلك هذا الملف من موقع المناهج السعودية



مجموعة نماذج اختبارات نهائية مع نماذج الإجابة

[موقع المناهج](#) ⇨ [المناهج السعودية](#) ⇨ [الصف الثاني المتوسط](#) ⇨ [رياضيات](#) ⇨ [الفصل الأول](#) ⇨ [الملف](#)

تاريخ نشر الملف على موقع المناهج: 05:57:57 2023-11-12

التواصل الاجتماعي بحسب الصف الثاني المتوسط



المزيد من الملفات بحسب الصف الثاني المتوسط والمادة رياضيات في الفصل الأول

مراجعة حملة غير محلولة للدروس	1
أسئلة اختبار نهاية الفصل 1445هـ	2
ملخص شامل للمنهج	3
مراجعة شاملة لدروس الفصل الأول	4
اختبار مهاراتي بتصنيف المستويات	5

اختبار نهائي الفصل الدراسي الأول - الدور الأول

العام الدراسي ١٤٤٥ هـ

المادة: رياضيات - الثاني متوسط

١٠	
درجات	١٠

السؤال الأول: أختَر الإجابة الصحيحة فيما يلي:

١ - يكتب الكسر الاعتيادي $\frac{4}{5}$ على صورة كسر عشري في أبسط صورة بالشكل:

- (أ) ٠,٨ (ب) ٠,٦ (ج) ٠,٧ (د) ٠,٥

٢ - لإيجاد ناتج الضرب $\frac{3}{5} \times \frac{5}{7}$ في أبسط صورة أكتب:

- (أ) $\frac{3}{6}$ (ب) $\frac{3}{7}$ (ج) $\frac{3}{8}$ (د) $\frac{3}{9}$

٣ - أكتب النظير الضربي للعدد $\frac{5}{7}$ =

- (أ) $\frac{7}{5}$ (ب) $\frac{5}{5}$ (ج) $\frac{7}{5}$ (د) $\frac{5}{7}$

٤ - ناتج الطرح $\frac{3}{8} - \frac{7}{8}$ في أبسط صورة هو:

- (أ) $\frac{1}{4}$ (ب) $\frac{1}{3}$ (ج) $\frac{1}{2}$ (د) $\frac{1}{2} -$

٥ - نكتب العبارة $2 \times 2 \times 2 \times 3 \times 3 \times 3$ باستعمال الأسس بالشكل:

- (أ) $3^3 \times 2^2$ (ب) $2^3 \times 3^2$ (ج) $2^3 \times 3^2$ (د) $2^2 \times 3^2$

٦ - نكتب العدد $10,32 \times 10^4$ بالصيغة القياسية بالشكل:

- (أ) ١٠٧٣٢ (ب) ٧٣٢٠٠ (ج) ٧٣٢٠٠٠٠٠ (د) ١٠٧٣٢٠٠

٧ - لإيجاد الجذر التربيعي نكتب:

- (أ) ٧ (ب) ٦ (ج) ٥ (د) ٤

٨ - لتقدير الجذر التربيعي نكتب:

- (أ) ٧ (ب) ٦ (ج) ١٠ (د) ٨

٩ - العدد الذي يمكن كتابته على صورة كسر يسمى:

- (أ) عدد نسبي (ب) عدد كلي (ج) عدد طبيعي (د) عدد صحيح

١٠ - لإيجاد قيمة 6^2 نكتب:

- (أ) ٦٥ (ب) ٦٤ (ج) ٦٣ (د) ٦٢

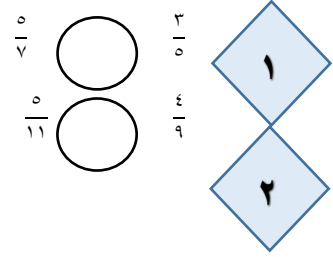
السؤال الثاني: ضع علامة (✓) وعلامة (×) أمام العبارات التالية:

٦	
درجات	٦

()	١- معدل التغير هو معدل يصف كيف تتغير كمية ما في علاقتها بكمية أخرى
()	٢- تصف نظرية فيثاغورس العلاقة بين الساقين والوتر في أي مثلث حاد الزوايا
()	٣- التناسب هي معادلة تبين أن نسبتين أو معدلين متكافئان
()	٤- إذا كانت الكميتان غير متناسبتان فإن النسبة بينهما غير ثابتة
()	٥- الصيغة العلمية هي طريقة مختصرة لكتابة الأعداد التي قيمتها المطلقة كبيرة جدا أو صغيرة جدا
()	٦- العدد الغير نسبي يمكن كتابته على صورة كسر

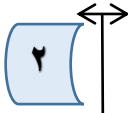
اقلب الورقة

السؤال الثالث : أ) ضع إشارة < أو > أو = لتصبح صحيحة: ٤ درجات



ب) حل تناسب مما يأتي : درجات

$$\frac{6}{10} = \frac{18}{س}$$



$$\frac{8}{16} = \frac{س}{4}$$

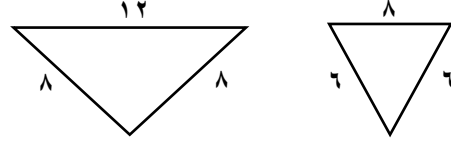


٨ درجات

.....
.....
.....

٢ درجتان

السؤال الرابع : أ) حدد ما إذا كان كل مضلعين مما يأتي متشابهين أم لا ؟



.....
.....
.....

٣ درجات

ب) من الجدول التالي أوجد معدل التغير في كتلة الطفل ما بين ٨ اشهر ١٢ شهرا؟

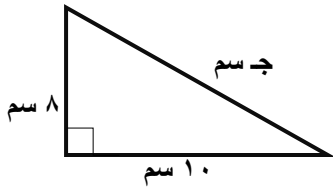
عمر الطفل (شهر) ٤ ٨ ١٢

كتلة الطفل (كجم) ٥ ٧ ٩

.....
.....
.....

السؤال الخامس: أكتب معادلة لإيجاد طول الضلع المجهول في المثلث القائم الزاوية المجاور ثم اوجده ، وقرب الإجابة لأقرب عشر إذا لزم ذلك:

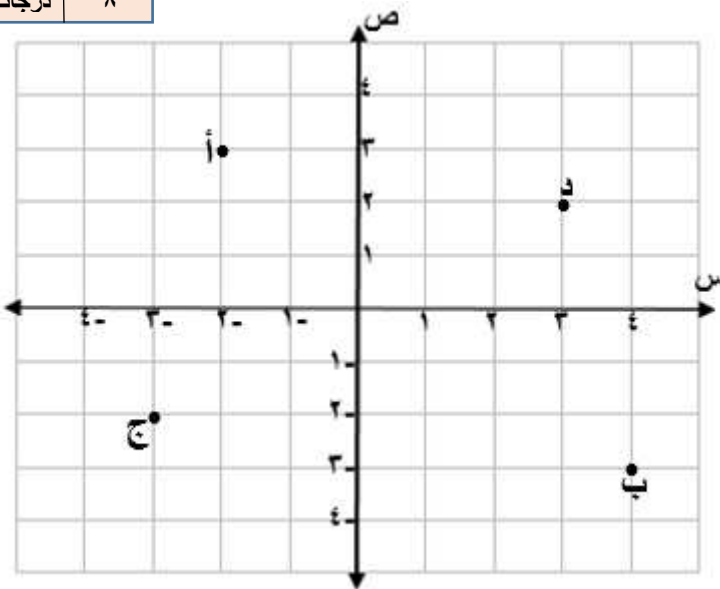
٣	
درجات	٣



.....
.....
.....

السؤال السادس : سم الزوج المرتب لكل نقطة مما يأتي :

٨	
درجات	٨



أ (،)



ب (،)



ج (،)



د (،)



الدرجة

٤٠

﴿ تمنياتي لكم بالتوفيق والنجاح الدائم ﴾

إسامه



اختبار نهائي الفصل الدراسي الأول (الدور الأول) ١٤٤٤ هـ

الدرجة رقما	الدرجة كتابة	المصحح التوقيع	المراجع التوقيع
٤ .			

اسم الطالب:	رقم الجلوس:
-------------	-------------

٢٠ درجة

السؤال الأول / اختر الإجابة الصحيحة لكل فقرة:

(١) يكتب الكسر $\frac{3}{8}$ في أبسط صورة =			
(أ) ٠,٧٥	(ب) ٠,٥	(ج) ٠,٨	(د) ٠,٦
(٢) ناتج الضرب في أبسط صورة $= \frac{3}{8} \times \frac{4}{5}$			
(أ) $\frac{1}{5}$	(ب) $\frac{3}{10}$	(ج) $\frac{7}{10}$	(د) $\frac{3}{8}$
(٣) ناتج القسمة في أبسط صورة $= \frac{3}{8} \div \frac{2}{3}$			
(أ) $\frac{9}{8}$	(ب) $\frac{3}{8}$	(ج) $\frac{8}{9}$	(د) $\frac{4}{9}$
(٤) ناتج الجمع في أبسط صورة $= \frac{1}{4} + \frac{3}{4}$			
(أ) $\frac{1}{4}$	(ب) $\frac{1}{8}$	(ج) ١-	(د) $\frac{1}{2}$
(٥) النظير الضربي للعدد $-\frac{3}{4}$ =			
(أ) $\frac{4}{3}$	(ب) $\frac{4}{3}$	(ج) $\frac{3}{4}$	(د) $\frac{3}{4}$
(٦) نكتب العبارة $2 \times 2 \times 2 \times 3 \times 3 \times 3$ باستعمال الأسس =			
(أ) $2^3 \times 3^4$	(ب) $2^3 \times 3^2$	(ج) $2^2 \times 3^3$	(د) $2^2 \times 3^3$
(٧) الصيغة العلمية للعدد ٢٧٧٠٠٠ =			
(أ) $٠,٢٧٧ \times ١٠^٦$	(ب) $٢٧,٧ \times ١٠^٤$	(ج) $٢,٧٧ \times ١٠^٥$	(د) ٢٧٧×١٠^٣

$$= 10 \times 7,32 \text{ الصيغة القياسية للعدد } 7,32 \times 10^4$$

(أ) 7320 (ب) 732000 (ج) 732 (د) 73200

(٩) يصنف العدد $\sqrt{7}$ إلى عدد

(أ) غير نسبي (ب) صحيح ونسبي (ج) كلي ونسبي (د) نسبي

(١٠) يصنف العدد ٢٥٢٥٢٥,٠ إلى عدد

(أ) كلي وصحيح ونسبي (ب) نسبي (ج) غير نسبي (د) صحيح ونسبي

(١١) أي من الأعداد التالية غير نسبي

(أ) $\frac{1}{4}^3$ (ب) $\sqrt{100}$ (ج) $\sqrt{10}$ (د) 7

$$(12) \text{ قيمة } \left(\frac{2}{3}\right)^3 =$$

(أ) $\frac{7}{9}$ (ب) $\frac{4}{27}$ (ج) $\frac{8}{9}$ (د) $\frac{8}{27}$

$$(13) \text{ ناتج العبارة } (6)^{-3} =$$

(أ) $\frac{1}{216}$ (ب) $\frac{1}{343}$ (ج) $\frac{1}{125}$ (د) $\frac{1}{64}$

(١٤) أي الأطوال التالية تشكل أطوال أضلاع مثلث قائم الزاوية

(أ) ٧، ٥، ٤ (ب) ١٠، ٨، ٦ (ج) ٦، ٤، ٣ (د) ٥، ٣، ٢

$$(15) \text{ قيمة } \sqrt{\frac{16}{49}} =$$

(أ) $\frac{5}{7}$ (ب) $\frac{3}{5}$ (ج) $\frac{4}{7}$ (د) $\frac{4}{6}$

$$(16) \text{ حل المعادلة } \sqrt{s} = 5$$

(أ) $s = 36$ (ب) $s = 16$ (ج) $s = 49$ (د) $s = 25$

$$(17) \text{ تقدير } \sqrt{50} \text{ إلى أقرب عدد كلي} =$$

(أ) 7 (ب) 9 (ج) 6 (د) 8

$$(18) \text{ حل المعادلة } s^2 = 36$$

(أ) $s = \pm 3$ (ب) $s = \pm 6$ (ج) $s = \pm 5$ (د) $s = \pm 4$

(١٩) إحداثي نقطة المنتصف للقطعة المستقيمة بين النقطتين (٥، -١٠)، (٨، ٥)

(أ) (١٠، -١) (ب) (-٢، ٥) (ج) (٥، -١) (د) (٤، ١)

$$(20) \text{ حل التناسب } \frac{9}{10} = \frac{s}{4}$$

(أ) 3,4 (ب) 3,2 (ج) 3,8 (د) 3,6

٧ درجات

السؤال الثاني / ضع علامة (✓) أمام العبارة الصحيحة وعلامة (×) أمام العبارة الخاطئة:

١.	العدد غير النسبي يمكن كتابته على صورة كسر
٢.	تصف نظرية فيثاغورس العلاقة بين الساقان والوتر في أي مثلث قائم الزاوية
٣.	الصيغة العلمية طريقة مختصرة لكتابة الأعداد التي قيمتها المطلقة كبيرة جدا أو صغيرة جدا
٤.	إذا كانت الكميتان غير متناسبتان فإن النسبة بينهما غير ثابتة
٥.	التناسب معادلة تبين أن نسبتين أو معدلين متكافئان
٦.	تسمى المضلعات التي لها الشكل نفسه المضلعات المتشابهة
٧.	التمدد الذي عامل مقياسه أكبر من ١ يؤدي إلى تصغير

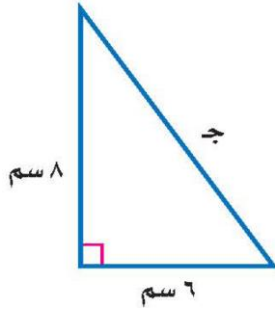
٦ درجات

السؤال الثالث / ضع إشارة < أو > أو = لتصبح الجملة صحيحة:

أ	$15\sqrt{}$ ٣,٥	ب	$2,25\sqrt{}$ $1\frac{1}{2}$	ج	٢,٤٤- ٢,٤٢-
د	$\frac{3}{4}$ $\frac{7}{12}$	هـ	$\frac{11}{5}$ ٠,٢٢	و	$\frac{9}{16}$ $\frac{12}{16}$

٣ درجات

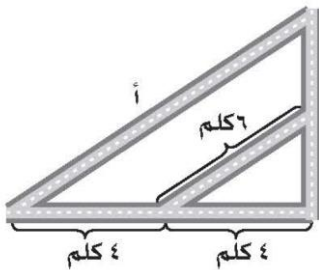
السؤال الرابع / أوجد طول الضلع المجهول ج في المثلث قائم الزاوية:



٤ درجات

السؤال الخامس / أ) يبين الجدول طول ثامر عندما كان عمره ٨ سنوات و ١١ سنة أوجد معدل التغير في طوله خلال هذين العمرين

١٤٥	١٣٠	الطول (سم)
١١	٨	العمر (سنة)



ب) الشكل المجاور يمثل تقاطعات أربعة شوارع أوجد طول الشارع أ

انتهت الأسئلة

نموذج الإجابة

وزارة التعليم	الصف: ثاني متوسط
إدارة التعليم بمنطقة	المادة: رياضيات
مكتب التعليم بمحافظة	الزمن: ساعتان ونصف
متوسطة	التاريخ: ٤ / ٤ / ١٤٤٤ هـ
اختبار نهائي الفصل الدراسي الأول (الدور الأول) ١٤٤٤ هـ	

الدرجة	الدرجة	المصحح	المراجع
رقما	٤.	التوقيع	التوقيع

اسم الطالب:	رقم الجلوس:
-------------	-------------

السؤال الأول / اختر الإجابة الصحيحة لكل فقرة: ٢٠ درجة

(١) يكتب الكسر $\frac{3}{4}$ في أبسط صورة =			
أ) ٠,٧٥	ب) ٠,٥	ج) ٠,٨	د) ٠,٦
(٢) ناتج الضرب في أبسط صورة $= \frac{3}{8} \times \frac{4}{5}$			
أ) $\frac{1}{5}$	ب) $\frac{3}{10}$	ج) $\frac{7}{10}$	د) $\frac{3}{8}$
(٣) ناتج القسمة في أبسط صورة $= \frac{3}{4} \div \frac{2}{3}$			
أ) $\frac{9}{8}$	ب) $\frac{3}{8}$	ج) $\frac{8}{9}$	د) $\frac{4}{9}$
(٤) ناتج الجمع في أبسط صورة $= \frac{1}{4} + \frac{3}{4}$			
أ) $\frac{1}{4}$	ب) $\frac{1}{8}$	ج) ١-	د) $\frac{1}{2}$
(٥) النظير الضربي للعدد $-\frac{3}{4}$ =			
أ) $-\frac{4}{3}$	ب) $\frac{4}{3}$	ج) $-\frac{3}{4}$	د) $\frac{3}{4}$
(٦) نكتب العبارة $2 \times 2 \times 2 \times 3 \times 3 \times 3$ باستعمال الأسس =			
أ) $2^3 \times 3^4$	ب) $2^3 \times 3^2$	ج) $2^2 \times 3^3$	د) $2^3 \times 3^2$
(٧) الصيغة العلمية للعدد ٢٧٧٠٠٠ =			
أ) $٠,٢٧٧ \times ١٠^٦$	ب) $٢٧,٧ \times ١٠^٤$	ج) $٢,٧٧ \times ١٠^٥$	د) ٢٧٧×١٠^٣
(٨) الصيغة القياسية للعدد $٧,٣٢ \times ١٠^٤$ =			
أ) ٧٣٢٠	ب) ٧٣٢٠٠٠	ج) ٧٣٢	د) ٧٣٢٠٠

٩) يصنف العدد $\sqrt{7}$ إلى عدد

(أ) غير نسبي	(ب) صحيح ونسبي	(ج) كلي ونسبي	(د) نسبي
--------------	----------------	---------------	----------

١٠) يصنف العدد $0.202020 \dots$ إلى عدد

(أ) كلي وصحيح ونسبي	(ب) نسبي	(ج) غير نسبي	(د) صحيح ونسبي
---------------------	----------	--------------	----------------

١١) أي من الأعداد التالية غير نسبي

(أ) $3\frac{1}{4}$	(ب) $\sqrt{100}$	(ج) $\sqrt{10}$	(د) $7 - \sqrt{}$
--------------------	------------------	-----------------	-------------------

١٢) قيمة $\left(\frac{2}{3}\right)^3 =$

(أ) $\frac{7}{9}$	(ب) $\frac{4}{27}$	(ج) $\frac{8}{9}$	(د) $\frac{8}{27}$
-------------------	--------------------	-------------------	--------------------

١٣) ناتج العبارة $(7)^{-3} =$

(أ) $\frac{1}{216}$	(ب) $\frac{1}{343}$	(ج) $\frac{1}{125}$	(د) $\frac{1}{64}$
---------------------	---------------------	---------------------	--------------------

١٤) أي الأطوال التالية تشكل أطوال أضلاع مثلث قائم الزاوية

(أ) ٧، ٥، ٤	(ب) ١٠، ٨، ٦	(ج) ٦، ٤، ٣	(د) ٥، ٣، ٢
-------------	--------------	-------------	-------------

١٥) قيمة $\sqrt{\frac{16}{49}} =$

(أ) $\frac{5}{7}$	(ب) $\frac{3}{5}$	(ج) $\frac{4}{7}$	(د) $\frac{4}{6}$
-------------------	-------------------	-------------------	-------------------

١٦) حل المعادلة $\sqrt{s} = 5$

(أ) $s = 36$	(ب) $s = 16$	(ج) $s = 49$	(د) $s = 25$
--------------	--------------	--------------	--------------

١٧) تقدير $\sqrt{50}$ إلى أقرب عدد كلي =

(أ) ٧	(ب) ٩	(ج) ٦	(د) ٨
-------	-------	-------	-------

١٨) حل المعادلة $s^2 = 36$

(أ) $s = \pm 3$	(ب) $s = \pm 6$	(ج) $s = \pm 5$	(د) $s = \pm 4$
-----------------	-----------------	-----------------	-----------------

١٩) إحداثي نقطة المنتصف للقطعة المستقيمة بين النقطتين $(0, 10)$ ، $(0, 8)$

(أ) $(10, -1)$	(ب) $(-2, 5)$	(ج) $(5, -1)$	(د) $(4, 1)$
----------------	---------------	---------------	--------------

٢٠) حل التناسب $\frac{9}{10} = \frac{s}{4}$

(أ) ٣، ٤	(ب) ٣، ٢	(ج) ٣، ٨	(د) ٣، ٦
----------	----------	----------	----------

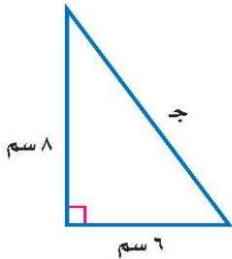
السؤال الثاني / ضع علامة (✓) أمام العبارة الصحيحة وعلامة (x) أمام العبارة الخاطئة:

١.	العدد غير النسبي يمكن كتابته على صورة كسر	x
٢.	تصف نظرية فيثاغورس العلاقة بين الساقان والوتر في أي مثلث قائم الزاوية	✓
٣.	الصيغة العلمية طريقة مختصرة لكتابة الأعداد التي قيمتها المطلقة كبيرة جدا أو صغيرة جدا	✓
٤.	إذا كانت الكميتان غير متناسبتان فإن النسبة بينهما غير ثابتة	✓
٥.	التناسب معادلة تبين أن نسبتين أو معدلين متكافئان	✓
٦.	تسمى المضلعات التي لها الشكل نفسه المضلعات المتشابهة	✓
٧.	التمدد الذي عامل مقياسه أكبر من ١ يؤدي إلى تصغير	x

السؤال الثالث / ضع إشارة < أو > أو = لتصبح الجملة صحيحة:

أ	$3,5 < \sqrt{15}$	ب	$1\frac{1}{2} = \sqrt{2,25}$	ج	$2,42 > 2,44$
د	$\frac{7}{12} < \frac{3}{4}$	هـ	$0,22 = \frac{11}{50}$	و	$\frac{12}{16} < \frac{9}{16}$

السؤال الرابع / أوجد طول الضلع المجهول ج في المثلث قائم الزاوية:



$$\begin{aligned} & \text{ج}^2 = 6^2 + 8^2 \leftarrow \text{ج}^2 = 36 + 64 \leftarrow \text{ج}^2 = 100 \\ & \text{ج} = \sqrt{100} \leftarrow \text{ج} = 10 \end{aligned}$$

السؤال الخامس / أ) يبين الجدول طول ثامر عندما كان عمره ٨ سنوات و ١١ سنة

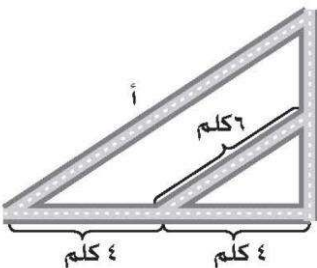
أوجد معدل التغير في طوله خلال هذين العمرين

١٤٥	١٣٠	الطول (سم)
١١	٨	العمر (سنة)

$$\frac{\text{التغير في الطول}}{\text{التغير في العمر}} = \frac{130 - 145}{8 - 11} = \frac{15}{-3} = -5 \text{ سم سنة}$$

يزداد طول ثامر ٥ سم في السنة

ب) الشكل المجاور يمثل تقاطعات أربعة شوارع أوجد طول الشارع أ



$$\frac{8}{4} = \frac{12}{4} \leftarrow \frac{12}{4} = 3 \leftarrow \frac{48}{4} = 12$$

انتهت الأسئلة ،، أرجو لكم التوفيق والنجاح

اختبار الرياضيات لصف الثاني متوسط الفصل الدراسي الأول (الدور الأول) لعام ١٤٤٤ هـ

الاسم: رقم الجلوس:

عزيزتي: طريق النجاح مزدحم، لكن طريق التميز خالي، فكوني أنت أول الذين يمرون به.

استعيني بالله ثم أجبني عن الاسئلة التالية:

٤٠

السؤال الأول:أ) أكمل الفراغات التالية بما يناسبها:١. يكتب العدد $٦,١ \times ١٠^٢$ بالصيغة القياسية.....٢. $\sqrt{36} = \dots\dots\dots$

٣. تسمى الاجزاء المتقابلة في الأشكال المتشابهة

٤. يكتب الكسر الاعتيادي $\frac{٣}{٥}$ على صورة كسر عشري.....

٥. تسمى العلاقة التي تمثل بيانياً بخط مستقيم علاقة

٦. طريقة مختصرة لكتابة الاعداد التي قيمتها المطلقة كبيرة

جداً أو صغيرة جداً.

٧. يسمى العدد الذي يمكن كتابته على صورة كسر عدداً

٨. يعبر عن ناتج ضرب عوامل متكررة ب.....

٩. هو معدل يصف كيف تتغير كمية ما في علاقتها بكمية أخرى.

١٠. تشكل مجموعتا الأعداد النسبية وغير نسبية معاً مجموعة الأعداد

ب) حلي التناسب التالي:

$$\frac{٢}{٨} = \frac{ص}{٨}$$

٢

السؤال الثاني:

(أ) اختاري الاجابة الصحيحة من بين الخيارات التالية:

١٣

١. ٣٢ تساوي

(أ) ٦	(ب) ٧	(ج) ٨	(د) ٩
-------	-------	-------	-------

٢. $\sqrt{32}$ عدد

(أ) صحيح	(ب) غير نسبي	(ج) نسبي	(د) كلي
----------	--------------	----------	---------

٣. يمكن كتابة العدد ٣٧٢٥٠٠٠ بالصيغة العلمية

(أ) $٣٧,٢٥ \times ١٠^٦$	(ب) $٣,٧٢٥ \times ١٠^٦$	(ج) $٣,٧٢٥ \times ١٠^٦$	(د) $٣٧٢,٥ \times ١٠^٦$
-------------------------	-------------------------	-------------------------	-------------------------

٤. أقرب عدد كلي لـ $\sqrt{83}$ هو

(أ) ٩	(ب) ١٠	(ج) ٨	(د) ١١
-------	--------	-------	--------

٥. النظير الضربي لـ $\frac{٥}{٧}$

(أ) $\frac{٧}{٥}$	(ب) $\frac{٥}{٧}$	(ج) $\frac{٧}{٥}$	(د) $\frac{١}{٧}$
-------------------	-------------------	-------------------	-------------------

٦. يمكن كتابة العبارة $٨ \times ٨ \times ٨$ باستعمال الاسس

(أ) $٨^٢$	(ب) $٦٤^٨$	(ج) $١٦^٢$	(د) $١٦^٨$
-----------	------------	------------	------------

٧. الضلع المقابل للزاوية القائمة هو أطول أضلاع المثلث يسمى

(أ) وتر	(ب) ساق	(ج) مستقيم	(د) نقطة
---------	---------	------------	----------

٨. خط الاعداد الرأسي في المستوى الإحداثي يسمى

(أ) زوج مرتب	(ب) المحور السيني	(ج) نقطة الاصل	(د) المحور الصادي
--------------	-------------------	----------------	-------------------

٩. مجموعة من القطع المستقيمة في مستوى متقطعة في نهاياتها وتكون شكل مغلق

(أ) المجسم	(ب) الدائرة	(ج) المضلع	(د) الكرة
------------	-------------	------------	-----------

١٠. المثلث القائم الزاوية هو مثلث أحد زواياه

(أ) حادة	(ب) قائمة	(ج) مستقيمة	(د) منفرجة
----------	-----------	-------------	------------

٣

(ب) أوجدني ناتج ما يلي:

$$(١) \frac{1}{٦} \times \frac{1}{٦} =$$

$$(٢) \left(\frac{1}{٣}\right)^\circ =$$

السؤال الثالث:

١٥

أ) ضعي علامة √ أمام العبارة الصحيحة وعلامة × أمام العبارة الخاطئة:

١. تكتب م $\times \frac{5}{6} \times \frac{5}{6} \times م$ بالصيغة الاسية $(\frac{5}{6})^2 \times م^3$ ()

٢. ناتج جمع $\frac{5}{9} + \frac{7}{9}$ هو $\frac{21}{81}$ ()

٣. $١ = ٠٥$ ()

٤. إذا كان $ج^2 = أ^2 + ب^2$ فإن المثلث ليس قائم لزاوية ()

٥. الوتر هو أطول أضلاع المثلث القائم الزاوية ()

٦. التمديد الذي عامل مقياسه ٤ تكون الصورة أصغر من الشكل الأصلي ()

٧. إذا كانت أطوال الأضلاع المتناظرة متناسبة فإن المضلعين متشابهين ()

٨. المحور السيني هو خط الأعداد الرأسي ()

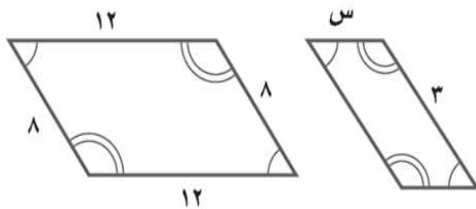
٩. إذا كان ناتج ضرب عددين يساوي ١ فإن كلا منهما يسمى نظيرًا ضربيًا ()

١٠. تدعى الأعداد ٢ ، ٣ ، ٥ ، ٧ مربعات كاملة ()

١٠

ب) إذا كان المضلعان متشابهان فاكتبي تناسبًا وحليه لإيجاد القياس الناقص:

٢



٣

ج) حددي ما إذا كان المثلث الذي أطوال أضلاعه ٤م ، ٧م ، ٥م قائم الزاوية أم لا؟

انتهت الاسئلة.. تمنياتي لك بالتوفيق

والنجاح.. ودمت في حفظ الله

اختبار الرياضيات لصف الثاني متوسط الفصل الدراسي الأول (الدور الأول) لعام ١٤٤٤هـ

٤٠

٤٠

الاسم: نموذج الإجابة رقم الجلوس:

عزيزتي: طريق النجاح مزدحم، لكن طريق التميز خالي، فكوني أنت أول الذين يمرون به.

استعيني بالله ثم أجيبي عن الاسئلة التالية:

السؤال الأول:

١٢

١٢

أ) أكمل الفراغات التالية بما يناسبها:

١. يكتب العدد ١ و ٦، $\times ١٠$ بالصيغة القياسية ٦١٠ (١)

٢. $\sqrt{36} = \dots\dots\dots$ (١)

٣. تسمى الاجزاء المتقابلة في الأشكال المتشابهة أجزاء متطابقة (١)

٤. يكتب الكسر الاعتيادي $\frac{3}{5}$ على صورة كسر عشري ١,٥ (١)

٥. تسمى العلاقة التي تمثل بيانياً بخط مستقيم علاقة خطية (١)

٦. الصيغة العلمية طريقة مختصرة لكتابة الأعداد التي قيمتها المطلقة كبيرة جداً أو صغيرة جداً.

٧. يسمى العدد الذي يمكن كتابته على صورة كسر عدداً عدد نسبي (١)

٨. يعبر عن ناتج ضرب عوامل متكررة بـ القوى (١)

٩. معدل التغيير (١) هو معدل يصف كيف تتغير كمية ما في علاقتها بكمية أخرى.

١٠. تشكل مجموعتا الأعداد النسبية وغير نسبية معاً مجموعة الأعداد الحقيقية (١)

٢

٢

ب) حل التناسب التالي:

$$\frac{2}{8} = \frac{ص}{8}$$

$$\text{ص} = 8 \times 2 = 16 \quad (١)$$

$$\text{ص} = 16$$

$$\text{ص} = 2 \quad (١)$$

السؤال الثاني:

أ) اختاري الاجابة الصحيحة من بين الخيارات التالية:

٦ (أ)	٧ (ب)	٨ (ج)	٩ (د)
-------	-------	-------	-------

١. ٣٢ تساوي

صحيح (أ)	غير نسبي (ب)	نسبي (ج)	كلي (د)
----------	--------------	----------	---------

٢. $\sqrt{32}$ عدد

٦١٠ × ٣٧٢٥ (أ)	٦١٠ × ٣٧٢٥ (ب)	٦١٠ × ٣٧٢٥ (ج)	٦١٠ × ٣٧٢٥ (د)
----------------	----------------	----------------	----------------

٣. يمكن كتابة العدد ٣٧٢٥٠٠٠ بالصيغة العلمية

٩ (أ)	١٠ (ب)	٨ (ج)	١١ (د)
-------	--------	-------	--------

٤. أقرب عدد كلي لـ $\sqrt{83}$ هو

٧ (أ)	٥ (ب)	٧ (ج)	٥ (د)
-------	-------	-------	-------

٥. النظير الضربي لـ $\frac{5}{7}$

٧ (أ)	٥ (ب)	٧ (ج)	٥ (د)
-------	-------	-------	-------

٦. يمكن كتابة العبارة $8 \times 8 \times 8$ باستعمال الاسس

٨ (أ)	٦٤ (ب)	١٦ (ج)	١٦ (د)
-------	--------	--------	--------

٧. الضلع المقابل للزاوية القائمة هو أطول أضلاع المثلث يسمى

وتر (أ)	ساق (ب)	مستقيم (ج)	نقطة (د)
---------	---------	------------	----------

٨. خط الاعداد الراسي في المستوى الإحداثي يسمى

زوج مرتب (أ)	المحور السيني (ب)	نقطة الاصل (ج)	المحور الصادي (د)
--------------	-------------------	----------------	-------------------

٩. مجموعة من القطع المستقيمة في مستوى متقطعة في نهاياتها وتكون شكل مغلق

المجسم (أ)	الدائرة (ب)	المضلع (ج)	الكرة (د)
------------	-------------	------------	-----------

١٠. المثلث القائم الزاوية هو مثلث أحد زواياه

حادية (أ)	قائمة (ب)	مستقيمة (ج)	منفرجة (د)
-----------	-----------	-------------	------------

ب) أوجدي ناتج ما يلي:

$$\frac{1}{4} = \frac{1}{2} \times \frac{1}{2} \quad (1)$$

$$\left(\frac{1}{3}\right)^\circ = \frac{1}{3} \times \frac{1}{3} \times \frac{1}{3} \times \frac{1}{3} \times \frac{1}{3} = \frac{1}{3^5} \quad (2)$$

السؤال الثالث:

أ) ضعي علامة √ أمام العبارة الصحيحة وعلامة × أمام العبارة الخاطئة:

١. تكتب م $\times \frac{5}{6} \times \frac{5}{6} \times م$ بالصيغة الاسية $(\frac{5}{6})^2 \times م^3$ (✓) (١)

٢. ناتج جمع $\frac{5}{9} + \frac{7}{9}$ هو $\frac{21}{81}$ (×) (١)

٣. $١ = ٠.٥$ (✓) (١)

٤. إذا كان $ج^2 = أ^2 + ب^2$ فإن المثلث ليس قائم لزاوية (×) (١)

٥. الوتر هو أطول أضلاع المثلث القائم الزاوية (✓) (١)

٦. التمدد الذي عامل مقياسه ٤ تكون الصورة أصغر من الشكل الأصلي (×) (١)

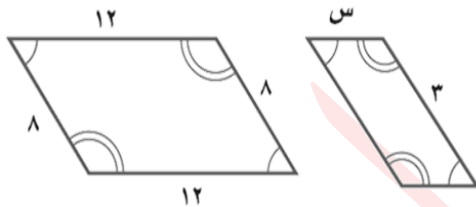
٧. إذا كانت أطوال الأضلاع المتناظرة متناسبة فإن المضلعين متشابهين (✓) (١)

٨. المحور السيني هو خط الأعداد الرأسي (×) (١)

٩. إذا كان ناتج ضرب عددين يساوي ١ فإن كلا منهما يسمى نظيرًا ضربيًا (✓) (١)

١٠. تدعى الأعداد ٢، ٣، ٥، ٧ مربعات كاملة (×) (١)

ب) إذا كان المضلعان متشابهان فاكتبي تناسبًا وحليه لإيجاد القياس الناقص:



(١) $\frac{3}{21} = \frac{s}{8}$

$٢٤ = ١٢س$

(١) $٢ = س$

ج) حددي ما إذا كان المثلث الذي أطوال أضلاعه ٤م، ٧م، ٥م قائم الزاوية أم لا؟

(١) $٢٥ + ٢٤ = ٢٧$

$٢٥ + ١٦ = ٤٩$

(١) $٤١ \neq ٤٩$

(١) المثلث ليس قائم لزاوية

انتهدك الاستلت.. تمنياتي لك بالتوفيق

والنجاح.. ورمك في حفظ الله

اليوم: الاحد		المملكة العربية السعودية
التاريخ: / / ١٤٤٤ هـ		وزارة التعليم
الزمن: ساعتان ونصف		الادارة العامة للتعليم ب
الصف: الثاني المتوسط		مكتب التعليم ب
الفترة: الأولى		مدرسة متوسطة
أسئلة اختبار نهاية الفصل الدراسي الاول لمادة الرياضيات(الدور الاول) للعام الدراسي ١٤٤٤ هـ		
اسم الطالب:	رقم الجلوس:	

السؤال	درجة الطالب	درجة السؤال
الأول		درجات
الثاني		درجات
الثالث		درجات
الدرجة كتابتاً من ٤٠		الدرجة رقماً من ٤٠
		٤٠
المعلم المصحح	التوقيع	
المعلم المراجع	التوقيع	

السؤال الأول:

Ⓐ أوجد ما يأتي في أبسط صورة:

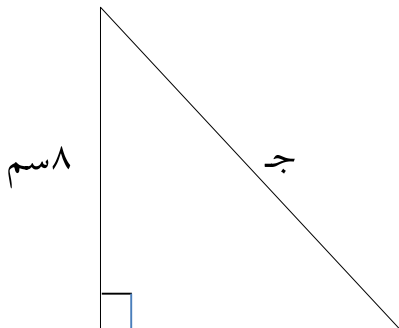
$$..... = (\frac{5}{6} -) + \frac{1}{6} - (2)$$

$$..... = \frac{3}{4} \div \frac{2}{3} (1)$$

$$..... = \frac{1}{4} \times 3 \frac{1}{3} (4)$$

$$..... = \frac{1}{6} + \frac{5}{8} (3)$$

Ⓑ أوجد طول الضلع المجهول في الشكل المجاور.



تابع بقية الاسئلة

ج) اختر الاجابة الصحيحة فيما يلي

١			
لكتابة الكسر $\frac{2}{10}$ على صورة كسر عشري نكتب.....			
Ⓐ ٠,٤	Ⓑ ٠,٨	Ⓒ ٠,٦	Ⓓ ٠,٧٥
٢			
عند مقارنة الكسرين ٠,٢٢ ، $\frac{11}{50}$ نجد أن			
Ⓐ $\frac{11}{50} < ٠,٢٢$	Ⓑ $\frac{11}{50} > ٠,٢٢$	Ⓒ $\frac{11}{50} = ٠,٢٢$	Ⓓ $\frac{11}{50} \leq ٠,٢٢$
٣			
يكتب العدد ٧,٤٢ × ١٠ ^٥ بالصورة القياسية كما يلي			
Ⓐ ٧,٤٢	Ⓑ ٧٤٢٠٠٠	Ⓒ ٧٤٢	Ⓓ ٠,٠٠٠٠٧٤٢
٤			
تقدير $\sqrt{60}$ إلى أقرب عدد كلي يساوي.....			
Ⓐ ٧	Ⓑ ٩	Ⓒ ١٠	Ⓓ ٨
٥			
يصنف العدد $\sqrt{17}$ بأنه عدد			
Ⓐ نسبي	Ⓑ صحيح ونسبي	Ⓒ نسبي وكلي	Ⓓ غير نسبي
٦			
أي أطوال اضلاع المثلث تمثل مثلث قائم الزاوية			
Ⓐ ٤ م ، ٧ م ، ٥ م	Ⓑ ٣٦ م ، ٤٨ م ، ٦٠ م	Ⓒ ٩ م ، ٨ م ، ٧ م	Ⓓ ١٠ م ، ٦ م ، ٤ م
٧			
إذا كان محيط المربع أ يساوي ٢٨ وحدة ، ومحيط المربع ب يساوي ٤٢ وحدة فإن عامل المقياس بين المربعين يساوي			
Ⓐ $\frac{2}{3}$	Ⓑ $\frac{3}{2}$	Ⓒ $\frac{2}{5}$	Ⓓ $\frac{5}{3}$
٨			
س × س × ٣ × ٢ × ص			
Ⓐ ٣ س ص	Ⓑ ٢ س ^٢ ص	Ⓒ ٦ س ص	Ⓓ ٢ س ^٢ ص

هامش

السؤال الثاني :

٢) أكمل الفراغات التالية بما يناسبها :

١) يكتب العدد ٠,١١٤ بالصيغة العلمية

٢) هو الضلع المقابل للزاوية القائمة وهو أطول أضلاع المثلث .

٣) إذا كان $\sqrt{ص} = ٥$ فإن $ص =$

٤) تكتب العبارة $٧ \times ٧ \times ٧ \times ٧ \times ٧$ باستعمال الأسس على الصورة.....

٥) التمدد الذي عامل مقياسه أصغر من ١ يؤدي إلى

٦) تم ترتيب ١٠٠ مقعد في حفل مسرحي على شكل مربع عدد المقاعد في كل صف

٧) النظير الضربي للعدد $-\frac{٣}{٤}$ هو

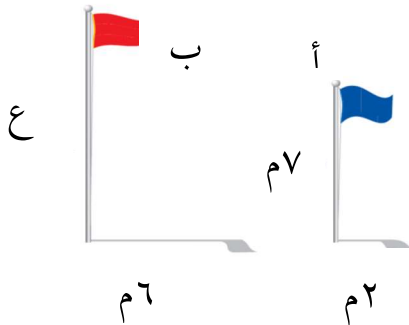
٨) اشترك ٢٠ طالب في نشاطات مختلفة ه في الإذاعة و٩ في الرياضة وطالبين في النشاطان معا ماعدد الذين اشتركوا بالرياضة فقط

ب) يبين الجدول الآتي طول ثامر عندما كان عمره ٨ سنوات و ١١ سنة .

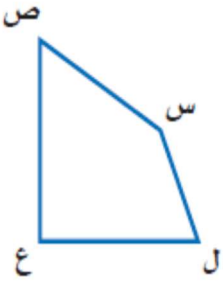
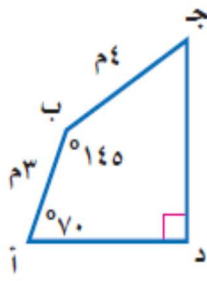
أوجد معدل التغير في طوله خلال هذين العمرين .

الطول (سم)	١٣٠	١٤٥
العمر (سنة)	٨	١١

ج) في الشكل المجاور : ما ارتفاع العلم ب ؟



هامش

		٤) ضع علامة (✓) أو (X) أمام العبارات التالفة
()		١) إذا كانت الكميتين متناسبتين فإن النسبة بينهما ثابتة
()		٢) إذا كان معدل التغير موجب فإنه يتناقص
()		٣) أي عدد غير الصفر مرفوع للأس صفر يساوي ١.
()		٤) الجذر التربيعي لعدد ما هو أحد عامليه الغير متساويين.
()		٥) إذا كان معدل التغير ثابت فإن العلاقة تكون خطية
()		٦) في المضلعات المتشابهة الزوايا المتناظرة متناسبة

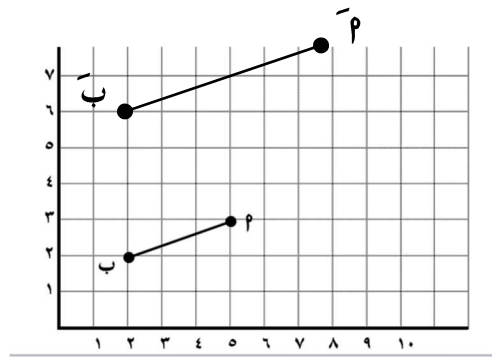
ب) في الشكل المقابل: أ ب ج د \cong ل س ص ع أوجد القياسات

الآتية:

١) ق د س .

٢) س ص .

٣) ق د ص .



ج) إذا كانت $\vec{بپ}$ تممدا ل $\vec{بپ}$ فإن

١) عامل مقياس التمدد =

٢) ويصنف على أنه

هامش

انتهت الاسئلة