

تم تحميل هذا الملف من موقع المناهج السعودية



الملف اختبار فصل الإحصاء

[موقع المناهج](#) ⇐ [المناهج السعودية](#) ⇐ [الصف الثاني المتوسط](#) ⇐ [رياضيات](#) ⇐ [الفصل الثاني](#)

الملف اختبار فصل الإحصاء

[موقع المناهج](#) ⇐ [المناهج السعودية](#) ⇐ [الصف الثاني المتوسط](#) ⇐ [رياضيات](#) ⇐ [الفصل الثاني](#)

المزيد من الملفات بحسب الصف الثاني المتوسط والمادة رياضيات في الفصل الثاني

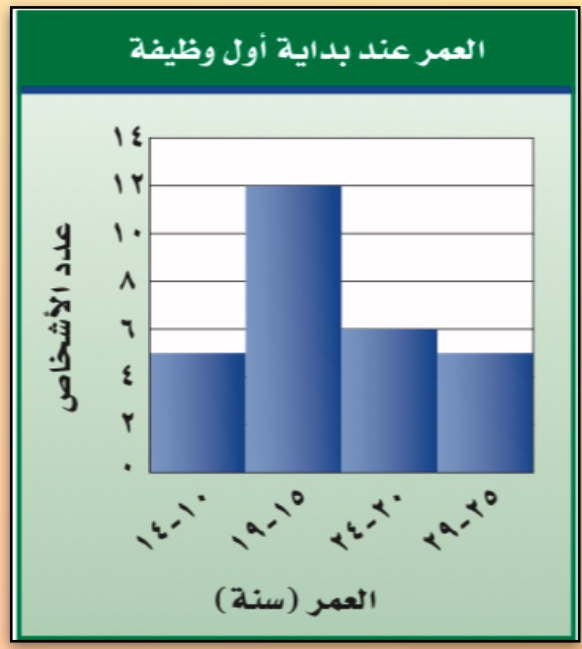
تحميل كتاب الطالب	1
الأسئلة المفسوحة الواردة في دراسة 2011	2
دليل التقويم	3
ملخص الحجم	4
قوانين مساحة السطوح	5



* اختار الإجابة الصحيحة فيما يلي :

* تبث إذاعة القرآن الكريم في الشهر ٣٠ حلقة فما عدد الحلقات التي تبثها في ٨ أشهر ؟

(أ) ٣٨	(ب) ٥٤	(ج) ١٢٠	(د) ٢٤٠
--------	--------	---------	---------

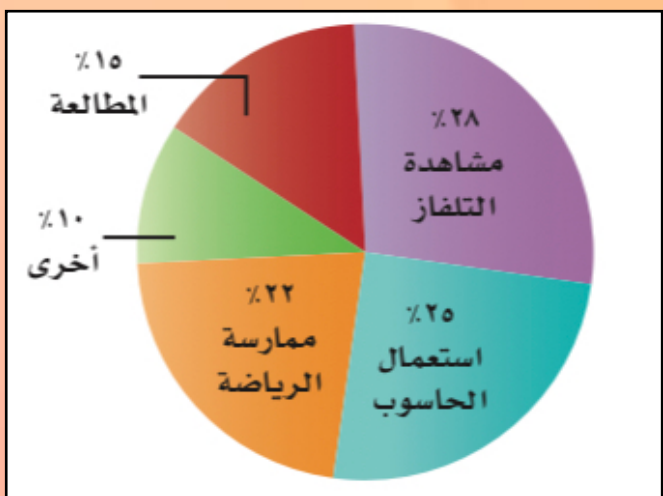


* كم شخصا بدأوا وظائفهم عندما كانت أعمارهم من ٢٠ سنة إلى أقل من ٣٠ ؟

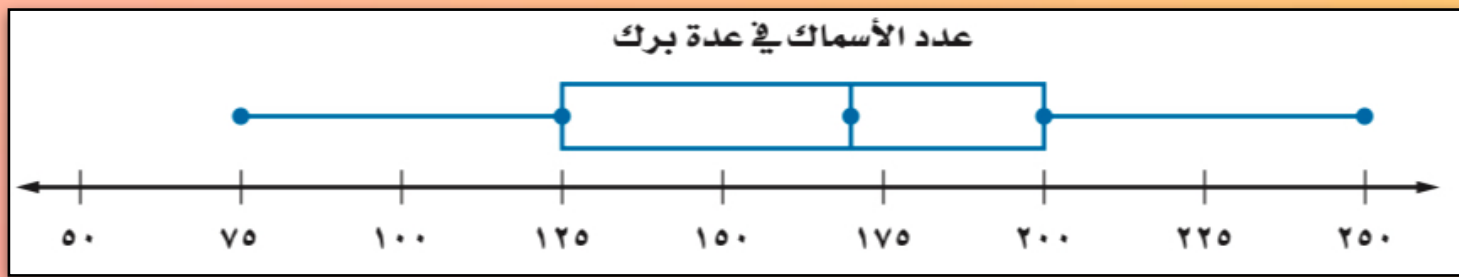
(أ) ٥	(ب) ٦	(ج) ١١	(د) ١٢
-------	-------	--------	--------

* أكثر هواية يمارسها طلاب الصف الثاني المتوسط من خلال التمثيل هي :

(أ) المطالعة	(ب) مشاهدة التلفاز	(ج) الرياضة	(د) الحاسوب
--------------	--------------------	-------------	-------------



* المدى الربيعي للبيانات في الشكل المجاور ؟

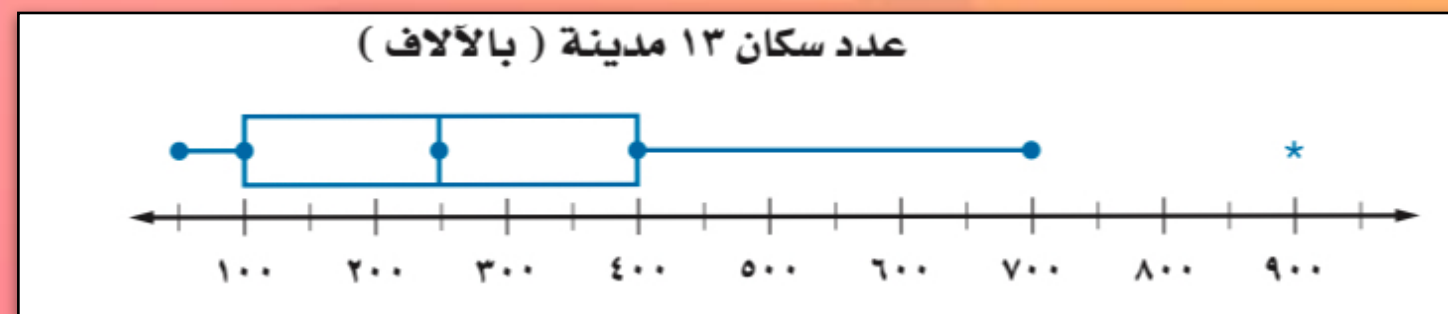


(أ) ٧٥	(ب) ١٥٠	(ج) ١٧٥	(د) ٢٠٠
--------	---------	---------	---------

* إذا كان أعمار إخوة خالد بالسنوات هي ٢٣ ، ١٦ ، ٥ ، ٦ ، ١٤ فأوجد الوسيط ؟

(أ) ١٦	(ب) ١٤	(ج) ٦	(د) ٥
--------	--------	-------	-------

* نسبة المدن التي يزيد عدد سكانها على ١٠٠٠٠٠ في الشكل المجاور ؟



(أ) ٢٥%	(ب) ٥٠%	(ج) ٧٥%	(د) ٨٥%
---------	---------	---------	---------

* كان عدد ساعات دراسة رغد خلال أربعة أيام متتالية على النحو الآتي : ساعة ، ٣ ساعات ، ساعتان ، ساعتان . فإذا درست ساعتين بدلاً من ساعة واحدة في اليوم الأول ، فأأي القيم ستقل ؟

(أ) المتوسط	(ب) الوسيط	(ج) المنوال	(د) المدى
-------------	------------	-------------	-----------

* الشكل المجاور يبين درجات اختبار مادة الرياضيات الدرجة الدنيا هي :

(أ) ٩٩	(ب) ٧٤	(ج) ٥٠	(د) ٤٩
--------	--------	--------	--------

درجات الرياضيات

الساق	الورقة
٥	٠ ٩
٦	٤ ٥ ٧ ٨
٧	٠ ٤ ٤ ٥ ٥ ٦ ٧ ٨ ٨
٨	٢ ٣ ٣ ٥ ٧ ٨
٩	٠ ١ ٥ ٥ ٩

٥٩ = ٥ | ٩





اختبار فصل الاحصاء

* اختار الإجابة الصحيحة فيما يلي :

* طريقة التمثيل المناسبة لتمثيل عدد مشتركى الهواتف النقالة للسنوات الخمس الأخيرة

(أ) الخطوط (ب) القطاعات الدائرية (ج) المدرج التكراري (د) أشكال فن

* طريقة التمثيل المناسبة لتوزيع دخل الأسرة على المتطلبات المنزلية ؟

(أ) الخطوط (ب) القطاعات الدائرية (ج) المدرج التكراري (د) أشكال فن

درجات الاختبار الشهري لفصلين في العلوم

الفصل (أ)	الساق	الفصل (ب)
٢٣٣٣٤٦٨٩٩	٠	٨٧٧٧٦٦٣٢
٠٠٠١٢٢٦	١	٥٤٣
١٠ = ١٠		١٣ = ٣١

* عدد طلاب الفصل (أ) في الشكل المجاور ؟

(أ) ١٠ (ب) ١٢ (ج) ١٦ (د) ١٩



* النسبة المئوية للقطاع (ب) في الشكل المجاور ؟

(أ) ١٠٠% (ب) ٧٥% (ج) ٥٠% (د) ٢٥%

* ضع إشارة ✓ أو ✗ أمام ما يناسبها :

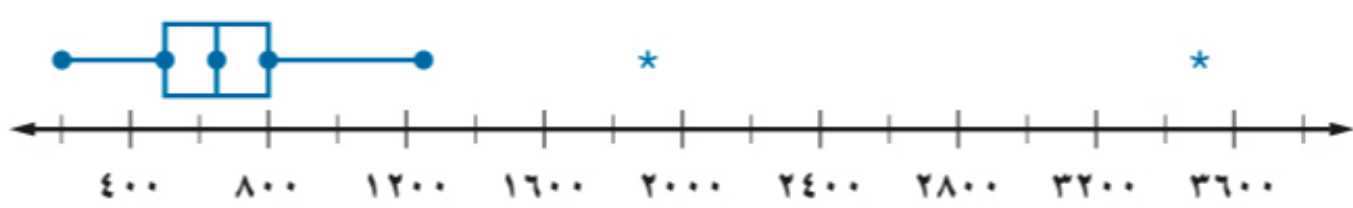


* عدد القوارب أكثر ضمن

الفئة ٤٩٩ - ٤٠٠ ()

* المنوال في البيانات التالية ٢٠، ٨، ١٥، ٨، ٩ هو العدد ٨ ()

مساحات عشر محميات طبيعية بالهكتار



* عدد القيم المتطرفة في الشكل

المجاور (٤) ()

* طريقة التمثيل المناسبة لبيانات اعداد المواطنين الذين يتقنون اللغة

الانجليزية أو الفرنسية هي اشكال فن ()

