

شكراً لتحميلك هذا الملف من موقع المناهج السعودية



ورقة عمل درس الإنسحاب

موقع المناهج ← المناهج السعودية ← الصف الثاني المتوسط ← رياضيات ← الفصل الثاني ← الملف

تاريخ نشر الملف على موقع المناهج: 07:20:51 2023-12-30

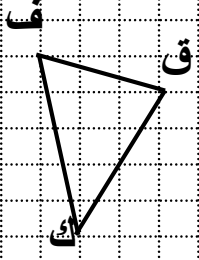
التواصل الاجتماعي بحسب الصف الثاني المتوسط



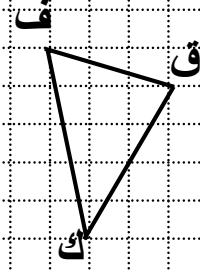
المزيد من الملفات بحسب الصف الثاني المتوسط والمادة رياضيات في الفصل الثاني

ورقة عمل درس التماثل	1
ورقة عمل علاقات الزوايا والمستقيمات	2
ورقة عمل تطابق المضلعات	3
ورقة عمل المضلعات والزوايا	4
اختبار الفصل الخامس الهندسة والاستدلال المكاني	5

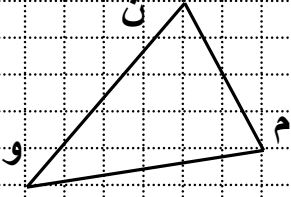
الانسحاب



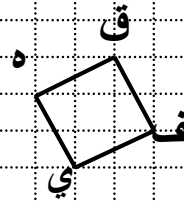
تأكد ٢: ارسمي صورة
المثلث ف ق ك
بانسحاب مقداره
وحدتان إلى اليمين و
٣ وحدات إلى أعلى



تأكد ١: ارسمي صورة
المثلث ف ق ك
بانسحاب مقداره ٤
وحدات إلى اليسار و
وحدة واحدة إلى أعلى



تدرب ٧:
بانسحاب مقداره
وحدتان إلى اليسار و
٥ وحدات إلى أسفل



تدرب ٦:
بانسحاب مقداره
٥ وحدات إلى اليمين
و ٣ وحدات إلى أعلى

تأكد ٣ و ٤: ارسمي صورة المثلث س ص ع
حيث س(-٤، -٤)، ص(-٣، -١)، ع(٢، -٢)
بعد كل انسحاب و اكتبتي إحداثيات رؤوس الصورة
٣ وحدات إلى اليمين و ٤ وحدات إلى الأعلى

س (-٤، -٤)

ص (-٣، -١)

ع (٢، -٢)

٤ وحدات إلى اليسار و ٣ وحدات إلى الأسفل

س (-٤، -٤)

ص (-٣، -١)

ع (٢، -٢)

تحقق من فهمك ب، ج: ارسمي صورة المثلث أ ب ج
حيث أ(-٣، -٤)، ب(٢، ٠)، ج(١، ٥)
بعد كل انسحاب و اكتبتي إحداثيات رؤوس الصورة
أولاً: وحدتين إلى أسفل

أ (-٣، -٤)

ب (٢، ٠)

ج (١، ٥)

ثانياً: ٤ وحدات يسار و ٣ وحدات إلى أعلى

أ (-٣، -٤)

ب (٢، ٠)

ج (١، ٥)

