

شكراً لتحميلك هذا الملف من موقع المناهج السعودية



ورقة عمل تطابق المضلعات

موقع المناهج ← المناهج السعودية ← الصف الثاني المتوسط ← رياضيات ← الفصل الثاني ← الملف

تاريخ نشر الملف على موقع المناهج: 07:06:53 2023-12-30

التواصل الاجتماعي بحسب الصف الثاني المتوسط



المزيد من الملفات بحسب الصف الثاني المتوسط والمادة رياضيات في الفصل الثاني

ورقة عمل المضلعات والزوايا	1
اختبار الفصل الخامس الهندسة والاستدلال المكاني	2
نموذج اختبار منتصف الفصل	3
بنك أسئلة مع اختبار	4
ورقة عمل درس المضلعات والزوايا	5

ورقة عمل

الفصل الدراسي الثاني ١٤٤٣هـ
ورقة عمل الثاني متوسط

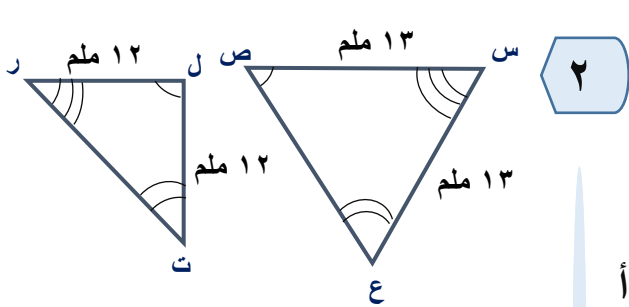
تطابق المضلعات

وزارة التعليم بالمنطقة
متوسطة

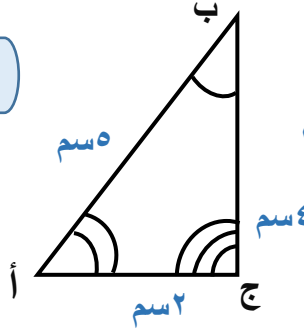
الاسم /

الصف /

السؤال الأول: حدد ما إذا كانت المضلعات المبينة أدناه متطابقة أم لا ، وإذا كانت كذلك فسم الأجزاء المتناظرة ، وأكتب عبارة التطابق .



٢

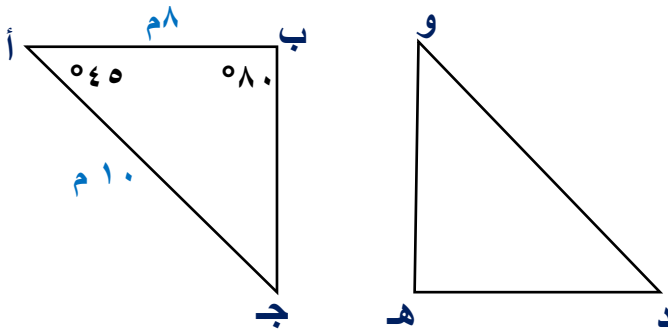


١

.....
.....
.....
.....

.....
.....
.....
.....

السؤال الثاني: في الشكل المجاور $\triangle أ ب ج \cong \triangle د ه و$ ، أوجد ما يأتي :



١ د و

٢ د ه

٣ ق د

٤ ق ه

معلم المادة / اسمه