

تم تحميل هذا الملف من موقع المناهج السعودية



الملف الإختبار التشخيصي الخاص بالفاقد التعليمي

[موقع المناهج](#) ← [المناهج السعودية](#) ← [الصف الثاني المتوسط](#) ← [رياضيات](#) ← [الفصل الأول](#)

الملف الإختبار التشخيصي الخاص بالفاقد التعليمي

[موقع المناهج](#) ← [المناهج السعودية](#) ← [الصف الثاني المتوسط](#) ← [رياضيات](#) ← [الفصل الأول](#)

المزيد من الملفات بحسب الصف الثاني المتوسط والمادة رياضيات في الفصل الأول

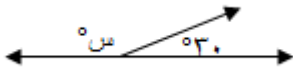
كتاب الطالب	1
دليل المعلم	2
تحميل كتاب الطالب	3
دليل التقويم	4
إختبار ثاني متوسط	5

الاختبار التشخيصي الخاص بالفاقد التعليمي للصف ٢ / م

١	في الشكل المقابل : قيمة س =				
	أ	ب	ج	د	
	١٢٠°	١٣٠°	١٤٠°	١٥٠°	
٢	مساحة شبه منحرف طولاً قاعدتيه ٤ سم ، ١٢ سم ، وارتفاعه ٧ سم يساوي				
	أ	ب	ج	د	
	٢٣ سم ^٢	٣٢ سم ^٢	٥٦ سم ^٢	١٠٢ سم ^٢	
٣	الشكل الذي يمثل مخروطاً هو				
	أ	ب	ج	د	
٤	مساحة الشكل المركب الآتي :				
	أ	ب	ج	د	
	٤٥ سم ^٢	٦٠ سم ^٢	٦٥ سم ^٢	٧٥ سم ^٢	
٥	محيط الدائرة في الشكل المقابل هو (علماً بأن $\pi \approx \frac{22}{7}$)				
	أ	ب	ج	د	
	٦٦ سم	٨٧ سم	١٢٠ سم	١٣٢ سم	
٦	قياس الزاوية في المضلع الخماسي المنتظم يساوي				
	أ	ب	ج	د	
	٥٤°	٣٦°	١٨°	١٠٨°	
٧	قياس الزاوية المجهولة في الشكل الرباعي				
	أ	ب	ج	د	
	١٠٠	١٦٠	٢٦٠	٣٦٠	
٨	الشكل الذي يمثل مضلعاً من بين الأشكال الآتية هو :				
	أ	ب	ج	د	
٩	العدد الذي ناتج ضربه في أربعة يساوي ناتج ضرب ثمانية في اثني عشر هو :				
	أ	ب	ج	د	
	٨	١٦	٢٤	٣٢	
١٠	الشكل الذي له قاعدة واحدة هو				
	أ	ب	ج	د	

(نموذج الإجابة) الاختبار التشخيصي الخاص بالفاقد التعليمي للصف ٢ / م

في الشكل المقابل : قيمة س =



١

١٥٠

د

١٤٠

ج

١٣٠

ب

١٢٠

أ

مساحة شبه منحرف طولاً قاعدتيه ٤ سم ، ١٢ سم ، وارتفاعه ٧ سم يساوي

١٠٢ سم^٢

د

٥٦ سم^٢

ج

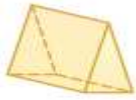
٣٢ سم^٢

ب

٢٣ سم^٢

أ

الشكل الذي يمثل مخروطاً هو



د



ج



ب

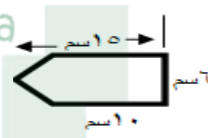


أ

٣

almanahj.com/sa

المنهج السعودية



مساحة الشكل المركب الآتي :

٤

٧٥ سم^٢

د

٦٥ سم^٢

ج

٦٠ سم^٢

ب

٤٥ سم^٢

أ

محيط الدائرة في الشكل المقابل هو (علماً بأن $\pi \approx \frac{22}{7}$)



٥

١٣٢

د

١٢٠

ج

٨٧

ب

٦٦

أ

قياس الزاوية في المضلع الخماسي المنتظم يساوي

١٠٨

د

١٨٠

ج

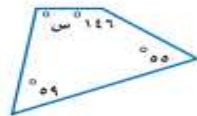
٣٦٠

ب

٥٤٠

أ

قياس الزاوية المجهولة في الشكل الرباعي



٧

٢٦٠

د

١٦٠

ج

١١٤

ب

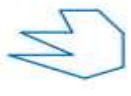
١٠٠

أ

الشكل الذي يمثل مضلعاً من بين الأشكال الآتية هو :



د



ج



ب



أ

٨

العدد الذي ناتج ضربه في أربعة يساوي ناتج ضرب ثمانية في اثني عشر هو :

٣٢

د

٢٤

ج

١٦

ب

٨

أ

٩

الشكل الذي له قاعدة واحدة هو



د



ج



ب



أ

١٠