


شكراً لتحميلك هذا الملف من موقع المناهج السعودية



ورقة عمل درس مساحة الاشكال المركبة

موقع المناهج ← المناهج السعودية ← الصف الثاني المتوسط ← رياضيات ← الفصل الثالث ← الملف

تاريخ نشر الملف على موقع المناهج: 15:56:54 2024-03-04

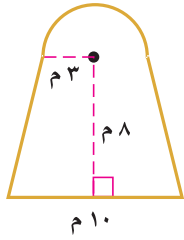
التواصل الاجتماعي بحسب الصف الثاني المتوسط



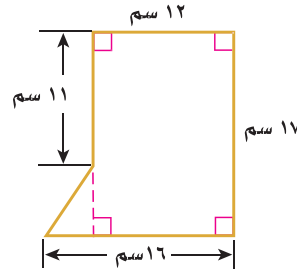
المزيد من الملفات بحسب الصف الثاني المتوسط والمادة رياضيات في الفصل الثالث

يوربوينت تهيئة الفصل الثامن المساحة والحجم	1
خطة توزيع المنهج على أسابيع الفصل الثالث	2
نموذج إجابة اختبار نهائي الدور الأول	3
اختبار نهائي الدور الأول	4
أسئلة مراجعة الفصل الثامن المساحة والحجم مع نموذج الإجابة	5

المثال ١: أوجد مساحة الشكلين الآتيين، مقررًا الجواب إلى أقرب جزء من عشرة إذا لزم ذلك:



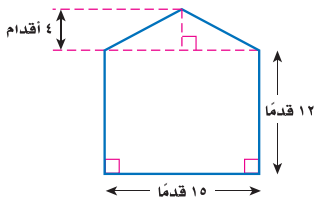
(٢)



(١)

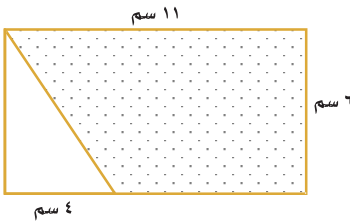
المثال ٢:

(د) أكواخ: بين الشكل المجاور الواجهة الخلفية لكوخ خشبي، فكم قدمًا مربعة من الخشب تستعمل في بناء هذه الواجهة؟



المثال ٣:

(٤) بين الشكل أدناه مستطيلًا قُصّ منه مثلث. أوجد مساحة المنطقة المظللة.



تدريب على اختبار

(١٩) تدريب على اختبار: ما المساحة الكلية للشكل أدناه؟

(أ) ٩٢,٩ سم^٢

(ب) ٦٤,٣ سم^٢

(ج) ٥٦,٥ سم^٢

(د) ٣٦,٠ سم^٢

