

روابط مجموعات المناهج السعودية

كل ما يحتاجه الطالب في جميع الصفوف من أوراق عمل واختبارات ومذكرات, يجده هنا في الروابط التالية لأفضل مواقع المناهج السعودية:

القناة الرسمية لموقع المناهج السعودية : www.almanahj.com/sa

روابط مجموعات الواتساب

[الصف الأول الابتدائي](#)

[الصف الثاني الابتدائي](#)

[الصف الثالث الابتدائي](#)

[الصف الرابع الابتدائي](#)

[الصف الخامس الابتدائي](#)

[الصف السادس الابتدائي](#)

[الصف الأول متوسط](#)

[الصف الثاني متوسط](#)

[الصف الثالث متوسط](#)

[الصف الأول الثانوي](#)

[الصف الثاني الثانوي العلمي](#)

[الصف الثاني الثانوي الأدبي](#)

[الصف الثالث الثانوي العلمي](#)

[الصف الثالث الثانوي الأدبي](#)

[مجموعة أخبار التربية](#)

روابط مجموعات التلغرام

[الصف الأول](#)

[الصف الثاني](#)

[الصف الثالث](#)

[الصف الرابع](#)

[الصف الخامس](#)

[الصف السادس](#)

[الصف الأول متوسط](#)

[الصف الثاني متوسط](#)

[الصف الثالث متوسط](#)

[الصف الأول الثانوي](#)

[الصف الثاني الثانوي الأدبي](#)

[الصف الثاني الثانوي العلمي](#)

[الصف الثالث الثانوي الأدبي](#)

[الصف الثالث الثانوي العلمي](#)





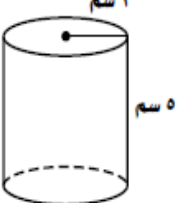
[المناهج السعودية](#)

اختبار دوري الفصل السادس للصف الثاني متوسط /..... / 1432 هـ

الفصل 2/.....

اسم الطالبة :

أوجدني الناتج كما هو مطلوب

			1 (لحساب مساحة الدائرة بالشكل نكتب
$ط \times 9^2$	$ط \times 9$	$ط \times 18$	
			2) أوجدني مساحة المنطقة المظللة ؟
			
20 مرة	24 مرة	25 مرة	3) لقص أنبوب طويل الى 25 قطعه صغيرة فإننا سنستخدم المنشار
			4) حددي اسم الجسم و اذكرى عدد أوجهه و أحرفه و رؤوسه ؟
			
$156سم^3$	$480سم^3$	$240سم^3$	5) حجم المنشور بالشكل يساوي
			
			6) ما مساحة الملصق الورقي اللازم لتغطية السطح الجانبي للاسطوانه بالشكل ؟
			
10 ط	15 ط	60 ط	7) إن حجم مخروط طول قطر قاعدته = 6 وحدات و ارتفاعه 5 وحدات
			8) أكملني: هرم رباعي منتظم مساحته الجانبية 36 سم ² و طول ارتفاعه المائل 8 سم فإن طول ضلع قاعدته =

ملاحظة : درجة لكل اختبار و درجة و نصف لكل حل