

تم تحميل هذا الملف من موقع المناهج السعودية



الملف الإختبار التشخيصي الخاص بالفاقد التعليمي

[موقع المناهج](#) ⇨ [المناهج السعودية](#) ⇨ [الصف الثاني المتوسط](#) ⇨ [رياضيات](#) ⇨ [الفصل الأول](#)

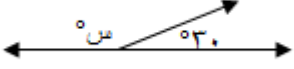




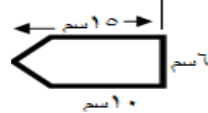

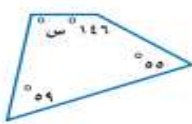





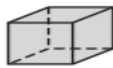


الملف الإختبار التشخيصي الخاص بالفاقد التعليمي

[موقع المناهج](#) ⇨ [المناهج السعودية](#) ⇨ [الصف الثاني المتوسط](#) ⇨ [رياضيات](#) ⇨ [الفصل الأول](#)

المزيد من الملفات بحسب الصف الثاني المتوسط والمادة رياضيات في الفصل الأول

<a href="#">كتاب الطالب</a>	1
<a href="#">دليل المعلم</a>	2
<a href="#">تحميل كتاب الطالب</a>	3
<a href="#">دليل التقويم</a>	4
<a href="#">إختبار ثاني متوسط</a>	5

الاختبار التشخيصي الخاص بالفاقد التعليمي للصف ٢ / م

١	في الشكل المقابل : قيمة س =								
أ	١٢٠°	ب	١٣٠°	ج	١٤٠°	د	١٥٠°		
٢	مساحة شبه منحرف طولاً قاعدتيه ٤ سم ، ١٢ سم ، وارتفاعه ٧ سم يساوي .....	أ	٢٣ سم <sup>٢</sup>	ب	٣٢ سم <sup>٢</sup>	ج	٥٦ سم <sup>٢</sup>	د	١٠٢ سم <sup>٢</sup>
٣	الشكل الذي يمثل مخروطاً هو .....	أ		ب		ج		د	
٤	مساحة الشكل المركب الآتي :								
أ	٤٥ سم <sup>٢</sup>	ب	٦٠ سم <sup>٢</sup>	ج	٦٥ سم <sup>٢</sup>	د	٧٥ سم <sup>٢</sup>		
٥	محيط الدائرة في الشكل المقابل يساوي تقريبا: ..... ( علماً بأن $\frac{22}{7} \approx \pi$ )								
أ	٦٦ سم	ب	٨٧ سم	ج	١٢٠ سم	د	١٣٢ سم		
٦	قياس الزاوية في المضلع الخماسي المنتظم يساوي .....	أ	٥٤٠°	ب	٣٦٠°	ج	١٨٠°	د	١٠٨°
٧	قياس الزاوية المجهولة في الشكل الرباعي								
أ	١١٤°	ب	١٦٠°	ج	٢٦٠°	د	٣٦٠°		
٨	الشكل الذي يمثل مضلعاً من بين الأشكال الآتية هو :	أ		ب		ج		د	
٩	العدد الذي ناتج ضربه في أربعة يساوي ناتج ضرب ثمانية في اثني عشر هو :	أ	٨	ب	١٦	ج	٢٤	د	٣٢
١٠	الشكل الذي له قاعدة واحدة هو .....	أ		ب		ج		د	



الاختبار التشخيصي الخاص بالفاقد التعليمي للصف ٢ / م

١	في الشكل المقابل : قيمة س =								
أ	١٢٠°	ب	١٣٠°	ج	١٤٠°	د	١٥٠°		
٢	مساحة شبه منحرف طولاً قاعدتيه ٤ سم ، ١٢ سم ، وارتفاعه ٧ سم يساوي .....	أ	٢٣ سم <sup>٢</sup>	ب	٣٢ سم <sup>٢</sup>	ج	٥٦ سم <sup>٢</sup>	د	١٠٢ سم <sup>٢</sup>
٣	الشكل الذي يمثل مخروطاً هو .....	أ		ب		ج		د	
٤	مساحة الشكل المركب الآتي :								
أ	٤٥ سم <sup>٢</sup>	ب	٦٠ سم <sup>٢</sup>	ج	٦٥ سم <sup>٢</sup>	د	٧٥ سم <sup>٢</sup>		
٥	محيط الدائرة في الشكل المقابل يساوي تقريباً ..... ( علماً بأن $\pi \approx \frac{22}{7}$ )								
أ	٦٦ سم	ب	٨٧ سم	ج	١٢٠ سم	د	١٣٢ سم		
٦	قياس الزاوية في المضلع الخماسي المنتظم يساوي .....	أ	٥٤°	ب	٣٦°	ج	١٨°	د	١٠٨°
٧	قياس الزاوية المجهولة في الشكل الرباعي								
أ	١٠٠°	ب	١١٤°	ج	١٦٠°	د	٢٦٠°		
٨	الشكل الذي يمثل مضلعاً من بين الأشكال الآتية هو :	أ		ب		ج		د	
٩	العدد الذي ناتج ضربه في أربعة يساوي ناتج ضرب ثمانية في اثني عشر هو :	أ	٨	ب	١٦	ج	٢٤	د	٣٢
١٠	الشكل الذي له قاعدة واحدة هو .....	أ		ب		ج		د	