

تم تحميل هذا الملف من موقع المناهج السعودية



*للحصول على أوراق عمل لجميع الصفوف وجميع المواد اضغط هنا

<https://www.almanahj.com/sa>

* للحصول على أوراق عمل لجميع مواد الصف الثاني المتوسط اضغط هنا

<https://almanahj.com/sa/8>

* للحصول على جميع أوراق الصف الثاني المتوسط في مادة رياضيات ولجميع الفصول, اضغط هنا

<https://almanahj.com/sa/8math>

* للحصول على أوراق عمل لجميع مواد الصف الثاني المتوسط في مادة رياضيات الخاصة بـ الفصل الثاني اضغط هنا

<https://www.almanahj.com/sa/8math2>

* لتحميل كتب جميع المواد في جميع الفصول للـ الصف الثاني المتوسط اضغط هنا

<https://www.almanahj.com/sa/grade8>

للحصول على جميع روابط الصفوف على تلغرام وفيسبوك من قنوات وصفحات: اضغط هنا <https://me.t://https>

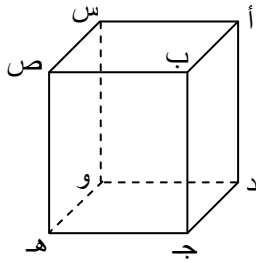
ورقة عمل في الفصل السادس (المساحة والحجم)
في مادة الرياضيات للصف الثاني المتوسط - الفصل الدراسي الثاني

الصف: ٢ /

اسم الطالب:

السؤال الأول:

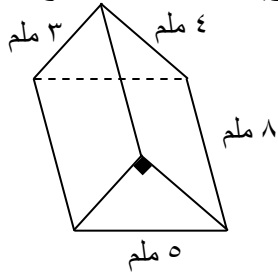
- (أ) اختر الإجابة الصحيحة فيما يلي:
(١) عدد الأوجه في المنشور الثلاثي هو: (أ) ٦ (ب) ٩ (ج) ٥
(٢) عدد الرؤوس في الهرم الخماسي هو: (أ) ٦ (ب) ٥ (ج) ١٠
(٣) عدد المرات التي سيستعملها النجار لقص قطعة خشب إلى ١٥ قطعة هو: (أ) ١٥ (ب) ١٤ (ج) ١٦
(٤) يسمى المستقيمان اللذان لا يتقاطعان ولا يقعان في المستوى نفسه: (أ) مستقيمين متخالفين (ب) مستقيمين متوازيين (ج) مستقيمين متعامدين
(٥) حجم الاسطوانة هو ناتج: (أ) محيط القاعدة \times الارتفاع (ب) مساحة القاعدة \times الارتفاع (ج) المساحة الجانبية + مساحة القاعدتين



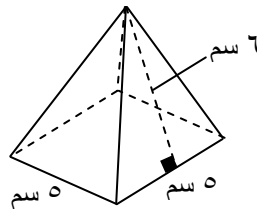
(ب) استعمل الشكل المجاور وحدد ما يلي:

- (١) عدد الأوجه =
(٢) عدد الأحرف =
(٣) مستويين متقاطعين: و
(٤) مستويين متوازيين: و
(٥) نقطتين تشكلان قطراً عند الوصل بينهما: و
(٦) مستقيمين متخالفين: و

(ج) المساحة الكلية لسطح المنشور

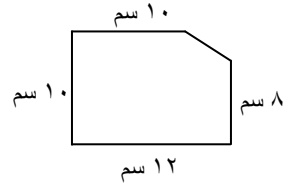


(ب) المساحة الجانبية لسطح الهرم

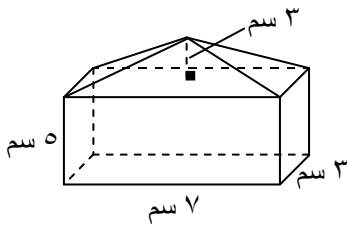


السؤال الثاني: أوجد ما يلي:

(أ) مساحة الشكل المركب



(ب) حجم الجسم المركب



السؤال الثالث: أوجد حجم كل شكل مما يلي:

(أ) حجم المخروط

