

مراجعہ الفصل السادس للصف الثاني متوسط

اسم الطالبہ.....

اکملي الفراغات التاليہ

(1) مساحة متوازي الاضلاع

.....=

(2) مساحة المثلث

.....=

.....

(3) مساحة شبه

المنحرف=

.....

(4) مساحة الدائرة

.....=

(5) الشكل المركب

هو.....

(6) حجم المنشور الثلاثي

.....=

(7) حجم المنشور الرباعي

.....=

(8) حجم الاسطوانة

.....=

(9) حجم الهرم الثلاثي

.....=

(10) حجم الهرم الرباعي

.....=

(11) حجم المخروط

.....=

..

(12) المساحة الكلية للمنشور=..... المساحة الجانبيه

.....=

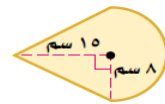
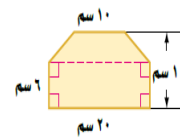

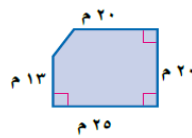
(13) المساحة الكلية للاسطوانة=..... المساحة الجانبيه

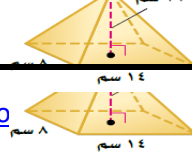
.....=

(14) المساحة الكلية للهرم=..... المساحة الجانبيه للهرم

.....=

اوجدي مساحة الاشكال الاتيه





اكمل الجدول التالي

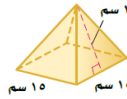
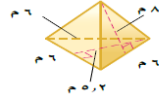
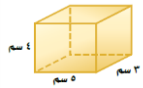

العدد			الاسم	الشكل
الرؤوس	الأحرف	الأوجه		
.....	
.....	
.....	
.....	

اوجدي حجم كل من مما يأتي

الحجم	الشكل او الوصف
	1- اسطوانه نصف قطرها 2م وارتفاعها 7م
	2- اسطوانه قطرها 18سم وارتفاعها 5سم
	3- 3-
	4- 4-
	5- 5-
	6- مخروط ارتفاعه 14م ونصف قطر قاعدته = 3م
	7- 7-
	8- 8-
	9-

اوجدي المساحة الجانبية والكلية لما يلي

المساحة الكلية	المساحة الجانبية	الشكل او الوصف
----------------	------------------	----------------

		 <p>18 سم 15 سم</p>	-1
		 <p>8.3 سم 6 سم</p>	-2
		 <p>4 سم 3 سم 5 سم</p>	-3
		 <p>10 سم 7 سم 8 سم</p>	-4
		5- اسطوانه ارتفاعها 10ملم ونصف قطر قاعدتها=5ملم	