

تم تحميل هذا الملف من موقع المناهج الإماراتية



*للحصول على أوراق عمل لجميع الصفوف وجميع المواد اضغط هنا

<https://almanahj.com/sa>

* للحصول على أوراق عمل لجميع مواد الصف الثاني المتوسط اضغط هنا

<https://almanahj.com/sa/8>

* للحصول على جميع أوراق الصف الثاني المتوسط في مادة رياضيات وجميع الفصول, اضغط هنا

<https://almanahj.com/sa/8>

* للحصول على أوراق عمل لجميع مواد الصف الثاني المتوسط في مادة رياضيات الخاصة بـ اضغط هنا

<https://almanahj.com/sa/8>

* لتحميل كتب جميع المواد في جميع الفصول للـ الصف الثاني المتوسط اضغط هنا

<https://almanahj.com/sa/grade8>

للتحدث إلى بوت المناهج على تلغرام: اضغط هنا

https://t.me/almanahj_bot



حجم المنشور

الفصل /

الإسم /

السؤال الأول : اختر الإجابة الصحيحة

حجم المنشور يساوي

ب (مساحة القاعدة \times الارتفاع


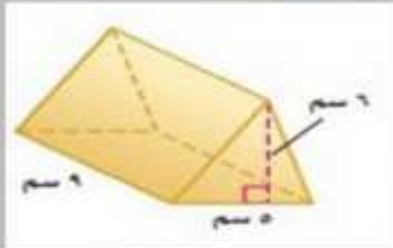


أ (محيط القاعدة \times الارتفاع


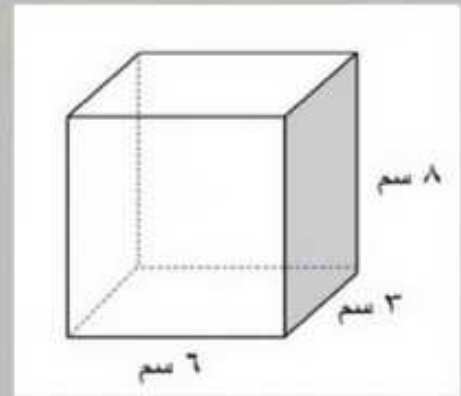


السؤال الثاني : احسب حجم المنشور التالي :

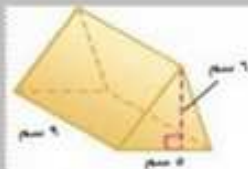
ب



أ



السؤال الثالث : ضع علامة \checkmark تحت الطالب صاحب الجواب الصحيح



اكتشف الخطأ، أوجد كلٌّ من زيد ولوي حجم المنشور المجاور، فأتهما توصل للجواب الصحيح؟



لوي

$$\begin{aligned} 4 \times 6 &= 24 \\ 9 \times (6 \times 6 \times \frac{1}{4}) &= 24 \\ 2 \times 120 &= 240 \text{ سم}^3 \end{aligned}$$

$$\begin{aligned} 4 \times 6 &= 24 \\ 6 \times (5 \times 6) &= 24 \\ 2 \times 70 &= 140 \text{ سم}^3 \end{aligned}$$



زيد