

## شكراً لتحميلك هذا الملف من موقع المناهج السعودية



## مهمة أدائية مساحة الأشكال المركبة

[موقع المناهج](#) ← [المناهج السعودية](#) ← [الصف الثاني المتوسط](#) ← [رياضيات](#) ← [الفصل الثالث](#) ← [الملف](#)

تاريخ نشر الملف على موقع المناهج: 06:39:39 2024-03-08

## التواصل الاجتماعي بحسب الصف الثاني المتوسط



## المزيد من الملفات بحسب الصف الثاني المتوسط والمادة رياضيات في الفصل الثالث

<a href="#">ورقة عمل درس مساحة الأشكال المركبة</a>	1
<a href="#">بوربوينت تهيئة الفصل الثامن المساحة والحجم</a>	2
<a href="#">خطة توزيع المنهج على أسابيع الفصل الثالث</a>	3
<a href="#">نموذج إجابة اختبار نهائي الدور الأول</a>	4
<a href="#">اختبار نهائي الدور الأول</a>	5

# مهمة أدائية "مساحة الأشكال المركبة"

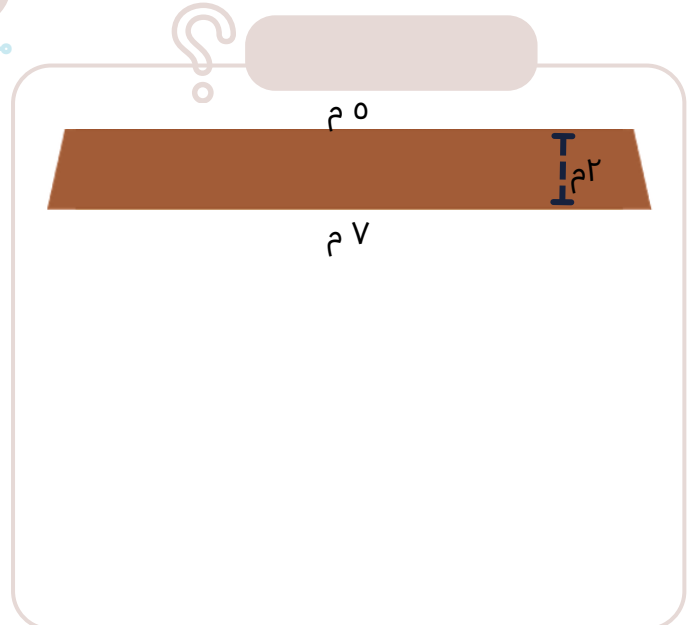
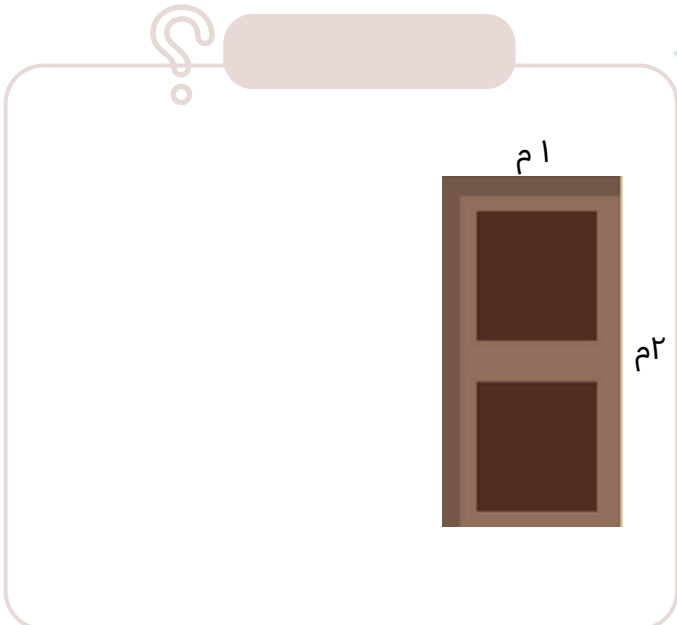
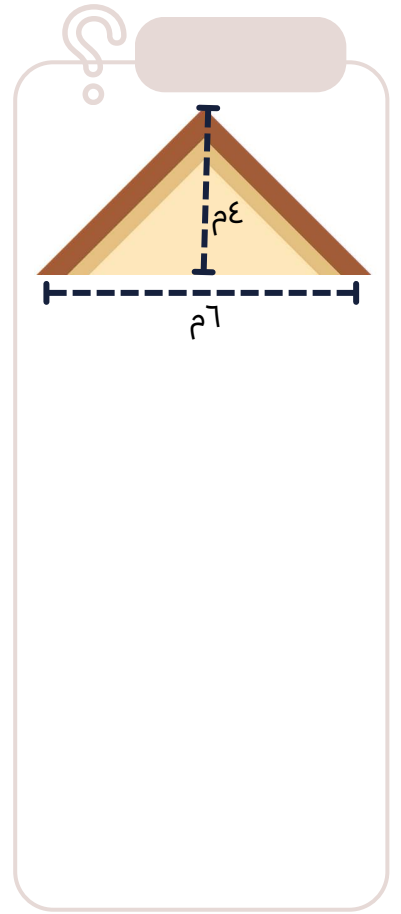

الصف : ثاني متوسط

الإسم :



وزارة الإسكان  
MINISTRY OF HOUSING

■ صف الأشكال المحددة من المنزل ثم أوجد مساحة هذه الأشكال ؟



ماجد الحريش