

## روابط مجموعات المناهج السعودية

كل ما يحتاجه الطالب في جميع الصفوف من أوراق عمل واختبارات ومذكرات, يجده هنا في الروابط التالية لأفضل مواقع المناهج السعودية:

القناة الرسمية لموقع المناهج السعودية : [www.almanahj.com/sa](http://www.almanahj.com/sa)

### روابط مجموعات الواتساب

[الصف الأول الابتدائي](#)

[الصف الثاني الابتدائي](#)

[الصف الثالث الابتدائي](#)

[الصف الرابع الابتدائي](#)

[الصف الخامس الابتدائي](#)

[الصف السادس الابتدائي](#)

[الصف الأول متوسط](#)

[الصف الثاني متوسط](#)

[الصف الثالث متوسط](#)

[الصف الأول الثانوي](#)

[الصف الثاني الثانوي العلمي](#)

[الصف الثاني الثانوي الأدبي](#)

[الصف الثالث الثانوي العلمي](#)

[الصف الثالث الثانوي الأدبي](#)

[مجموعة أخبار التربية](#)

### روابط قنوات التلغرام

[الصف الأول](#)

[الصف الثاني](#)

[الصف الثالث](#)

[الصف الرابع](#)

[الصف الخامس](#)

[الصف السادس](#)

[الصف الأول متوسط](#)

[الصف الثاني متوسط](#)

[الصف الثالث متوسط](#)

[الصف الأول الثانوي](#)

[الصف الثاني الثانوي الأدبي](#)

[الصف الثاني الثانوي العلمي](#)

[الصف الثالث الثانوي الأدبي](#)

[الصف الثالث الثانوي العلمي](#)

[المناهج السعودية](#)



الدرجة	رقماً	كتاباً
اسم المصححة	التوقيع	
اسم المراجعة	التوقيع	

عدد أوراق الأسئلة ( 3 )  
اختبار الفصل الثاني الدور الأول

اسم الطالبة: .....
رقم الجلوس: .....

السؤال الأول :

أ - اختاري الإجابة الصحيحة وذلك بوضع علامة ( ✓ ) في الدائرة المناسبة :

1	أين تنتج خلايا الدم الحمراء
أ -	العظم الكثيف <input type="radio"/>
ب -	الغضروف <input type="radio"/>
ج -	نخاع العظم <input type="radio"/>
د -	العضلات <input type="radio"/>
2	أي أجزاء النبات يعمل على تثبيته في التربة
أ -	الساق <input type="radio"/>
ب -	الأوراق <input type="radio"/>
ج -	الجذر <input type="radio"/>
د -	الثغر <input type="radio"/>
3	أي مما يلي يستطيع تحويل الطاقة الضوئية إلى طاقة كهربائية
أ -	الخلايا الشمسية <input type="radio"/>
ب -	المنشور <input type="radio"/>
ج -	محطات الطاقة النووية <input type="radio"/>
د -	محطات الطاقة الجوفية <input type="radio"/>
4	أي العمليات التالية تحدث عندما يتلامس جسمان مختلفان في درجتي الحرارة
أ -	حمل حراري <input type="radio"/>
ب -	إشعاع <input type="radio"/>
ج -	توصيل حراري <input type="radio"/>
د -	تكاثر <input type="radio"/>
5	الوحدة التي تستخدم لقياس التردد هي
أ -	ديسيبل <input type="radio"/>
ب -	هرتز <input type="radio"/>
ج -	متر <input type="radio"/>
د -	نيوتن <input type="radio"/>
6	تتكاثر السرخسيات بواسطة
أ -	الأبواغ <input type="radio"/>
ب -	المخاريط <input type="radio"/>
ج -	البذور <input type="radio"/>
د -	الأزهار <input type="radio"/>

ب - اكتب المصطلح العلمي الدال على كل عبارة من العبارات التالية :

م	العبارة	المصطلح العلمي
1	الغطاء الخارجي الصلب للعظم	
2	تغير اتجاه الموجة الضوئية عندما تتغير سرعتها بسبب انتقالها من وسط لآخر	
3	عضلات تتحكمين أنت في حركتها	
4	احتجاز الغازات الموجودة في الغلاف الجوي لأشعة الشمس	






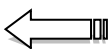
ج) ضعي علامة ( ✓ ) أمام العبارة الصحيحة وعلامة ( X ) أمام العبارة الخاطئة فيما يلي مع التصحيح:

{ }	ينتج الضباب الدخاني عن تفاعل ضوء الشمس مع الغازات المنبعثة من احتراق الوقود	-1
{ }	تسمى الطاقة الحرارية الموجودة في القشرة الأرضية بطاقة الحرارة النووية	-2
{ }	تحدث معظم مراحل عملية البناء الضوئي في الورقة في الطبقة الأسفنجية	-3
{ }	تعتبر الغدد اللعابية من الغدد الصماء	-4
{ }	الكدمات هي سحق للأوعية الدموية الصغيرة الموجودة تحت الجلد	-5
{ }	تعمل الثلاجة على نقل الطاقة الحرارية من داخلها إلى خارجها باستخدام غاز التبريد	-6
{ }	معرفة البذور نباتات وعائية تكون بذورها غير مُحاطة بثمار	-7
{ }	لتتكمّن العين من رؤية جسم ما لابد وأن يصدر أو ينعكس عنه ضوء	-8

السؤال الثاني :

أ- عزيزتي الطالبة المكتشفة ، ادرسي الأشكال التالية جيداً ثم اجيبي حسب ما هو مطلوب منك :

المطلوب من الشكل الأول	الشكل الأول	
ماوظيفة عظام الجمجمة .....		1
ما نوع مفاصل عظام الجمجمة .....		
المطلوب من الشكل الثاني	الشكل الثاني	
ما أسم هذا الجهاز .....		2
أين تحدث عملية الإباضة .....		
أين تحدث عملية الإخصاب .....		
أين تحدث عملية الإنزراع .....		
المطلوب من الشكل الثالث		
هذه الزهرة من نباتات ذوات الفلقة الواحدة أم ذوات الفلقتين ..... وذلك لأن بتلات الأزهار عددها .....		3
الحزم الوعائية في هذه النباتات تترتب في صورة .....		



ب ) اكملها كلا من العبارات التالية بما يناسبها علمياً

- 1 - تستخدم أشعة ..... لقتل البكتيريا التي تسبب فساد الأطعمة.
  - 2 - التوائم ..... تنمو من بويضتين مختلفتين خُصبتا من حيوانين مختلفين.
  - 3 - يعتبر ضوء الشمس من الموارد .....
  - 4- تساهم مركبات الفلور وكلوروكربون في تحلل طبقة .....
  - 5 - يُقاس الطول الموجي بوحدة صغيرة جداً تسمى .....
- ج ) عللي لما يأتي تعليلاً علمياً مناسباً

1. تبطن أسقف و جدران قاعات الإحتفالات بمواد لينة .

.....

2. تسمية نبات حشيشة الكبد بهذا الاسم.

.....

3- حزازيات قدم الذئب مهددة بالإنقراض

.....

السؤال الثالث:

أجبي عن الأسئلة التالية: [almanahj.com/sa](http://almanahj.com/sa)

أ ) . وأنتِ تبحثين في جهازك الحاسوبي عن موضوع الحرارة شعرتِ بسخونة في جزءه السفلي ... أي أنواع الحمل الحراري يستخدم الحاسوب من أجل إحاطة المكونات الإلكترونية بالهواء البارد.؟

.....

ب) ذهبت إحدى السيدات لمستشفى النساء والولادة لتضع مولدها الأول فقرر لها الطبيب عملية قيصرية.. ماسب تقرير الطبيب لها بالعملية القيصرية .؟

.....

ج ) أشار مقياس الحرارة في يوم صيفي إلى القراءة 86 ف كم تساوي هذه الدرجة على المقياس السيليزي ؟

.....

.....

.....

د) وحدة تركيب الجهاز العصبي هي العصبونات أو الخلايا العصبية.. وضحى بالرسم وكتابة البيانات عليه مكونات

الخلية العصبية..؟ 

إنتهت بحمد الله