

تم تحميل هذا الملف من موقع المناهج السعودية



موقع المناهج المنهاج السعودي

*للحصول على أوراق عمل لجميع الصفوف وجميع المواد اضغط هنا

<https://www.almanahj.com/sa>

* للحصول على أوراق عمل لجميع مواد الصف الثاني المتوسط اضغط هنا

<https://almanahj.com/sa/8>

* للحصول على جميع أوراق الصف الثاني المتوسط في مادة رياضيات ولجميع الفصول, اضغط هنا

<https://almanahj.com/sa/8math>

* للحصول على أوراق عمل لجميع مواد الصف الثاني المتوسط في مادة رياضيات الخاصة بـ الفصل الثاني اضغط هنا

<https://www.almanahj.com/sa/8math2>

* لتحميل كتب جميع المواد في جميع الفصول للـ الصف الثاني المتوسط اضغط هنا

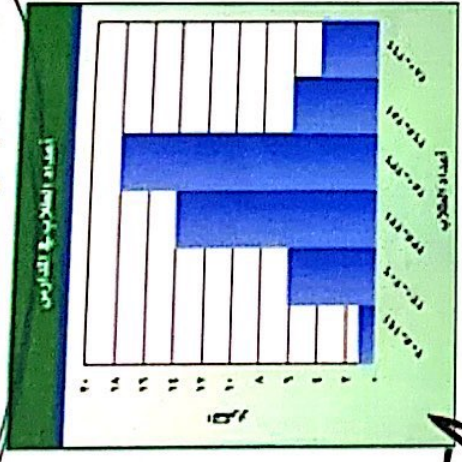
<https://www.almanahj.com/sa/grade8>

للحصول على جميع روابط الصفوف على تلغرام وفيسبوك من قنوات وصفحات: اضغط هنا

<https://t.me/sacourse>

التمثيل بالأعمدة والمدرجات التكرارية

بين الجدول التكراري التالي أعداد الطلاب في مجموعة من المدارس



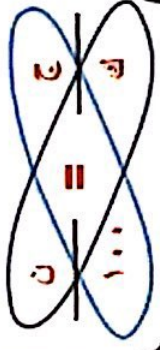
ما عدد المدارس الممثلة بالمدرج التكراري ؟

- ٤٩ مدرسة
- ٣٥ مدرسة
- ٥٢ مدرسة
- ٤٥ مدرسة

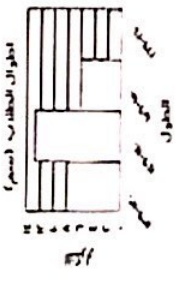


التحليل والتفسير

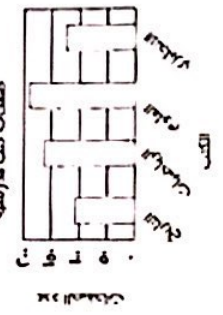
تفيد في تحديد الفئات التي تتجمع فيها أغلب البيانات أو أقلها وتحديد النسبة المئوية



نوع خاص من الأعمدة لتمثيل البيانات المنظمة في الفئات المتساوية في الطول

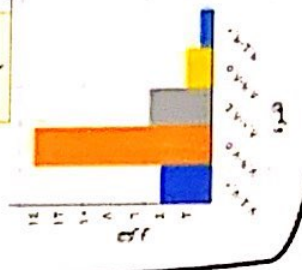


يستعمل للمقارنة بين البيانات



ما النسبة المئوية لعدد المدارس التي يزيد عدد طلابها عن ٢٣٥ طالباً ؟

المدارس	العدد
1	٧٠-٧٥
2	٧٥-٨٠
3	٨٠-٨٥
4	٨٥-٩٠
5	٩٠-٩٥



حدد التمثيل الصحيح

