

تم تحميل هذا الملف من موقع المناهج السعودية



الملف التهيئة للفصل التاسع

[موقع المناهج](#) ⇨ [المناهج السعودية](#) ⇨ [الصف الثاني المتوسط](#) ⇨ [رياضيات](#) ⇨ [الفصل الثاني](#)

الملف التهيئة للفصل التاسع

[موقع المناهج](#) ⇨ [المناهج السعودية](#) ⇨ [الصف الثاني المتوسط](#) ⇨ [رياضيات](#) ⇨ [الفصل الثاني](#)

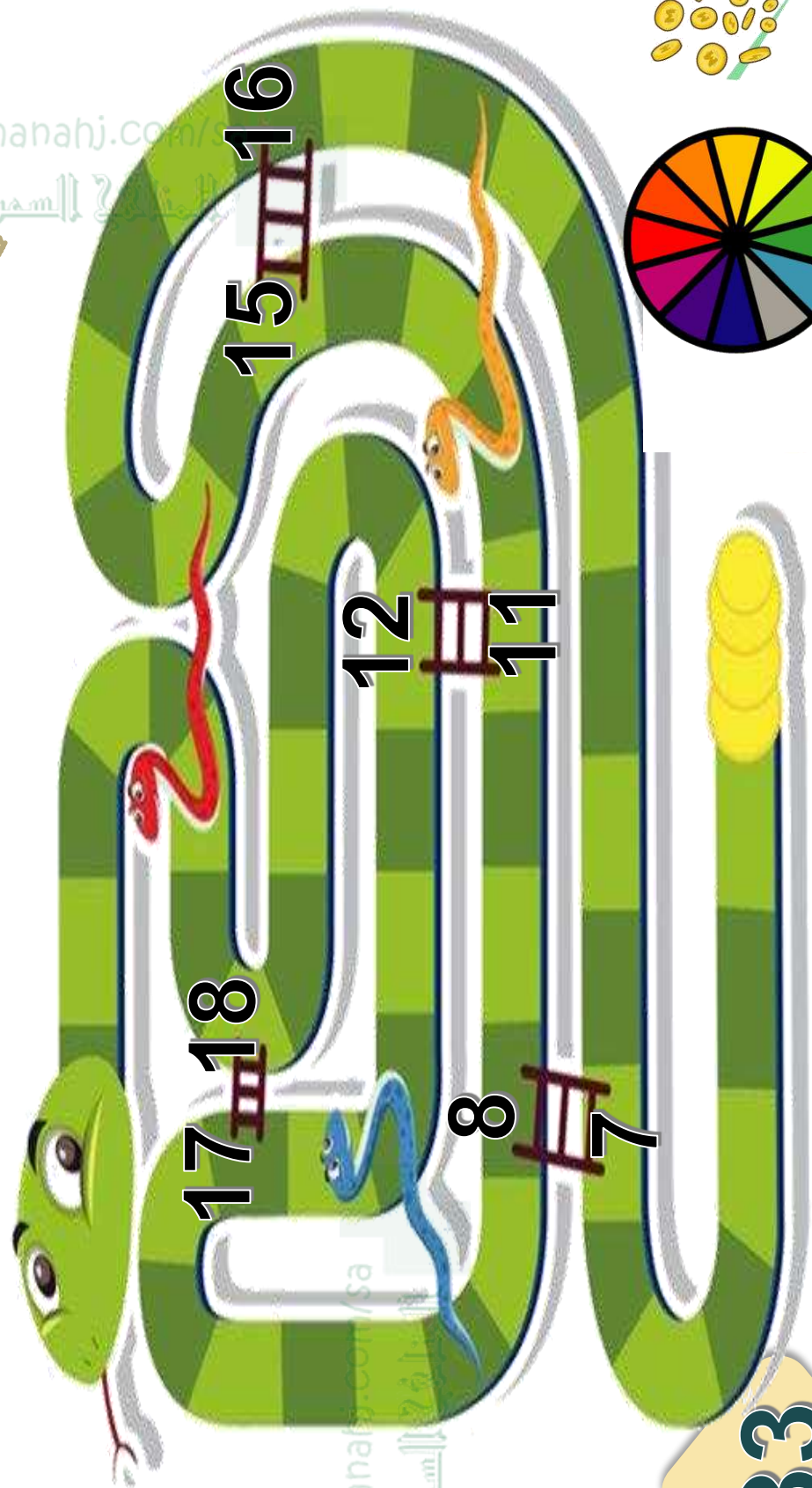
المزيد من الملفات بحسب الصف الثاني المتوسط والمادة رياضيات في الفصل الثاني

تحميل كتاب الطالب	1
الأسئلة المفسوحة الواردة في دراسة 2011	2
دليل التقويم	3
ملخص الحجم	4
قوانين مساحة السطوح	5



التهيئة

almanahj.com/...
المهوية



15 16

12 11

17 18

8 7



133




التهيئة

مثل مجموعة النقاط الآتية على خط الأعداد:

١ {١٦، ١٥، ١٠، ٨، ٧}

٢ {٣٠، ٢٥، ٢١، ٢٠، ١٥}



almanahj.com/sa

المنهج السعودية

133

@minnahj



التهيئة

أوجد نتائج الجمع أو الطرح: (مهارة سابقة)

٣ ٤
 $٢ + ٥ -$

٣ ٤
 $(٨-) + ٤ -$

٥ ٦
 $(٥-) - ١$

٥ ٦
 $(٣-) + ٧$

٧ **طقس:** كانت درجة الحرارة الصغرى ليلاً في مدينة

تبوك ٣° س، في حين بلغت في الليلة التالية -٢° س.

فما الفرق بين الدرجتين؟ (مهارة سابقة)

التهيئة

رتب الأعداد النسبية الآتية من الأصغر إلى الأكبر: (الدرس ١-٢)

٨ ، ٢٣ ، ٠ ، ٣٢ ، ٢ ، ٠٣ ، ٠

٩ ، ٥ ، ٤٦ ، ٥ ، ٦٤ ، ٥ ، ٤

١٠ ، ١٠ ، ١٠ ، ١٠ ، ١ ، ١ ، ١

١١ **اتصالات:** بلغت تكلفة اتصالات كلٍّ من عبدالله

وسلطان ومحمد في هذا الشهر ٧١، ١٢٠ ،

١٧، ١٢٠، ٠٧، ١٢٠ ريالاً على الترتيب. رتب هذه

المبالغ ترتيباً تصاعدياً. (الدرس ١-٢)

almanahj.com/sa

المنهج السعودي

133

@minnahj



مجموعة راحة الأبحاث



التهيئة

حل المسائل الآتية : (الدرس 4-4)

أوجد قيمة 0.2% من 360 **12**

ما قيمة 36% من 360 ؟ **13**


أوجد قيمة 14% من 360 **14**

almanahj.com/sa

المنهج السعودية

133

@minnahj



الواجب:

almanarj.com/sa
المنارة السعودية

في المنصة



@mnaath

