

شكراً لتحميلك هذا الملف من موقع المناهج السعودية




ورقة عمل لدرس القطاعات الدائرية

موقع المناهج ← المناهج السعودية ← الصف الثاني المتوسط ← رياضيات ← الفصل الثاني ← الملف

تاريخ نشر الملف على موقع المناهج: 15:46:42 2024-01-14

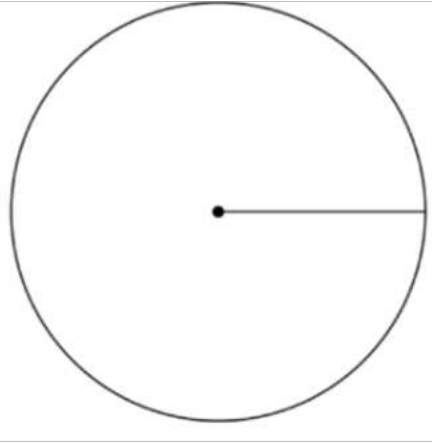
التواصل الاجتماعي بحسب الصف الثاني المتوسط



المزيد من الملفات بحسب الصف الثاني المتوسط والمادة رياضيات في الفصل الثاني

أوراق العمل للفترة الثانية	1
شرح درس المدرجات التكرارية	2
ورقة عمل درس الإنسحاب	3
ورقة عمل درس التماثل	4
ورقة عمل علاقات الزوايا والمستقيمات	5

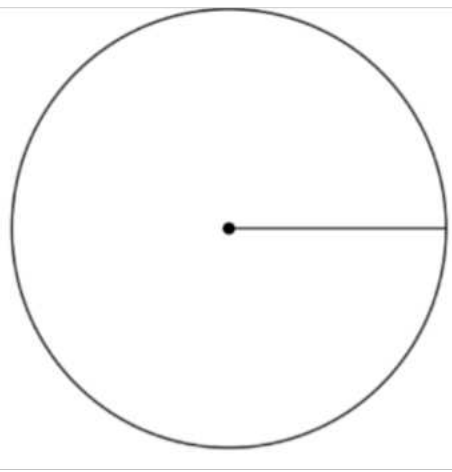
القطاعات الدائرية



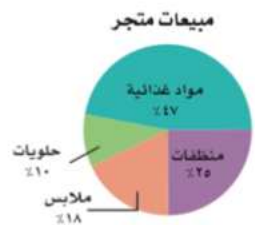
النسب المئوية لكمية البضائع في مستودعات شركة	
المدينة	النسبة المئوية
جدة	٪٢٦,٢
تبوك	٪٥
أبها	٪٢,٤
نجران	٪٤,٢
الرياض	٪٥٢,٦
الدمام	٪٩,٦

تحقق من فهمك: صفحـة ٩٨

(أ) بضائع: يمثل الجدول المجاور النسب المئوية لكمية البضائع في مستودعات شركة. مثل هذه البيانات بالقطاعات الدائرية.



مثلي البيانات التالية بالقطاعات الدائرية: صفحـة ١٠١



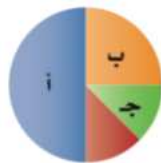
تحقق من فهمك: صفحـة ١٠٠

(ج) مبيعات: استعمل الشكل المجاور لتصف الأصناف المختلفة لمبيعات متجر.

وجبات الإفطار لطلاب التعليم العام يومياً



(د) وجبات: استعمل القطاعات الدائرية أدناه لتصف أعداد الطلاب والطالبات بحسب مرحلة التعليم الذين يتناولون وجبة الإفطار يومياً.



٢٦ الحس العددي: ما النسبة المئوية التي يمثلها كل من القطاعات أ، ب، ج، د في الشكل المجاور؟

مسائل صفحـة ١٠٢ مهارات التفكير العليا