

تم تحميل هذا الملف من موقع المناهج السعودية



## اختبار الفترة الثانية للفصل الخامس الهندسة والاستدلال المكاني

موقع المناهج ← المناهج السعودية ← الصف الثاني المتوسط ← رياضيات ← الفصل الثاني ← اختبارات ← الملف

تاريخ إضافة الملف على موقع المناهج: 2024-12-24 08:48:38

ملفات اكتب للمعلم اكتب للطالب | اختبارات الكترونية | اختبارات | حلول | عروض بوربوينت | أوراق عمل  
منهج انجليزي | ملخصات وتقارير | مذكرات وبنوك | الامتحان النهائي للمدرس

المزيد من مادة  
رياضيات:

## التواصل الاجتماعي بحسب الصف الثاني المتوسط



صفحة المناهج  
السعودية على  
فيسبوك

الرياضيات

اللغة الانجليزية

اللغة العربية

التربية الاسلامية

المواد على تلغرام

## المزيد من الملفات بحسب الصف الثاني المتوسط والمادة رياضيات في الفصل الثاني

اختبار منتصف الفصل الثاني

1

اختبار الفصل الخامس الهندسة والاستدلال المكاني

2

مهمة أدائية لدرس الانعكاس

3

اختبار الفصل الرابع النسبة المئوية

4

شرح درس الدوران

5

اختبار الفترة الثانية

وزارة التعليم  
متوسطة

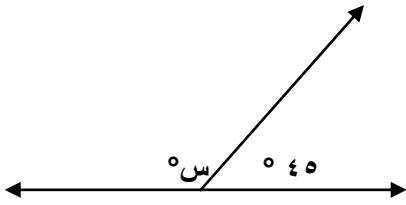
الفصل الدراسي الثاني ١٤٤٣ هـ  
أختبار رياضيات - ثاني متوسط

الاسم /

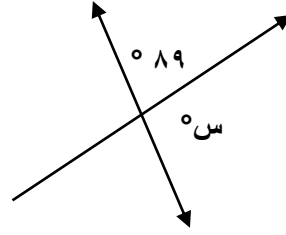
الصف /

٦ درجات

السؤال الأول: أوجد قيمة س في كل شكل من الأشكال الآتية؟



٢



١

.....  
.....

.....  
.....

٩ درجات

السؤال الثاني: أوجد مجموع قياسات الزوايا الداخلية لكل مضلع مما يأتي؟

سداسي

٣

ذوي ٢٠ ضلعا

٢

ذوي ١٨ ضلعا

١

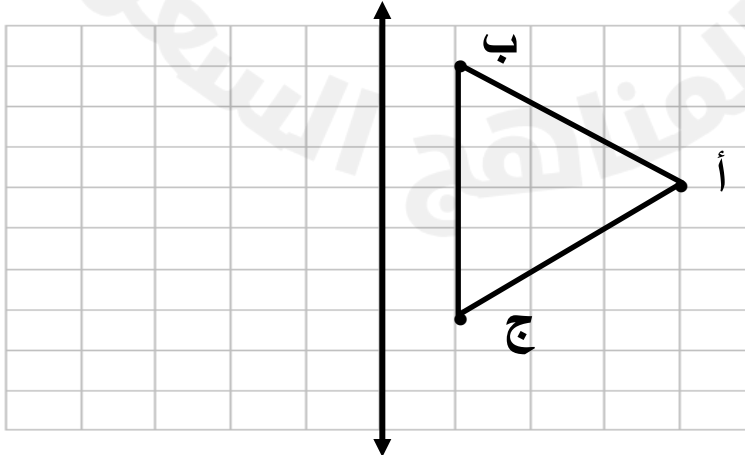
.....  
.....  
.....

.....  
.....  
.....

.....  
.....  
.....

٥ درجات

السؤال الأول: أرسم صورة الشكل بانعكاس حول المحور المعطى:



معلم المادة / أسامه

٢٠