

تم تحميل هذا الملف من موقع المناهج السعودية



# موقع المناهج المنهاج السعودي

\*للحصول على أوراق عمل لجميع الصفوف وجميع المواد اضغط هنا

<https://www.almanahj.com/sa>

\* للحصول على أوراق عمل لجميع مواد الصف الثاني المتوسط اضغط هنا

<https://almanahj.com/sa/8>

\* للحصول على جميع أوراق الصف الثاني المتوسط في مادة رياضيات ولجميع الفصول, اضغط هنا

<https://almanahj.com/sa/8math>

\* للحصول على أوراق عمل لجميع مواد الصف الثاني المتوسط في مادة رياضيات الخاصة بـ الفصل الثاني اضغط هنا

<https://www.almanahj.com/sa/8math2>

\* لتحميل كتب جميع المواد في جميع الفصول للـ الصف الثاني المتوسط اضغط هنا


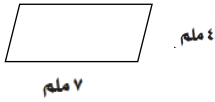
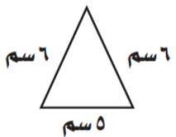
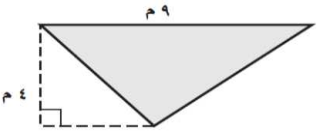
<https://www.almanahj.com/sa/grade8>

للحصول على جميع روابط الصفوف على تلغرام وفيسبوك من قنوات وصفحات: اضغط هنا

<https://t.me/sacourse>

الاختبار البعدي لمعالجة المهارات الأساسية - مادة الرياضيات - ٢ م ف ٢

المهارة : إيجاد مساحات و محيطات الأشكال ( المربع ، المستطيل ، الدائرة ، المثلث ، متوازي الأضلاع )

اسم الطالب :	زمن الاختبار: ٣٠ دقيقة
م	أوجد المطلوب لكل فقرة من الفقرات التالية :
١ .	أوجد محيط و مساحة الدائرة التي نصف قطرها يساوي ٦ سم ؟
٢ .	أوجد مساحة و محيط الشكل المقابل ؟ 
٣ .	أوجد محيط الشكل المقابل ؟ 
٤ .	أوجد محيط المثلث المقابل ؟ 
٥ .	أوجد مساحة المثلث المقابل ؟ 
٦ .	أوجد مساحة متوازي أضلاع طول قاعدته ٤ سم و ارتفاعه ٦ سم ؟
٧ .	أحاط محمد ملعباً مربع الشكل بشباك حيث كان طول ضلع الملعب ٥٠ م فكم طول الشباك المحاط بالملعب ؟