

تم تحميل هذا الملف من موقع المناهج السعودية



موقع المناهج المنهاج السعودي

*للحصول على أوراق عمل لجميع الصفوف وجميع المواد اضغط هنا

<https://www.almanahj.com/sa>

* للحصول على أوراق عمل لجميع مواد الصف الثاني المتوسط اضغط هنا

<https://almanahj.com/sa/8>

* للحصول على جميع أوراق الصف الثاني المتوسط في مادة لغة عربية ولجميع الفصول, اضغط هنا

<https://almanahj.com/sa/8arabic>

* للحصول على أوراق عمل لجميع مواد الصف الثاني المتوسط في مادة لغة عربية الخاصة بـ الفصل الثاني اضغط هنا

<https://www.almanahj.com/sa/8arabic2>

* لتحميل كتب جميع المواد في جميع الفصول للـ الصف الثاني المتوسط اضغط هنا

<https://www.almanahj.com/sa/grade8>

للحصول على جميع روابط الصفوف على تلغرام وفيسبوك من قنوات وصفحات: اضغط هنا

<https://t.me/sacourse>

بِسْمِ اللَّهِ الرَّحْمَنِ الرَّحِيمِ


ورقة عمل درس / الليل والنهار

الاسم/ الفصل/

• اكمل ما يأتي:-

- ١- المدة التي تدور بها الارض حول محورها تساوي مما يتسبب في حدوث و
- ٢- محور الارض هو
- ٣- يختلف طول الظل تبعاً الى
- ٤- تدور الارض حول

استخدم المسلمون اطوال الظل في تحديد



*- المملكة العربية كما في الصورة تكون في الليل ام النهار؟

.....

توقيع ولي الأمر	ملاحظات المعلمة	لم تتقن	أتقنت

بِسْمِ اللَّهِ الرَّحْمَنِ الرَّحِيمِ

ورقة عمل درس / سبب حدوث الفصول الأربعة

الفصل /

الأسو /

• اكمل ما يأتي:-

دوران الأرض حول الشمس في مدار يسمى مدار الأرض حول الشمس أدى إلى حدوث
٢- تدور الأرض دورة كاملة في مدارها مرة كل

*- قارني بين

الشتاء	الصيف

المدار :-



الصورة التي امامك في فصل من الفصول الأربعة ؟

توقيع ولي الأمر	ملاحظات المعلمة	لم تتقن	أتقنت

بِسْمِ اللَّهِ الرَّحْمَنِ الرَّحِيمِ

ورقة عمل درس / وصف المادة

الاسم / الفصل /

أحلمي

١- - المادة هي

٢ حالات المادة هي و..... و..... وتوجد حالة رابعة تسمى

*- من المواد الموجودة في البيت ؟

.....
..... و.....
..... و.....

- الخاصية هي ومن الخواص التي يمكن بها التفريق بين المواد على أساسها و.....

السائل	الغاز

المادة الموجودة في البالونات هي



توقيع ولي الأمر	ملاحظات المعلمة	لم تتقن	أتقنت

بِسْمِ اللَّهِ الرَّحْمَنِ الرَّحِيمِ


ورقة عمل درس / المواد الصلبة

الاسم/ الفصل/

• أكمل ما يأتي:-

- ١- - المادة الصلبة هي
- ٢- من خواص المواد الصلبة و.....
- ٣- من المواد الصلبة في المنزل و.....
- ٤- - تستخدم المسطرة في قياس بينما الميزان يستخدم لقياس

الصخر	الزجاج
الحالة.....	الحالة.....
الملمس.....	الملمس



حالة المادة في الصورة

توقيع ولي الأمر	ملاحظات المعلمة	لم تتقن	أتقنت

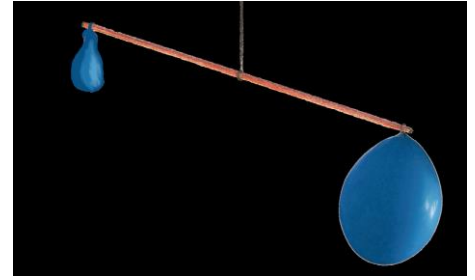
بِسْمِ اللَّهِ الرَّحْمَنِ الرَّحِيمِ

ورقة عمل درس / السوائل والغازات

الاسم / الفصل /


اكملني

- ١- السائل هو
- ٢- الغاز هو





هل للغاز كتلة ؟

.....



ما هو حجم السائل في كل

توقيع ولي الأمر	مخبر	ملاحظات المعلمة	لم تتقن	أتقنت
				

بِسْمِ اللَّهِ الرَّحْمَنِ الرَّحِيمِ

ورقة عمل درس / المادة تتغير

الاسم / الفصل /

اكمل

١- - التغير الفيزيائي هو

٢- من امثلة التغيرات الفيزيائية و



*- من امثلة التغيرات الكيميائية ؟

.....

.....



*- تغير شكل الورقة في الصورة يعتبر تغير

توقيع ولي الأمر	ملاحظات المعلمة	لم تتقن	أتقنت
			

بِسْمِ اللَّهِ الرَّحْمَنِ الرَّحِيمِ

ورقة عمل درس / تغير حالة المادة

الاسم/ الفصل/

أكملي

- ١- عند تسخين الثلج يتحول الى
- ٢- عند وضع الطعام في التلاجة فانه



*- ماذا يحدث للشمعة عندما تبرد؟

*- قارني بين كل من:-

التكثف	التبخر	الانصهار
هو تحول المادة من الصورة الى الصورة	هو تحول المادة من الصورة الى الصورة	هو تحول المادة من الصورة الى الصورة

توقيع ولي الأمر	ملاحظات المعلمة	لم تتقن	أتقنت

بِسْمِ اللَّهِ الرَّحْمَنِ الرَّحِيمِ

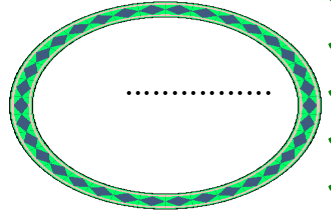
ورقة عمل درس / القوى تحرك الأشياء

الاسم/ الفصل/



اكمل ما يلي:

- ١ - القوة هي
٢ من الامثلة على القوة
٣ لجاذبية هي وتسمى ب.....

هي قوة توقف او تبطئ الأشياء



في الصورة يؤثر الولد
بقوة

توقيع ولي الأمر	ملاحظات المعلمة	لم تتقن	أتقنت
			

بِسْمِ اللَّهِ الرَّحْمَنِ الرَّحِيمِ

ورقة عمل درس / المغناطيسات

الاسم/ الفصل/

اكمل ما يأتي:-

- ١ - اداة مصنوعة من الحديد وتستخدم لجلب الحديد
- ٢ - يجذب الحديد و.....
- ٣ - عند تقريب قطب شمالي من اخر شمالي يحدث بينما عند تقريب قطب جنوبي من اخر شمالي يحدث
- ٤ - يستخدم المغناطيس في عمل و.....



ماذا تشاهد في
الصورة



في الصورة يحدث بين القطبين

توقيع ولي الأمر	ملاحظات المعلمة	لم تتقن	أتقنت

بِسْمِ اللَّهِ الرَّحْمَنِ الرَّحِيمِ

ورقة عمل درس /الحرارة

الاسم/ الفصل/

اكمل ما يأتي:-

١- الحرارة هي



٢ من مصادر الحرارة و

٣- المصدر الأساسي للحرارة



ما مصدر الحرارة في الصورة

.....

توقيع ولي الأمر	ملاحظات المعلمة	لم تتقن	أتقنت
			

بِسْمِ اللَّهِ الرَّحْمَنِ الرَّحِيمِ

ورقة عمل درس / استكشافه الكهرباء

الاسم/ الفصل/

اكمل ما يلي:

- ١- - الكهرباء هي
- ٢ انواع الكهرباء و.....
- ٣- - من مصادر الكهرباء المتحركة و.....
- ٤- - لمرور التيار الكهربائي يجب ان تكون الدائرة
- ٥- - صورة من صور الكهرباء الساكنة

*- ارسم دائرة كهربائية ؟

ما اسم الجهاز في الصورة وما اهميته ؟



.....

توقيع ولي الأمر	ملاحظات المعلمة	لم تتقن	أتقنت