

شكراً لتحميلك هذا الملف من موقع المناهج السعودية



مراجعة الفصل الرابع النسبة المئوية

موقع المناهج ← المناهج السعودية ← الصف الثاني المتوسط ← رياضيات ← الفصل الثاني ← الملف

تاريخ نشر الملف على موقع المناهج: 19:46:08 2023-12-06

التواصل الاجتماعي بحسب الصف الثاني المتوسط



المزيد من الملفات بحسب الصف الثاني المتوسط والمادة رياضيات في الفصل الثاني

اختبار منتصف الفصل الرابع النسبة المئوية	1
يوروبينت اختبار منتصف الفصل الرابع النسبة المئوية محلولة	2
أسئلة اختبار تشخيصي	3
التهيئة للفصل الرابع النسبة المئوية محلولة	4
اختبار نهائي الدور الأول	5



مجموعة رفعة التعليمية

تموير - إنتاج - توثيق

math

النسبة المئوية





مجموعة رفعة التعليمية

تموير - إنتاج - توثيق

* إيجار النسب المئوية ذهنيا

* النسبة المئوية و التقدير

* استراتيجيات حل المسألة

التحقق من معقولية الإجابة

* المعادلة المئوية

* التغير المئوي





مجموعة رفعة التعليمية

تموير - إنتاج - توثيق

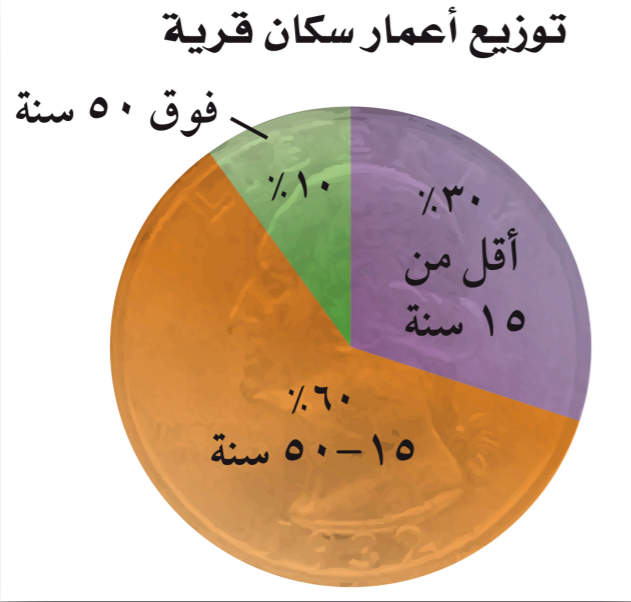
* احسب ذهنيا؟

العبارة	٩٠٪ من ٧٠٠	٦٠٪ من ١٥٠	١٠٪ من ٤٦٠	٩٥٪ من ٤٨
الحل				

* وضع كيف تحسب ٧٥٪ من ٤٠؟



* كم عدد سكان القرية الذين لا تزيد أعمارهم عن ٥٠ سنة؟



* كم عدد سكان القرية الذين تقل أعمارهم عن ١٥ سنة؟

٢٦ **اكتشف الخطأ** : يحاول ناصر وعلي حساب ١٠٪ من ٩٥ . أيهما على صواب ؟
فسّر ذلك.



علي

$$١٠\% \text{ من } ٩٥ = ٩,٥$$

$$١٠\% \text{ من } ٩٥ = ٩٥,٠$$



ناصر





مجموعة رفاة التعليمية

تموير - إنتاج - توثيق

* قدر؟

العبرة	٤٩٪ من ١٨٠	٤١٪ من ٥١	٤١٪ من ٣٩	٢٩٪ من ٦٠
الحل				

* ✓ أم ✗

(١) إذا تم تقريب كل من العدد و النسبة المئوية إلى العدد الأكبر ، فسيكون التقدير أكبر من الإجابة الحقيقية ()



* قدر النسبة المئوية؟


العبارة	٦ من ٣٥	١٤ من ٥١	٨ من ٧٩	٩ من ٢٥
الحل				

* استعمل الحساب الذهني لتحديد أيهما أكبر : ٢٤% من ٤٨ أم ٥١% من ٢٤؟





* تصنع ليان قلادة باستخدام نمط من الخرز الأزرق و الأخضر و الأبيض ، كما في الشكل . ما النسبة المئوية للخزرات الخضراء في القلادة ؟





اختيار من متعدد: في كيس ١٩٢ كرة ملونة؛



$\frac{1}{3}$ ٣٣٪ منها لونها أحمر . ما عدد الكرات غير

الحمراء؟ (الدرس ٤ - ١)

ج) ٦٠

أ) ١٢٨

د) ٥٧

ب) ٦٤





٧

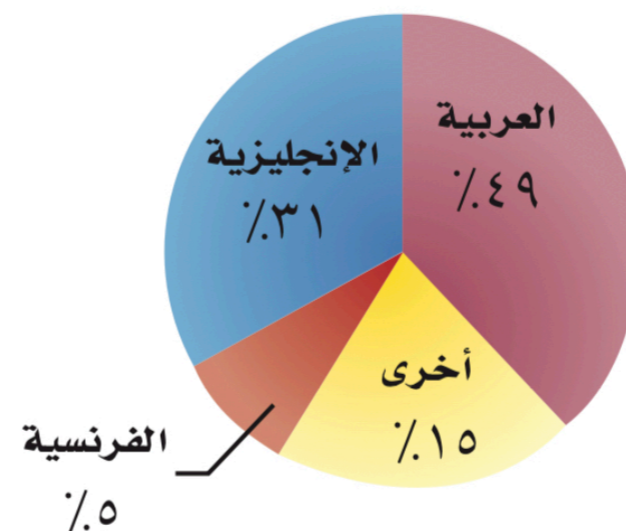
اختيار من متعدد: شركة لديها ٦٠٠ موظف،

يبين التمثيل بالقطاعات الدائرية النسبة المئوية للغة

الأصلية التي يتكلمون بها. قدر عدد الموظفين الذين

لغتهم الأصلية اللغة الإنجليزية. (الدروس ٤-٢)

اللغة الأصلية لموظفي شركة



١٨٠ (ج)

٣٠ (أ)

٢١٠ (د)

٩٠ (ب)





* حل كل مسألة مما يأتي باستخدام معادلة مئوية؟

* ما العدد الذي ١٥٪ منه تساوي ٣٠؟

* ما النسبة المئوية للعدد ٤٥ من ١٥٠؟

* أوجد ٦٪ من ٣٠؟

* هل العبارة أ٪ من ب = ب٪ من أ صحيحة دائماً أم أحياناً أم غير صحيحة أبداً، فسر إجابتك؟





مجموعة رفعة التعليمية

تميز - إنتاج - توثيق

* اشترت هند عقدا بمبلغ ١٢٢٥ ريالاً ، و باعتها بربح ٧٪ بكم باعته؟

* يتقاضى سعيد ٧٪ عمولة على مبيعاته الشهرية . إذا باع بمبلغ ١٢٩٩٠ ريال
في الشهر ، فكم تكون العمولة التي يتقاضاها؟





* أوجد التغير المئوي في كل مما يلي ، و قدر الناتج إلى أقرب عشر
إذا لزم الأمر ، وبين إذا كان التغير زيارة أم نقصاناً ؟؟

* الارتفاع الأصلي : ١٥ متر

الارتفاع الجديد : ٦ أمتار

* الزمن الأصلي : ٦ ساعات

الزمن الجديد : ١٠ ساعات





* أوجد ثمن البيع في كل حالة مما يلي؟؟

* هاتف : ٤٠٠ ريالاً و الخصم ١٥٪؟

* قميص : ٢٥ ريالاً و الربح ٤٥٪؟





اختر الاجابة الصحيحة:

١ عُرِضَ لوح تزلج للبيع بخصم نسبته ٣٥٪ من السعر الأصلي البالغ ٢٠٠ ريال. ما سعر بيع هذا اللوح؟

- (أ) ٢٧٠ ريالاً
 (ب) ٢٣٥ ريالاً
 (ج) ١٦٥ ريالاً
 (د) ١٣٠ ريالاً

٤ أراد نايف شراء غسالة سعرها الأصلي ٢٣٥٠ ريالاً. فإذا كانت الأدوات الكهربائية معروضة بخصم نسبته ٣٠٪، وعلى الغسالات تنزيلات إضافية بنسبة ٢٠٪ من قيمتها بعد الخصم، فما سعر البيع النهائي لهذه الغسالة؟

- (أ) ١١٧٥ ريالاً
 (ب) ١٣١٦ ريالاً
 (ج) ١٦٤٥ ريالاً
 (د) ١٨٨٠ ريالاً





مجموعة رفعة التعليمية

تموير - إنتاج - توثيق

حقيفة

من يملك بداخله رؤية "
متفائلة فقد امتك الدافع
النفسي الذي يعصمه من
الانهيار والتمزق أمام
المشكلات

