

شكراً لتحميلك هذا الملف من موقع المناهج السعودية



اختبار الفصل الثامن المساحة والحجم

موقع المناهج ← المناهج السعودية ← الصف الثاني المتوسط ← رياضيات ← الفصل الثالث ← الملف

التواصل الاجتماعي بحسب الصف الثاني المتوسط



روابط مواد الصف الثاني المتوسط على تلغرام

[الرياضيات](#)

[اللغة الانجليزية](#)

[اللغة العربية](#)

[التربية الاسلامية](#)

المزيد من الملفات بحسب الصف الثاني المتوسط والمادة رياضيات في الفصل الثالث

| | |
|---|---|
| نموذج إجابة اختبار نهائي الدور الأول | 1 |
| اختبار نهائي الدور الأول | 2 |
| أسئلة مراجعة الفصل الثامن المساحة والحجم مع نموذج الإجابة | 3 |
| إجابة اختبار نهائي الدور الأول | 4 |
| نموذج اختبار نهائي الدور الأول قابل للتعديل | 5 |

اختبار الفصل الثامن



وزارة التعليم
Ministry of Education

المساحة و الحجم

- الإسم :
- الصف : ثاني متوسط
- المادة : رياضيات
- المجموع : ٢٠ /

١ اختر الإجابة الصحيحة :

٣ /

١) حجم الهرم يساوي المساوي له في مساحة القاعدة و الإرتفاع :

- أ) ثلث حجم المنشور ب) نصف حجم المنشور ج) ربع حجم المنشور

٢) شكل ثلاثي الأبعاد له قاعدة واحدة دائرية و سطح منحنى و رأس واحد :

- أ) الهرم ب) المخروط ج) الإسطوانة

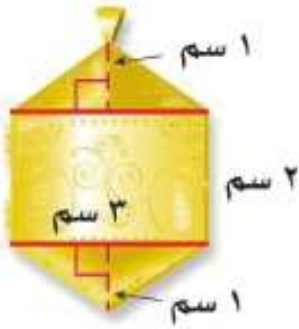
تم تحميل هذا الملف من
موقع المناهج السعودية

٣) متوازي المستطيلات يحتوي على :

- أ) ٤ رؤوس ب) ٥ رؤوس ج) ٨ رؤوس

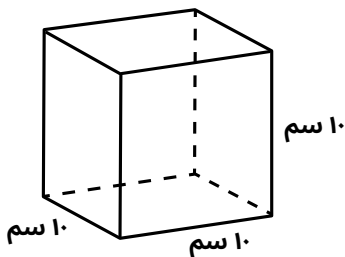
٣ /

٢) أوجد مساحة الخلية الذهبية و قرب الإجابة الى أقرب جزء من عشرة :



٣ /

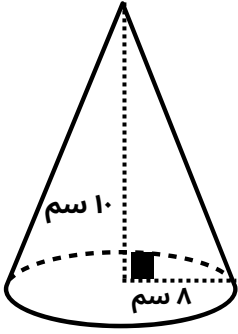
٣) أوجد حجم المنشور التالي :



٤

أوجد حجم المخروط التالي مقرباً الاجابة الى اقرب جزء من عشرة :

٤ /



٥

تُغلف علبة العصير الإسطوانية الشكل بورق تغليف , ما مساحة ورق التغليف على العلبة التالية :

٣ /



تم تحميل هذا الملف من
موقع المناهج السعودية

alManahj.com/sa

٦

أوجد المساحة الجانبية و الكلية لهرم قاعدته مربعة طول ضلعها ١١ م , و ارتفاعه الجانبي ١٨ م :

٤ /

