

## شكراً لتحميلك هذا الملف من موقع المناهج السعودية



## ورقة عمل علاقات الزوايا والمستقيمات

موقع المناهج ← المناهج السعودية ← الصف الثاني المتوسط ← رياضيات ← الفصل الثاني ← الملف

تاريخ نشر الملف على موقع المناهج: 07:11:46 2023-12-30

## التواصل الاجتماعي بحسب الصف الثاني المتوسط



## المزيد من الملفات بحسب الصف الثاني المتوسط والمادة رياضيات في الفصل الثاني

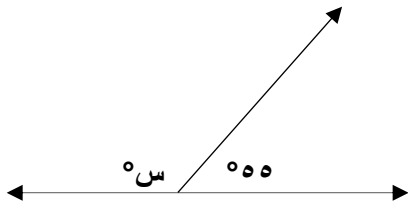
|  |   |
|--|---|
| <a href="#">ورقة عمل تطابق المضلعات</a>                        | 1 |
| <a href="#">ورقة عمل المضلعات والزوايا</a>                     | 2 |
| <a href="#">اختبار الفصل الخامس الهندسة والاستدلال المكاني</a> | 3 |
| <a href="#">نموذج اختبار منتصف الفصل</a>                       | 4 |
| <a href="#">بنك أسئلة مع اختبار</a>                            | 5 |

علاقات الزوايا والمستقيمات ❁ ❁

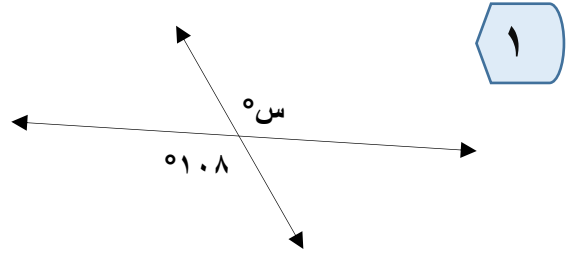
الاسم /

الصف /

**السؤال الأول:** أوجد قيمة  $s$  في كل شكل من الأشكال الآتية؟



٢

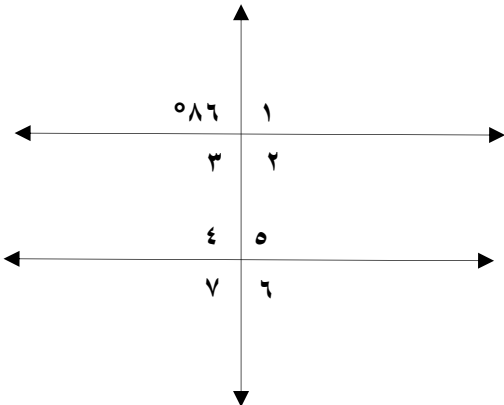


١

.....  
.....  
.....

.....  
.....  
.....

**السؤال الثاني:** أستعمل الشكل المجاور في حل التمارين التالية؟



١ أوجد قياس الزاوية ٢ .....

٢ أوجد قياس الزاوية ٣ .....

٣ أوجد قياس الزاوية ٤ .....