

روابط مجموعات المناهج السعودية

كل ما يحتاجه الطالب في جميع الصفوف من أوراق عمل واختبارات ومذكرات, يجده هنا في الروابط التالية لأفضل مواقع المناهج السعودية:

القناة الرسمية لموقع المناهج السعودية : www.almanahj.com/sa

روابط مجموعات الواتساب

[الصف الأول الابتدائي](#)

[الصف الثاني الابتدائي](#)

[الصف الثالث الابتدائي](#)

[الصف الرابع الابتدائي](#)

[الصف الخامس الابتدائي](#)

[الصف السادس الابتدائي](#)

[الصف الأول متوسط](#)

[الصف الثاني متوسط](#)

[الصف الثالث متوسط](#)

[الصف الأول الثانوي](#)

[الصف الثاني الثانوي العلمي](#)

[الصف الثاني الثانوي الأدبي](#)

[الصف الثالث الثانوي العلمي](#)

[الصف الثالث الثانوي الأدبي](#)

[مجموعة أخبار التربية](#)

روابط قنوات التلغرام

[الصف الأول](#)

[الصف الثاني](#)

[الصف الثالث](#)

[الصف الرابع](#)

[الصف الخامس](#)

[الصف السادس](#)

[الصف الأول متوسط](#)

[الصف الثاني متوسط](#)

[الصف الثالث متوسط](#)

[الصف الأول الثانوي](#)

[الصف الثاني الثانوي الأدبي](#)

[الصف الثاني الثانوي العلمي](#)

[الصف الثالث الثانوي الأدبي](#)

[الصف الثالث الثانوي العلمي](#)

[المناهج السعودية](#)

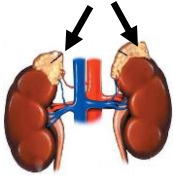
نموذج الإجابة

السؤال	١	٢	٣	٤	٥	المجموع
رقما	٦	٣	٦	٥	١٠	٣٠
الدرجة	ست	ثلاث	ست	خمس	عشرة	ثلاثين
المصحح						
المراجع						

السؤال الأول:

(درجة لكل فقرة)

- أكمل الفراغات بما يناسبها فيما يلي :-
- ١/ محرك السيارة الذي يعمل بوقود البنزين . يتم حرق الوقود فيه داخل الاسطوانة بواسطة.....
شمعة الاحتراق (البواجي).
 - ٢/ السهم على الرسم المجاور يشير إلى الغدة الكظرية أو الفوق كلوية.
 - ٣/ ترتبط العضلات بالعظام عن طريق الأوتار.
 - ٤/ تتكاثر النباتات اللاوعائية بواسطة الأبواغ.
 - ٥/ يُغلف سطح العظم الحي بطبقة صلبة تسمى السمحاق.
 - ٦/ كمية الطاقة التي تحملها الموجات الصوتية والتي تعبر مساحة محدودة خلال ثانية تسمى شدة الصوت.



السؤال الثاني:

(نصف درجة لكل فقرة)

- ضع علامة صح (✓) أمام العبارة الصحيحة وعلامة خطأ (✗) أمام العبارة الخاطئة فيما يلي :-
- ١/ (✓) موجات الراديو مثال على الموجات الكهرومغناطيسية.
 - ٢/ (✓) يقاس الطول الموجي للضوء بوحدة النانومتر.
 - ٣/ (✓) يمكن إنتاج الطاقة الكهربائية من الطاقة الشمسية.
 - ٤/ (✗) تنتج التوائم المتماثلة من إخصاب حيوان منوي لبويضتين.
 - ٥/ (✓) معظم خلايا الخشب واللحاء في النبات تُصنع من الكامبيوم.
 - ٦/ (✓) من وظائف الجلد تنظيم درجة حرارة جسم الإنسان.

السؤال الثالث:

(كل فقرة نصف درجة)

٦
٦

ضع دائرة حول الإجابة الصحيحة فيما يلي:-

١/ يحدث تبادل المواد بين دم الأم ودم الجنين في:-
أ/ الرحم ب/ المبيض ج/ قناة البيض د/ المشيمة

٢/ من أهم المواد المسببة للاحتباس الحراري:-
أ/ ثاني أكسيد الكربون ب/ الأوكسجين ج/ الأوزون د/ بخار الماء

٣/ تنتقل موجات الصوت بشكل أسرع في:-
أ/ الهواء ب/ الزيت ج/ الفراغ د/ الحديد

٤/ توجد خلايا العصي والمخاريط في :-
أ/ القرنية ب/ الشبكية ج/ العدسة د/ البؤبؤ

٥/ الغدة المسيطرة على جميع نشاطات الغدد الصماء الأخرى هي الغدة :-
أ/ الزعترية ب/ الصنوبرية ج/ الدرقية د/ النخامية

٦/ من النباتات الوعائية اللابذرية :-
أ/ ذيل الحصان ب/ الصنوبر ج/ حشيشة الكبد د/ العشبة ذات القرون

٧/ الجزء التكاثري في النباتات الوعائية البذرية :-
أ/ الزهرة ب/ الساق ج/ الورقة د/ الجذر

٨/ من الموارد المتجددة في الطبيعة :-
أ/ الألومنيوم ب/ النفط ج/ الألماس د/ الرياح

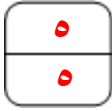
٩/ متوسط قيمة الطاقة الحركية للجزيئات في حالة الحركة العشوائية :-
أ/ الطاقة الحرارية ب/ درجة الحرارة ج/ الطاقة الحركية د/ درجة كلفن

١٠/ انتقال الطاقة الحرارية بين الأجسام عن طريق التلامس يسمى :-
أ/ الحمل الحراري ب/ التوصيل الحراري ج/ الإشعاع الحراري د/ العزل الحراري

١١/ يطلق على العملية الطبيعية لنقل التربة السطحية من مكان لآخر :-
أ/ التدوير ب/ التعرية ج/ التجوية د/ الحراثة

١٢/ تتكون عند اهتزاز النابض موجة :-
أ/ حلزونية ب/ دائرية ج/ طولية د/ مستعرضة

السؤال الرابع :- أجب عما يلي

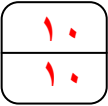


أ/ علل (اذكر السبب) فيما يلي: (درجة لكل فقرة)

- 1- ظهور القلم وكأنه منكسراً عند سطح الماء.
بسبب انتقال الضوء من وسط شفاف إلى وسط شفاف آخر مختلف في الكثافة.
- 2- عدم سماع الصوت على سطح القمر.
لعدم وجود غلاف جوي محيط بالقمر (وسط مادي)
- 3- اختلاف لون الجلد من شخص إلى آخر.
بسبب اختلاف كمية صبغة الميلانين في البشرة

ب/ ضع المصطلح العلمي المناسب لكل مما يلي: (نصف درجة لكل فقرة)

- 1- نوع المفصل في ركلة الإنسان. (رزي)
- 2- فتحات صغيرة توجد على السطح السفلي لورقة النبات. (الثغور)
- 3- مادة تمنع انتقال الطاقة الحرارية خلالها بسهولة. (العوازل)
- 4- بقايا مخلوقات حية تكونت في القشرة الأرضية من نو ملايين السنين. تعرف بـ (الوقود الأحفوري)



السؤال الخامس :- أ / سجّل مقياس درجة حرارة الجو في مدينة الرياض ٢٨ س. كم تساوي هذه الدرجة على المقياس الفهرنهايتي ؟

(ثلاث درجات)

الحل :-

$$F = \left(\frac{9}{5} \right) (S) + 32$$

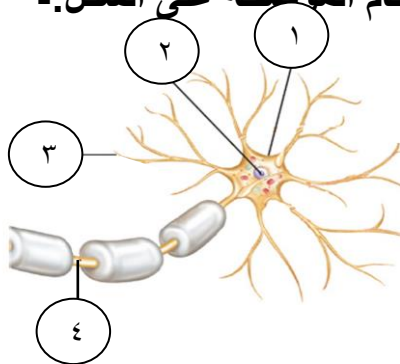
$$F = \left(\frac{9}{5} \right) (28) + 32 = 32 + 28 \times 1,8 = 32 + 50,4 = 82,4 \text{ } ^\circ\text{F}$$

(٤ درجات)

ب/ أكمل المقارنة في الجدول التالي :

نباتات ذوات الفلقتين	نباتات ذوات الفلقة الواحدة	وجه المقارنة
حلقية	عشوائية	توزيع الحزم الوعائية
شبكي	متوازي	تعرق الورقة

ج/ تعرّف على الشكل الذي أمامك ثم أكمل البيانات حسب الأرقام الموضحة على الشكل :- (٣ درجات)



درجة واحدة

الشكل هو الخلية العصبية

البيانات هي :-

١/ جسم الخلية

٢/ النواة

٣/ شجيرات عصبية

٤/ محور اسطواني

نصف درجة لكل فراغ

انتهت الأسئلة