

تم تحميل هذا الملف من موقع المناهج السعودية



الملف مراجعة نهائية للدراسات الاجتماعية والوطنية

[موقع المناهج](#) ⇨ [المناهج السعودية](#) ⇨ [الصف الثالث المتوسط](#) ⇨ [اجتماعيات](#) ⇨ [الفصل الثالث](#)

المزيد من الملفات بحسب الصف الثالث المتوسط والمادة اجتماعيات في الفصل الثالث

<a href="#">أسئلة اختبار نهائي الدوري الأول قابل للتعديل</a>	1
<a href="#">بوربوينت مراجعة الوحدة التاسعة التطوع</a>	2
<a href="#">اختبار نهائي الدور الأول</a>	3
<a href="#">اختبار منتصف الفصل</a>	4
<a href="#">اختبار منتصف الفترة</a>	5

## مراجعة الدراسات الاجتماعية والوطنية ثالث متوسط الفصل الثالث

س ١ . ضعي علامة ( √ ) امام العبارة الصحيحة وعلامة ( × ) امام العبارة الخاطئة فيمايلي؟	
١	يحدد اطار الخريطة بعد الانتهاء من رسمه
٢	يفيد مقياس الرسم في معرفة المسافة الحقيقية من مكان الى مكان اخر على الطبيعة
٣	تتشابه الرموز في كل مفاتيح الخرائط
٤	تساعد المساحة على تمثيل المواقع الطبيعية فقط
٥	اختلاف المعلومات التي تقدمها الخرائط أدى الى تنوعها
٦	تحدد أجهزة GPS الأماكن على سطح الأرض بدقة عالية
٧	نستفيد من علم المساحة في دراسة الشكل العام لسطح الأرض
٨	من استعمالات الصور الجوية تحديد المواقع الأثرية
٩	من افضل مقاييس رسم الخرائط مقياس الرسم الكتابي
١٠	الخرائط المناخية هي التي تمثل الظواهر المناخية على سطح الأرض مثل الحرارة
١١	الأعمال التطوعية تكون تحت إشراف جهة بدون ترخيص لها.
١٢	حفظ النعمة وجمع الفائض من الطعام عمل تطوعي لا يخدم الوطن
١٣	آداب الذوق العام غير مرتبطة بالمسؤولية.
١٤	التطور التقني لم يقلل من الاعتماد على الأيدي العاملة.
١٥	تمثل الخريطة الطبيعية الجوانب التي تتصل بالإنسان ونشاطه
١٦	الصور الجوية الرأسية تغطي مساحات كبيرة
١٧	يعد مقياس الرسم الكتابي أفضل انواع مقاييس رسم الخريطة
١٨	اول عمل يقوم به مستعملو الخرائط في الميدان رسم الخريطة
١٩	يشير مؤشر اتجاه الخريطة الي اتجاه الشرق.
٢٠	قسم التحكم في Gps عبارة عن أجهزة الاستقبال في الطائرات والسفن والسيارات
٢١	تتحقق البطالة لدى الأفراد الذين لا يرغبون في العمل
٢٢	تحدث البطالة لدى الأفراد الذين يبحثون عن عمل ولم يجده بالرغم من كونهم مؤهلين

٢٣	البطالة الهيكلية تكون لمن تتوافر لديهم المهارات ولا يجدون عملاً
٢٤	التضخم غير مضر بالاقتصاد
٢٥	تنتشر المخدرات والجرائم في المجتمعات التي تكثر فيها البطالة
٢٦	عندما يكون الإنسان منجزاً فإنه يشعر بالرضا
٢٧	الثقة بالنفس من عوامل الإنجاز الذاتي
٢٩	من خطوات الإنجاز الذاتي التخطيط الذاتي للتخطيط للأعمال
٣٠	حث الاسلام على العمل والإنجاز
٣١	التطور التقني لم يقلل من الاعتماد على الأيدي العاملة
٣٢	للأمن والاستقرار أثر في نمو الاقتصاد الوطني
٣٣	من أسباب البطالة ضعف التدريب والتأهيل
٣٤	من الآثار الاجتماعية للبطالة قلة الجرائم
٣٥	التضخم من المشكلات الاقتصادية الناتجة عن حركة العرض فقط
٣٦	من واجبات المواطن السعودي توفير التعليم
٣٧	الافتخار بمنجزات الوطن ليس من أسس المواطنة
٣٨	الانتماء للوطن يعيق مسيرة التقدم
٣٩	من سمات المواطن الصالح الا يكون منتمياً لوطنه
٤٠	التعبير عن المشاعر بهدوء ووضوح من آداب الذوق العام
٤١	الاهتمام بالنظافة الشخصية ونظافة المكان ليست من آداب الذوق العام
٤٢	الجلوس أو الوقوف في الأماكن المخصصة لكبار السن وذوي الاحتياجات الخاصة من آداب الذوق العام
٤٣	تشويه المرافق العامة والمتنزهات من آداب الذوق العام
٤٤	آداب الذوق العام غير مرتبطة بالمسؤولية
٤٥	التزام آداب الذوق العام يؤدي إلى المواطنة الصالحة
٤٦	من واجبات الدولة توفير الأمن للجميع
٤٧	المسؤولية الدينية هي التزام طاعة اوامر الله واجتناب نواهيه
٤٨	الأعمال التطوعية تكون تحت إشراف جهة مرخص لها

٤٩	من أعمال التطوع أداء الواجبات المدرسية
٥٠	التبرع بالدم للمستشفيات من أعمال التطوع
٥١	حفظ النعمة وجمع الفائض من الطعام عمل تطوعي لا يخدم الوطن

س ٢ . عللي لماياتي :	
١	زادت أهمية الخرائط في الوقت الحالي
٢	يصعب تمثيل الأماكن والمواقع والظواهر بأحجامها الحقيقية على الخريطة
٣	أهمية علم المساحة
٤	أهمية المساحة الفلكية
٥	يعد الاقتصاد السعودي من أقوى الاقتصادات في العالم
٦	أهمية التطوع

alManahj.com/sa

س ٣ . أختاري الإجابة الصحيحة فيمايلي :

١	من أنواع الخرائط الطبيعية		
	التضاريسية	السكانية	الاقتصادية
٢	من أنواع الخرائط البشرية		
	المناخية	السياسية	النباتية
٣	تقاطع خطوط الطول مع دوائر العرض		
	مفتاح الخريطة	اطار الخريطة	شبكة الاحداثيات
٤	تمثل اتجاه الرياح في فصل الصيف :		
	الخرائط المناخية	الخرائط السكانية	الخرائط التاريخية
٥	يحيط بالخريطة من الخارج		
	مفتاح الخريطة	اطار الخريطة	شبكة الاحداثيات
٦	تمثل توزيع الغابات المطيرة		
	الخرائط المناخية	الخرائط السكانية	الخرائط النبات
٧	تحديد نقط على سطح الأرض للمساحات الشاسعة		
	المساحة الجيوديسية	المساحة المستوية	المساحة الطبوغرافية
٩	النسبة بين البعد على الخريطة ومايقابله على الطبيعة		
	مفتاح الخريطة	عنوان الخريطة	مقياس الرسم
١٠	تمثل مواقع المعارك وامتداد الدول		
	الخرائط المناخية	الخرائط السكانية	الخرائط التاريخية
١١	من آداب الذوق العام		
	إذاء الاخرين	اتلاف الممتلكات العامة	افشاء السلام
١٢	من ابرز أسس العمل ونجاحه		
	الالتقان	تأجيل الاعمال	الابداع والابتكار
١٣	من مجالات الاقتصاد الوطني		
	الصناعة	التخطيط	السوق

١٤	من آثار التضخم	
	ارتفاع معدل الفقر	زيادة الضرائب
	ارتفاع اجور العاملين	
١٥	من مكونات نظام تحديد المواقع العالمي (GPS)	
	المساحة	التحكم
	التوقيع	
١٦	برنامج وقار يهدف إلى	
	مستحي الضمان الاجتماعي	الحجاج
	مساعد كبار السن	
١٧	برنامج كن عوناً هدفه مساعدة	
	إرشاد ضيوف الرحمن	مساعدة كبار السن
	تنظيم العمل التطوعي	
١٨	نقل المعالم التي في الطبيعة إلى الخريطة	
	الرفع	التوقيع
	المسح	
١٩	يوصف بها من تتوافر لديهم مهارات ولا تتوافر لهم فرص عمل	
	الهيكلية	الاختيارية
	المقنعة	
٢٠	ممارسة انسانية ارتبطت ارتباطاً بكل معاني الخير والحب عند المجموعات البشرية منذ القدم	
	التطوع	العمل التطوعي
	المتطوع	

س ٤. ١- عددي.....(ثلاثة فقط)
فوائد نظام تحديد المواقع (GPS)؟
٢- آثار التضخم؟
٣- أنواع المسؤولية؟
٤- مجالات التطوع
٥- العوامل التي تساعد على تحقيق الانجاز الذاتي

س ٥. اكتب اسم المصطلح المناسب للمفاهيم التالية :

١- هي وسيلة لتمثيل سطح الكرة الرضية أو جزء منه بظواهر الطبيعية والبشرية	
٢- هي صورة لجزء من سطح الأرض تلتقط بالطائرات أو المناطيد المزودة بآلات تصوير	
٣- نظام مترابط يساعد على تحديد إحداثيات أي مكان على سطح الأرض بدقة عالية	
٤- العلم الذي يبحث في الطرائق المختلفة لتمثيل سطح الأرض وما عليها من مظاهر	
٥- مجموعة من المصطلحات والرموز تمثل الظواهر والمعالم على الخريطة	
٦- حالة داخلية مستمرة مرتبطة بمشاعر الفرد توجهه نحو التخطيط للعمل	
٨- مجهود ارادي يؤديه الانسان لإنتاج سلعة أو تقديم خدمة مقابل الحصول على اجر	
٩- ما ينجزه النشاط الانساني من سلع أو خدمات منتجة من المواد الخام أو المعارف أو المهارات	
١٠- هو الانشطة البشرية لأفراد المجتمع في مجال الانتاج والخدمات والاستهلاك	
١١- تعني الا تتهياً فرص العمل للأفراد الباحثين عن العمل والراغبين فيه والقادرين عليه	
١٠- قدرة الشخص على اداء واجباته وتحمل نتائج اقواله وافعاله وما ينتج عنها	
١١- هو المواطن المسؤول الذي يدرك انتماءه للوطن ويؤدي واجباته تجاهه ويلتزم بالنظام	
١٢- هو جميع القيم والضوابط والآداب التي تحكم سلوك الانسان في المجتمع	
١٣- هو بذل الجهد والوقت أو المال أو الثلاثة معا رغبة واختيار بغرض اداء خدمة اجتماعية او مبادرة ذاتية دون توقع اجر مالي	

س ٦. أكمل الفراغات التالية بما يناسبها من حقائق ومعلومات :

١- ينقسم العمل المساحي إلى قسمين هما ..... و .....
٢- تنقسم المساحة المستوية إلى قسمين هما ..... و .....
٣- هناك عوامل متعددة تتحكم في اقتصاد أي دولة من أبرزها..... و .....
٤- من أنواع البطالة ..... و .....
٥- أنواع التطوع ..... و .....
٦- من أنواع المسؤولية ..... و .....

٧- تتنوع اعمال المساحة حسب طبيعة العمل إلى .....و.....و.....و.....

٨- من فوائد التطوع .....و.....و.....و.....و.....

٩- أهم العوامل التي تساعد على تحقيق الانجاز الذاتي .....و.....و.....و.....

١٠- الصور الجوية نوعان هما .....و.....

١١- من مجالات التطوع.....و.....و.....و.....و.....

١٢- معايير اختيار المهنة .....و.....و.....و.....و.....

١٣- من أهم مقاييس الرسم.....و.....و.....و.....


اكمل خريطة المفاهيم أنواع الخرائط وفق الغرض منها



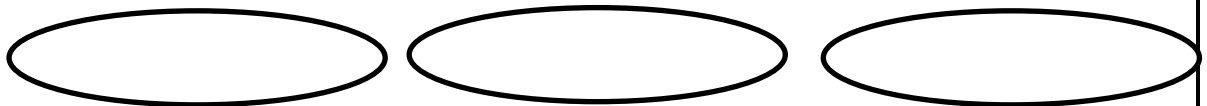
اكمل خريطة المفاهيم العوامل المؤثرة في الاقتصاد الوطني




اكمل خريطة المفاهيم معايير اختيار المهنة



اكمل خريطة مجالات الاقتصاد الوطني



أكمل خريطة المفاهيم مكونات نظام تحديد المواقع ( GPS )





س ٨. قارني بين الخريطة والصور الجوية من حيث

الصور الجوية	وجه المقارنة	الخريطة
	المفتاح والرموز	
	الظواهر المتحركة	
	خطوط الطول ودوائر العرض	

س ٨. قارني بين المساحة الجيوديسية و المساحة المستوية

المساحة المستوية	المساحة الجيوديسية

بالتوفيق للجميع ،،،،  
هذي المراجعة لا تغني عن مراجعة الكتاب

alManahj.com/sa