

## نموذج مقترح لامتحان مركزي 1445هـ غير محلول



### تم تحميل هذا الملف من موقع المناهج السعودية

موقع المناهج ← المناهج السعودية ← الصف الثالث المتوسط ← علوم ← الفصل الثاني ← ملفات متنوعة ← الملف

تاريخ إضافة الملف على موقع المناهج: 2026-05-26 17:21:06

ملفات اكتب للمعلم اكتب للطالب الاختبارات الكترونية الاختبارات ا حلول ا عروض بوربوينت ا أوراق عمل منهج انجليزي ا ملخصات وتقارير ا مذكرات وبنوك الامتحان النهائي للمدرس

المزيد من مادة  
علوم:

### التواصل الاجتماعي بحسب الصف الثالث المتوسط



صفحة المناهج  
السعودية على  
فيسبوك

الرياضيات

اللغة الانجليزية

اللغة العربية

التربية الاسلامية

المواد على تلغرام

### المزيد من الملفات بحسب الصف الثالث المتوسط والمادة علوم في الفصل الثاني

نموذج مقترح لامتحان مركزي 1445هـ غير محلول

1

أسئلة اختبار الدور الأول 1445هـ غير محلول

2

نافس تعزيز نواتج التعلم تدريبات محاكية 1447هـ

3

الاختبارات المركزية لغتي علوم رياضيات 1440هـ نموذج 2

4

إجابة كمية الحركة الزخم

5

نموذج الإجابة لاختبار مادة العلوم المركزية - للصف الثالث المتوسط - الفصل الدراسي الثالث - للعام الدراسي ١٤٤٥هـ

<b>السؤال الأول: اختر الإجابة الصحيحة من بين البدائل أدناه بوضع دائرة حولها. عشرون درجة</b>			
١. ما سرعة سباح يقطع مسافة ١٠٠ م، في زمن قدره ٥٦ ث؟			
١٨٠ ث/م	<b>١,٨ م/ث</b>	٠,٥٦ م/ث	٥٦٠٠ م/ث
٢. تتحرك الكرة الكبيرة (١) باتجاه الكرة الصغيرة الساكنة (٢) المصنوعة من نفس النوع حتى اصطدمت بها، صف حركة الكرتين بعد التصادم.			
			
ستتوقف كلا الكرتين عن الحركة	تتحرك الكرتين بسرعة متساوية	<b>تتحرك الكرة (١) بسرعة &gt; من سرعة الكرة (٢)</b>	تتحرك الكرة (٢) بسرعة > سرعة الكرة (١)
٣. أثرت قوة مقدارها F على كرتين (أ) و (ب)، ولوحظ أن تسارع الكرة (أ) يساوي ضعف تسارع الكرة (ب)، فأى مما يلي صحيح؟			
كتلة الكرة (أ) ضعف كتلة الكرة (ب)	<b>كتلة الكرة (ب) ضعف كتلة الكرة (أ)</b>	كتلة الكرة (أ) تساوي كتلة الكرة (ب)	لا يتأثر التسارع بكتلة الجسم
٤. عندما يستخدم بخار الماء المندفع بقوة لتحريك موصل كهربائي على شكل حلقة موضوعة بين قطبي مغناطيس، كما هو موضح في الشكل أمامك، فإننا بذلك نصنع:			
			
جرساً كهربائياً	محركاً كهربائياً	<b>مولداً كهربائياً</b>	محولاً كهربائياً

٥. ما سبب صعوبة نزول الصبي (ب) من التل مقارنة بالصبي (أ)، في الصورة أمامك؟



المسافة	الإزاحة	الانزلاق	الاحتكاك
---------	---------	----------	----------

٦. ما الذي سيحدث إذا شدّ كلا الصبيين الحبل بنفس القدر من القوة؟

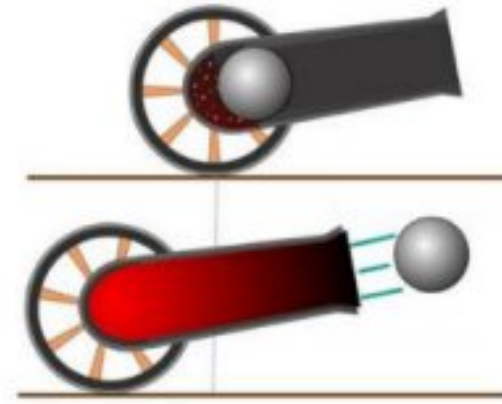


ذو القميص الأخضر سيفوز	ذو القميص الأحمر سيفوز	سوف يسقط كلاهما	لن يتحركا على الإطلاق
------------------------	------------------------	-----------------	-----------------------

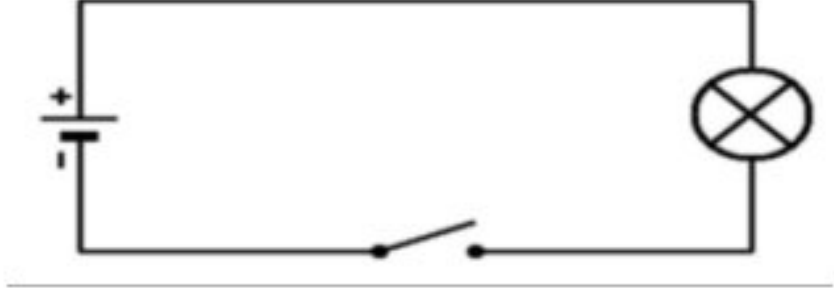


٧. إذا أردنا نقل قطعة معدنية ثقيلة فإننا نصنع مغناطيسياً كهربائياً يتصف بأي من الآتي؟

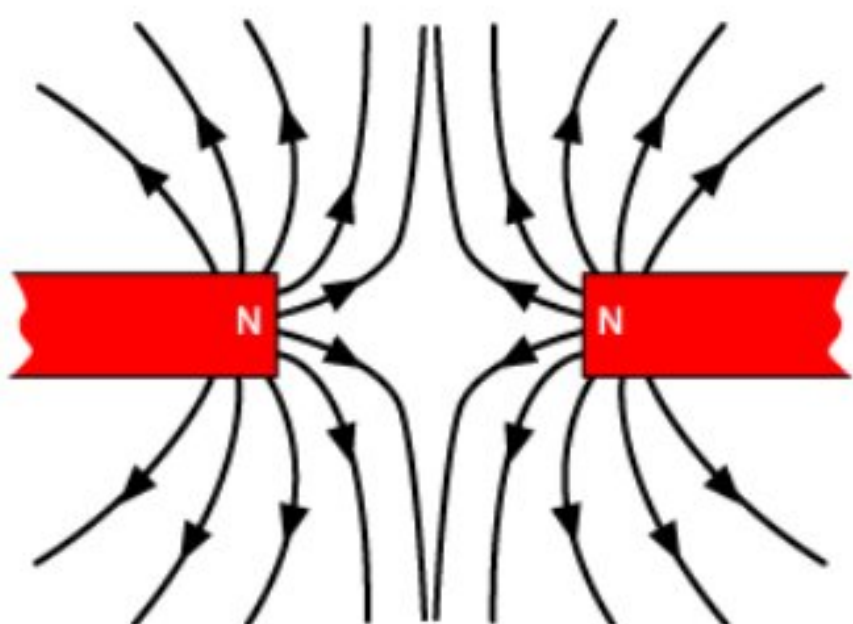

عدد لفاته قليلة ويمر فيه تيار كهربائي قليل	عدد لفاته قليلة ويمر فيه تيار كهربائي كبير	عدد لفاته كبيرة ويمر فيه تيار كهربائي كبير	عدد لفاته كبيرة ويمر فيه تيار كهربائي صغير
--	--	--	--

٨. من الرسم أمامك، ما قوة ردّ الفعل عندما يطلق المدفع قذيفة؟



يتحرك المدفع للأمام	يتحرك المدفع إلى الخلف	تتحرك القذيفة إلى الأمام	تتحرك القذيفة إلى الخلف
---------------------	------------------------	--------------------------	-------------------------

٩. ما مقاومة مصباح كهربائي يمر فيه تيار كهربائي مقداره ٢ أمبير إذا وصل بمكبس يزود بجهد كهربائي مقداره ١١٠ فولت؟			
٠,٠١٨ أوم	٥٥ أوم	١١٠ أوم	٢٢٠ أوم
١٠. عند توصيل مقاومة على التوالي في مصباح كهربائي لدائرة كهربائية كما هو كوضح في الشكل أمامك، فإن فرق الجهد:			
			
لا يمكن تحديده	سيقل فرق الجهد	سيزيد فرق الجهد	لن يتغير
١١. بماذا تسمى الجسيمات التي تتدفق في سلك هذه الدائرة الكهربائية؟			
			
النيوترونات	البروتونات	الذرات	الإلكترونات
١٢. أي العبارات الآتية ينطبق على الدائرة الكهربائية الموضحة في الشكل أمامك؟			
			
تسري الكهرباء على طول مسار واحد	تسري الكهرباء عبر أكثر من مسار	تتوصل المصابيح على امتداد مسار واحد	ينقطع مسار الكهرباء عند عطل أحد المصابيح

١٣. على ما ذا يدل المقدار ٥٠ كم / س شمالاً؟			
سرعة	سرعة متجهة	تسارع	إزاحة
١٤. أي الأجسام الآتية لا تتسارع؟			
سيارة سباق تنطلق	اقلاع طائرة للسماء	قطار يسير بسرعة ثابتة	دراجة تقف ببطء
١٥. أي الخيارات الآتية تفسر ما سيحدث لقطبا المغناطيس في الصورة أمامك؟			
			
تتنافر الأقطاب المغناطيسية	تتجاذب الأقطاب المغناطيسية	لا تتنافر أو تتجاذب الأقطاب	تنحني خطوط المجال المغناطيسي لتتجاذب
١٦. تستخدم أسلاك النحاس في التمديدات الكهربائية لأنها:			
ترتفع حرارتها بسرعة كبيرة	عازلة ولا توصل الشحنات الكهربائية	لا تسخن كثيراً عند مرور الكهرباء	لا تصدأ إذا تعرضت للرطوبة
١٧. ما الذي سيحدث عندما تؤثر قوى غير متزنة على جسم ساكن كما هو موضح في الشكل أمامك؟			
			
يتحرك الجسم في اتجاه القوة المحصلة	يتحرك الجسم عكس اتجاه القوة المحصلة	يتحرك الجسم في اتجاه غير متوقع	يبقى الجسم ساكناً ثابتاً في مكانه

١٨. أي المواد الآتية تُعد عازلاً جيداً؟			
الحديد والذهب	الفضة والألومنيوم	<b>الخشب والزجاج</b>	البلاستيك والنحاس
١٩. أي مما يلي يكافئ وحدة النيوتن؟			
م/ث	كجم . م /ث	<b>كجم . م /ث<sup>٢</sup></b>	كجم / م
٢٠. إذا كانت تكلفة استهلاك ١٠٠٠ واط من الكهرباء لمدة ساعة واحدة تساوي ٠,٥ ريال، فكم تكون تكلفة تشغيل جهاز التلفاز الملون مدة ٨ ساعات؟			
١٠٠٠ ريال	٥٠٠ ريال	<b>٤ ريالات</b>	ريالان

**السؤال الثاني: في ضوء ما درسته في العلوم، أجب عن الأسئلة الآتية وفق المطلوب. عشر درجات**

**أ. أكمل الفراغات الآتية: خمس درجات**

١. ترتبط مقاومة الجسم وكتلته بعلاقة **طردية**.

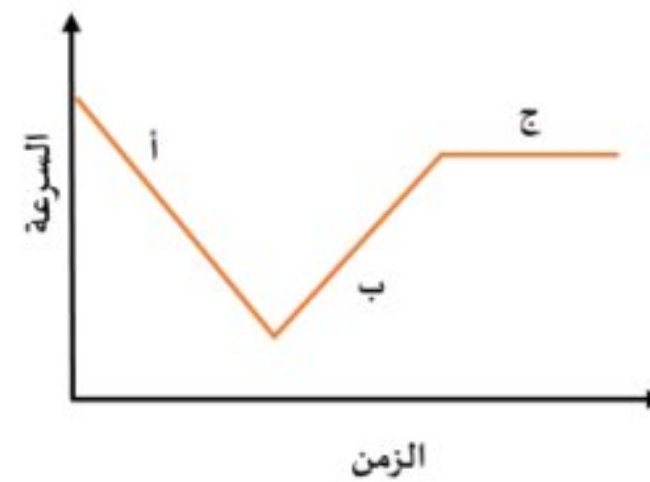
٢. القوة الوحيدة المؤثرة على الجسم في حالة السقوط الحر هي **الجاذبية الأرضية**.

٣. يحدث التفريغ الكهربائي نتيجة الشحنات الكهربائية عبر **الهواء أو الفراغ**.

٤. تتحول الطاقة في المولد الكهربائي من **الحركية إلى الكهربائية**.

٥. يُقاس الجهد الكهربائي بوحدة **الفولت**.

**ب. يوضح الرسم البياني أمامك منحنى (السرعة-الزمن) لحركة سيارة. من خلال الرسم أجب عن الآتي: خمس درجات**



١. أي النقاط تتزايد عندها السرعة؟ (ب) **(درجة واحدة)**

٢. أي النقاط تتناقص عندها السرعة؟ (أ) (درجة واحدة)

٣. أي النقاط يكون التسارع عندها يساوي صفراً؟ (ج) (درجة واحدة)

التفسير: (درجتان)

لأن مقدار السرعة ثابت مع مرور الزمن.

السؤال الثالث: أجب عن الأسئلة الآتية وفق المطلوب. عشر درجات

١. أثرت قوة محصلة مقدارها ٤٥٠٠ نيوتن في سيارة كتلتها ١٥٠٠ كجم، احسب تسارع السيارة؟

القانون المستخدم: (درجة واحدة)

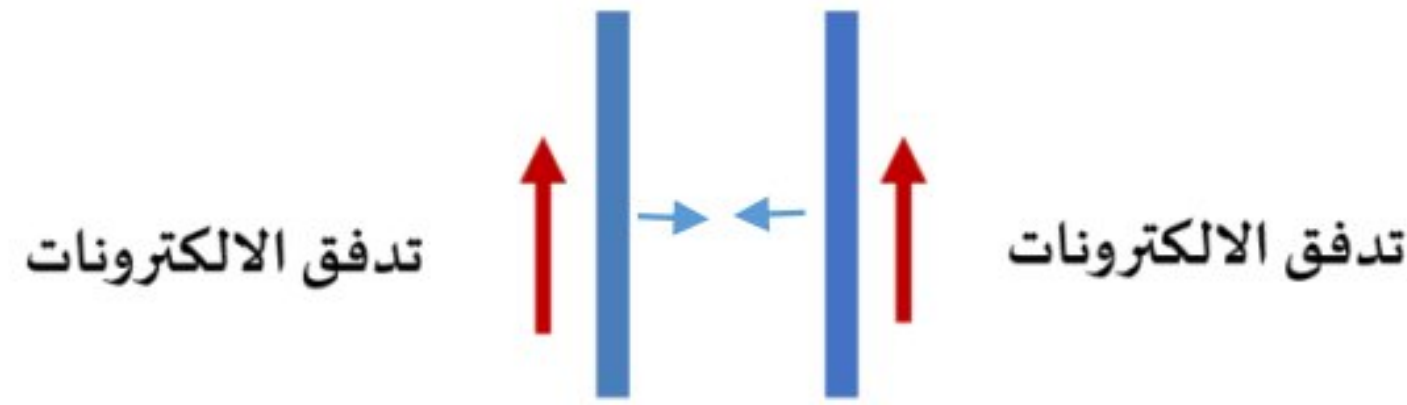
التسارع = القوة المحصلة ÷ الكتلة

طريقة الحل:

(درجة واحدة)

$$ت = ق ÷ ك = ٤٥٠٠ ÷ ١٥٠٠ = ٣ م/ث<sup>٢</sup>$$

٢. مستعيناً بالرسم الذي أمامك، أجب على الأسئلة الآتية:



- ما القوة التي تنشأ بين السلكين؟ تجاذب. (درجة واحدة)

- حدد هذه القوة على الرسم. (درجة واحدة)



٣. عند وضع مغناطيس فوق سطح مادة فائقة التوصيل، فسوف يطفو المغناطيس فوق سطحها ويبقى معلقاً في الهواء. فسر ذلك.

المادة فائقة التوصيل تنتج مجالاً مغناطيسياً معاكساً لمجال المغناطيس (يحدث بينهما تنافر). (درجة واحدة)

٤. وضح متى يصبح الجسم سالب الشحنة، ومتى يصبح موجب الشحنة؟ (درجة واحدة)

أ- يصبح الجسم سالب الشحنة عندما يكتسب إلكترونات. (ربع درجة)

ب- يصبح الجسم موجب الشحنة عندما يفقد إلكترونات. (ربع درجة)

ت- صف التغير الذي سيحدث للتيار الكهربائي في دائرة كهربية، عندما يتضاعف الجهد، وتثبت المقاومة؟

يتضاعف التيار الكهربائي مرتين. (نصف درجة)

٥. اعقد المقارنات بين كلاً من: (أربع درجات)

أ- التيار المستمر/ التيار المتردد. (درجتان)

وجه المقارنة	التيار المستمر	التيار المتردد
التعريف	تيار كهربائي يتدفق في اتجاه واحد فقط.	تيار كهربائي يغير اتجاهه بشكل دوري منتظم.

ب- التسارع الموجب/ التسارع السالب. (درجتان)

وجه المقارنة	التسارع الموجب	التسارع السالب
اتجاه التسارع	مع إتجاه حركة الجسم.	عكس إتجاه حركة الجسم.

...انتهت الأسئلة...

مع تمنياتنا لكم بالتوفيق