

تم تحميل هذا الملف من موقع المناهج السعودية



الملف مراجعة عامة دراسات اجتماعية

[موقع المناهج](#) ⇨ [المناهج السعودية](#) ⇨ [الصف الثالث المتوسط](#) ⇨ [اجتماعيات](#) ⇨ [الفصل الثاني](#)

الملف مراجعة عامة دراسات اجتماعية

[موقع المناهج](#) ⇨ [المناهج السعودية](#) ⇨ [الصف الثالث المتوسط](#) ⇨ [اجتماعيات](#) ⇨ [الفصل الثاني](#)

المزيد من الملفات بحسب الصف الثالث المتوسط والمادة اجتماعيات في الفصل الثاني

تحميل كتاب الطالب	1
كتاب النشاط اجتماعيات	2
أوراق عمل	3
حل أسئلة الدراسات الاجتماعية والوطنية	4
ملخص سؤال وجواب / اجتماعيات	5

المادة	الدراسات الاجتماعية	الصف	الثالث متوسط	الشعبة	أ <input type="checkbox"/> ب <input type="checkbox"/>	بالعلم تجذب العقول وبالأخلاق تجذب القلوب
اسم الطالبة رباعيا				المعلمة	وزارة التعليم Ministry of Education	امنه المزراق

السؤال الأول : أ / اكتب اسم المصطلح المناسب للمفاهيم التالية	
١	تمثيل سطح الأرض أو جزء منه بظواهره الطبيعية والبشرية على لوحة مستوية.
٢	يحيط في الخريطة من الخارج.
٣	شكل بياني يساعد على فهم تركيبه السكان النوعي والعمري.
٤	هو بذل الجهد والوقت أو المال أو الثلاثة معا عن رغبة بغرض أداء خدمة اجتماعية أو مبادرة ذاتية دون توقع أجر مالي
٥	طفوح بازلتية تكونت من حمم الصخور البركانية المنصهرة
٦	تقسيم السكان إلى فئات وفق أعمارهم وبيان نسبة كل فئة عمرية إلى إجمالي عدد السكان
٧	مجموعة من البشر المستقرين في مكان محدد وزمن معين.

ب / قارني بين الخريطة والصور الجوية من حيث خطوط الطول ودوائر العرض - المفتاح		
من حيث	الخريطة	الصور الجوية
خطوط الطول ودوائر العرض	توضح خطوط الطول ودوائر العرض والحدود	لا توضح خطوط الطول ولا دوائر العرض ولا الحدود
المفتاح	تحتاج إلى مفتاح ورموز	لا تحتاج إلى مفتاح ورموز

ب / قارني بين أنماط السكان في المملكة العربية السعودية:		
من حيث	سكان المدن	سكان القرى (الريف)
العدد	في كبيرة وفي تزايد مستمر بسبب نزوح أهالي القرى والريف اليهم	اعدادهم قليلة بسبب الهجرة الى المدن
العمل	يعملون بجميع الوظائف ومختلف الأنشطة الاقتصادية مثل الزراعة والتجارة والسياحة والصناعة	يعملون بالوظائف الزراعة وصيد الاسماك والرعي وتربية الحيوانات
سبب النزوح	لوجود فرص العمل والرفاهية وتوفر الخدمات الصحية والاجتماعية والاقتصادية وغيرها	قلة وجود فرص العمل وعدم توفر الخدمات الجيدة وقلّة وسائل الترفية

ج / قارني بين الساحل الشرقي والساحل الغربي في وطنك المملكة العربية السعودية كما هو مطلوب بالجدول:		
من حيث	الساحل الشرقي	الساحل الغربي
الموقع	يقع على ساحل الخليج العربي	يقع على ساحل البحر الأحمر
الامتداد	يمتد من حدودها مع دولة الكويت شمالاً، حتى حدودها مع دولة قطر .	ويمتد من الشمال الي الجنوب حيث ينحصر بين البحر الأحمر والمرتفعات الغربية المجاورة له
الطول	طوله مع تعاريفه أكثر من ١٠٠٠ كيلو متر	طوله بتعاريفه القليلة نحو ٢٤٠٠ كيلو
الطبيعة الجغرافية	١- سهل منبسّط قليل الارتفاع ٢- تغطيه الرمال ٣- يخلو من الأودية ٤- بالقرب منه بعض الجزر تغمرها المياه ٥- يختزن ثروة بلادي من النفط	١- يختلف اتساعه من مكان الي آخر ٢-، وتقطع الأودية من الشرق الي الغرب ٣- بالقرب منه العديد من الجزر أهمها فرسان

السؤال الثاني : أ / كمل الفراغات التالية بما يناسبها من حقائق ومعلومات :-

١	من مجالات التطوع خدمة : الدين و التعليم - إغاثة
٢	تحتل المملكة العربية السعودية من حيث عدد السكان في جزيرة العرب الترتيب : الأول
٣	أطول دولة لها حدود برية مع المملكة العربية السعودية جنوباً هي : الجمهورية اليمنية
٤	تقع المملكة العربية السعودية في العروض المدارية .. الحارة ويمر بوسطها مدار السرطان
٥	تهطل الامطار في المملكة العربية السعودية بقله ما عدا في جنوبها الغربي
٦	يعرف السهل الساحلي على البحر الأحمر للمملكة باسم سهل تهامة
٧	يعرف السهل الساحلي على البحر الخليج العربي للمملكة باسم سهول الاحساء
٨	تقل الكثافة السكانية في المناطق و الصحراوية و.. الجبلية الوعرة
٩	تعتبر حرة رهاط اكبر حرات المملكة مساحة
١٠	من التكوينات الرملية في وطني صحراء الربع الخالي و صحراء النفوذ الكبير و الدهناء و الجافورة
١١	من مكونات نظام تحديد المواقع (GPS) قسم الأقمار الصناعية و قسم التحكم و قسم المستخدم .
	يقع وطني المملكة العربية السعودية في اقصى الجنوبي الغربي من قارة آسيا .

ب / حددني على الخريطة كما هو مطلوب امامك <<

	1- الحدود الشمالية الكويت - العراق - الأردن
	2- المسطحات المائية البحر الأحمر - الخليج العربي
	3- المرتفعات الغربية بمسمياتها الثلاثة جبال مدين شمالاً - بالوسط جبال الحجاز - بالجنوب جبال السروات
	4- اكبر هضبة بوطنك هضبة نجد
	5- اسم الوادي الذي يقع في منطقة الرياض ويسمى (العارض قديماً) وادي حنيفة
	6- صحراء الربع الخالي والدهناء والنفوذ
	7- وادي الرمة الباطن و وادي السرحان
	8- حرة رهاط

ج / برأيك كيف يسهم تعداد السكان في تلبية الاحتياجات الناس؟

لأن الدول تعتمد على التعداد السكاني لفهم المجتمع وحل مشكلاته والتخطيط لتطوره وتقديمه

/ برأيك ما اثر تنوع التضاريس في تنوع المناخ في وطنك المملكة العربية السعودية

بسبب تنوع التضاريس من جبال وهضاب وتلال وسهول وواودية و صحاري رملية أدى الى تنوع المناخ واختلافه ففي الجبال معتدل صيفا وشديد البرودة شتاءً وفي الصحاري حار صيفا بارد شتاءً والامطار قليلة جدا ويختلف المناخ من منطقة لأخرى في وطني.

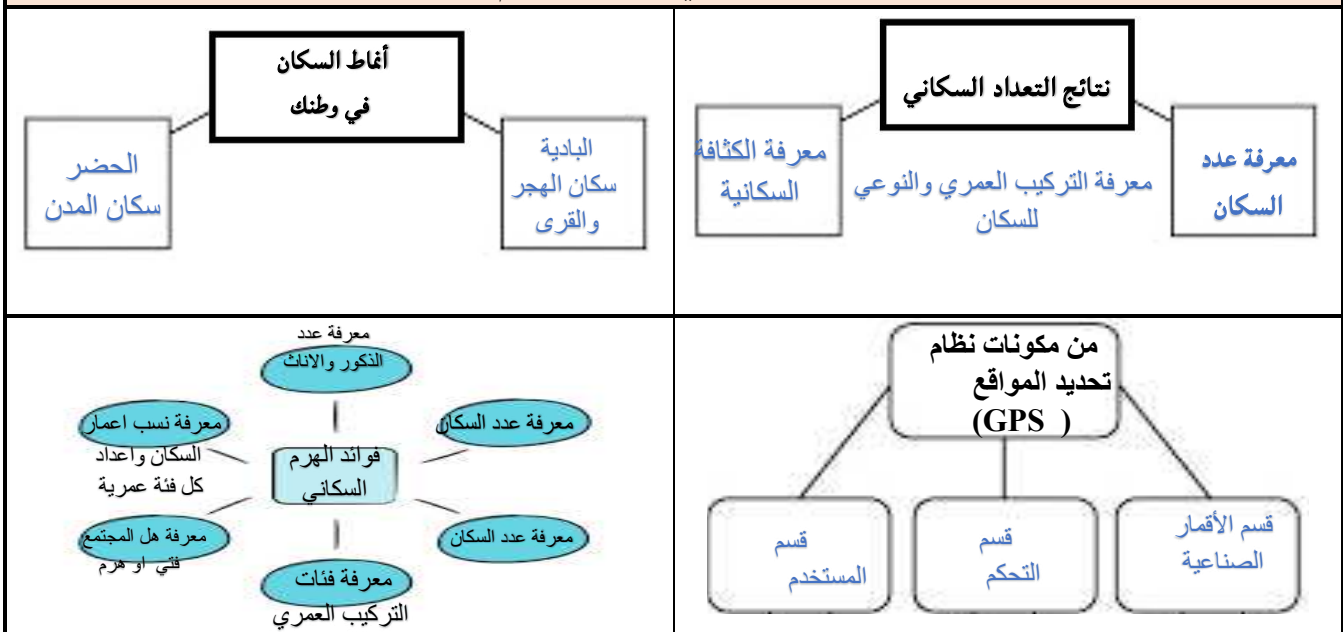
ج / برأيك ما هو المناخ السائد في الجنوب الغربي من المملكة العربية السعودية بصفة عامة

معتدل صيفا ، بارد شتاءً ، والامطار طول العام

السؤال الثالث : أ / علي لما يأتي :-

١	هجرة سكان الريف إلى المدن؟ ببحثاً عن فرص العمل وتوفير الخدمات كالمواصلات والمستشفيات والدوائر الحكومية
٢	أهمية معرفة التركيب السكاني؟ لمعرفة خصائص المجتمع وفهم كثير من المشكلات الاقتصادية والاجتماعية
٣	انتشار الغطاء النباتي الأخضر في جبال فيفا بجازان؟ بسبب مناخها المعتدل وتساقط الامطار طول العام
٤	ضيق مساحة السهول الساحلية في غرب وطني المملكة العربية السعودية؟ لانحدار المرتفعات الغربية باتجاه السهول
٥	قاعدة الهرم عريضة (في العمرية من صفر إلى أربع سنوات) عريضة؟ بسبب زيادة النمو السكاني والذي يرجع لتقدم الرعاية الصحية .- وبذلك تكون الدولة فنية
٦	النقص في قمة الهرم؟ بسبب ازدياد العمر. حيث تمثل ٨٠ سنة فأكثر وهذا يدل على ان الدولة هرمه أي عجوزة
٧	أسباب اختلاف المناخ في المملكة العربية السعودية : لاتساع المساحة و تنوع التضاريس.....
٨	خلو السهل الساحلي للخليج العربي من الأودية لانه يتسم بانبساطه و قلة ارتفاعه عن مستوى سطح البحر و تغطي الرمال أجزاء كبيرة منه.....

ب / يا مبدعة اكمل خرائط المفاهيم التالية



ج / اختاري من العامود رقم (١) ما يناسبه بالعامود (ب)

م	(١)	(٢)	الرقم المناسب
١	يقل عدد السكان في المناطق الجبلية بسبب	التركيب النوعي	٤
٢	يمر بوسط المملكة	مدار السرطان	٢
٣	كان النمو السكاني في وطني في الماضي بطيئاً بسبب	التركيب العمري	٥
٤	تقسيم السكان إلى ذكور واناث	وعورة التضاريس	١
٥	تقسيم السكان حسب الفئات العمرية	قلة الموارد والهجرة للخارج و انعدام الصحة	٣
٦	تقع المملكة العربية السعودية في الجزء الجنوبي الغربي من	مدار الجدي	٧
٧		قارة اسيا	

السؤال الرابع : أ / ضعي كلمة صح امام العبارة الصحيحة وكلمة خطأ امام العبارة الخاطئة :-

صح	١	الأعمال التطوعية تكون تحت اشراف جهة مرخصة لها .
خطأ	٢	تهطل الامطار في المملكة العربية السعودية بقلّة ما عدا شمالها الشرقي
صح	٣	تقل الكثافة السكانية في المناطق الصحراوية و الوعرة .
خطأ	٤	يعرف السهل الساحلي على البحر الأحمر للمملكة باسم سهل الدهناء
صح	٥	تحدد أجهزة (GPS) الأماكن على سطح الأرض بدقة عالية .
صح		أعلى قمة في وطني جبال السودة بالقرب من أبها
خطأ		السهل الساحلي الغربي يخلو من الأودية
صح		السهل الساحلي الغربي أطول من السهل الساحلي الشرقي .
صح		يقصد بالكثبان الرملية الصحاري .
صح		يقع وطني المملكة العربية السعودية في اقصى الجنوبي الغربي من قارة آسيا .
خطأ		التركيب العمري للسكان هو تقسيمهم وتوزيعهم الى ذكور واناث .
خطأ		يشكل سكان القرى (الريف) النسبة الكبرى من سكان المملكة .
صح		تمتد صحراء الدهناء على شكل قوس في الجهة الشمالية والشرقية من وطني .
صح		تعتبر حرة رهاط اكبر حرات المملكة مساحة
صح		الموقع الفلكي هو الموقع بالنسبة لخطوط الطول ودوائر العرض
خطأ		يتدرج سطح وطني في الارتفاع كلما اتجهنا ناحية الشرق
صح		تحدد أجهزة (GPS) الأماكن على سطح الأرض بدقة عالية .
صح		الصور الجوية الرأسية تلتقط في حالة الوضع الرأسي لعدسات أجهزة التصوير
صح		الخريطة وسيلة لتمثيل سطح الكرة الأرضية او جزء منه بظواهره الطبيعية و البشرية
خطأ		من النتائج السلبية للزوح للريف الاهتمام بالأراضي الزراعية وزيادة الإنتاج الزراعي وقلة البطالة

ب / اختاري الإجابة الصحيحة ما بين الاقواس





وضحي النتائج الايجابية والسلبية لنزوح وهجرة السكان من الريف (القرى) الى المدن وفق الجدول ادناه (نتيجة واحدة فقط) ؟

نتائج سلبية

نتائج ايجابية

نزوح السكان من الريف (القرى) الى المدن

من خلال دراستك عزيزتي الطالبة لأشكال التضاريس في وطننا ضعي عنوانا مناسباً للصور الموجودة ادناه مستعينة بالشكل المجاور ؟

		هضبة الصمان
		جبال السروات
		صحراء الربع الخالي
		حرة الحرة

السؤال الخامس : أختار الإجابة الصحيحة فيما يلي ؟			
١	هو شكل بياني يساعد على فهم تركيب السكان النوعي والعمرى :		
	الهيم السكاني	التعداد السكاني	الوفيات
٢	تسقط الامطار في جميع فصول السنة في المملكة فقط على المرتفعات :		
	الشمالية	الشرقية	الوسطى
٣	يعرف السهل الساحلي للبحر الاحمر باسم :		
	سهول الدهناء	سهول تهامة	سهول النيل
٤	هي الاشكال السطحية التي تتكون منها القشرة الارضية :		
	التضاريس	المناخ	الرياح
٥	هي هضبة تقع في وسط المملكة وهي الاكبر مساحة :		
	الصمان	حسمى	الحمادة
٦	أنواع التطوع :		
	(أ) جماعي ومؤسسي	(ب) جماعي فقط	(ج) حزبي وجماعي
٧	يمتاز التطوع بصفات منها :		
	(أ) جماعي ومؤسسي	(ب) الاخلاص	(ج) والأمانة
٨	الخرائط المناخية من أنواع الخرائط :		
	(أ) الطبيعية	(ب) البشرية	(ج) التاريخية
٩	هي الاشكال السطحية (من مرتفعات ومنخفضات) التي تتكون منها القشرة الأرضية :		
	(أ) التضاريس	(ب) المناخ	(ج) الغطاء النباتي
١٠	الجهة الحكومية التي تتولى تنظيم شؤون التطوع في المملكة العربية السعودية		
	(أ)وزارة التجارة	(ب)وزارة الصناعة	(ج)وزارة السياحة
١١	يتدرج سطح المملكة العربية السعودية في الارتفاع باتجاه نحو:		
	(أ)الشرق	(ب)الشمال	(ج)الغرب
١٢	من فوائد التعداد السكاني :		
	(أ)معرفة النهضة العمرانية للسكان	(ب)معرفة الكثافة السكانية	(ج)معرفة الاقتصاد السكاني
١٣	من أنواع المساحة:		
	(أ)المساحة الملاحية	(ب)المساحة الاقتصادية	(ج)المساحة السكانية
١٤	هي الاشكال السطحية التي تتكون منها القشرة الأرضية		
	(أ)التضاريس	(ب)المناخ	(ج)الغطاء النباتي
١٥	من انواع الخرائط البشرية :		
	(أ)الخرائط المناخية	(ب)الخرائط النباتية	(ج)الخرائط التضاريسية
		(د)الخرائط الاقتصادية	

السؤال السادس عددي ثلاثة مما يأتي.

أكثر المناطق الإدارية كثافة سكانية في المملكة العربية السعودية
منطقة الرياض - منطقة مكة المكرمة - المنطقة الشرقية - المدينة المنورة.

فوائد الهرم السكاني:

- ١- نسبة الذكور....
- ٢- نسبة الاناث
- ٣- نسبة اعمار السكان واعداد كل فئة عمرية
- ٤- نسبة الفئة العمرية المنتجة. ٥- معرفة هل المجتمع فتى اهرم.

خصائص الموقع الجغرافي للمملكة العربية السعودية:

- ١- وقوع المملكة في الركن الجنوبي الغربي من قارة اسيا ٢- توسطها قارات العالم اسيا وأوروبا و افريقيا ٣- كونها تشكل معظم أراضي شبه الجزيرة ٤- اشرافها على البحر الأحمر والخليج العربي ٥- احتوائها على ثروات طبيعية مثل النفط والغاز والذهب

almanahj.com/sa

مكونات نظام تحديد المواقع العالمي (GPS)

- قسم الأقمار الصناعية - قسم التحكم - قسم المستخدم

فئات العمر الرئيسية

صغار السن :الأطفال	متوسطو السن (الشباب)	كبار السن الشيخوخة
أقل من ١٥ سنة	من ١٥ الى ٦٤ سنة	من ٦٥ سنة فأكثر

مجالات التطوع خدمة
الدين - التعليم - إغاثة

التصحيح	ج / صحي العبارة الخاطئة التي تحتها خط فيما يأتي :
كن عوناً	١ برنامج وقار من ضمن البرامج التطوعية هدفها خدمة ضيوف الرحمن
نحو الغرب	٢ يتدرج سطح المملكة العربية السعودية يتدرج في الارتفاع كلما اتجهنا نحو الشمال
الحارة	٣ تقع المملكة العربية السعودية في العروض المدارية .. الباردة
نجد	٤ هضبة الحمادة في وسط المملكة العربية السعودية وهي الاكبر مساحة
الهرم السكاني	٥ التركيب السكاني شكل بياني يساعد على فهم تركيب السكان النوعي والعمرى
عالية	٦ المدن الكبرى تمتاز بكثافة سكانية قليلة
الجنوبية الغربية	٧ تسقط الامطار في جميع فصول السنة في المملكة فقط على المناطق الوسطى
صحراء الدهناء	٨ صحراء تمتد على شكل قوس في الجهة الشمالية والشرقية من وطني هي صحراء الربع الخالي
حرة رهاط	٩ تعتبر حرة كشب اكبر حرات المملكة مساحة
	١٠

انتهت الأسئلة

معلمة المادة: امنه المزراق