

شكراً لتحميلك هذا الملف من موقع المناهج السعودية



اختبار منتصف الفترة

[موقع المناهج](#) ⇨ [المناهج السعودية](#) ⇨ [الصف الثالث المتوسط](#) ⇨ [اجتماعيات](#) ⇨ [الفصل الثالث](#) ⇨ [الملف](#)

تاريخ نشر الملف على موقع المناهج: 2023-04-23 14:10:19

التواصل الاجتماعي بحسب الصف الثالث المتوسط



المزيد من الملفات بحسب الصف الثالث المتوسط والمادة اجتماعيات في الفصل الثالث

اختبار منتصف الفصل	1
مراجعة نهائية للدراسات الاجتماعية والوطنية	2
أسئلة اختبار نهائي الدوري الأول قابل للتعديل	3
بوربوينت مراجعة الوحدة التاسعة التطوع	4
اختبار نهائي الدور الأول	5

20

الدرجة:

نموذج اختبار منتصف الفترة لمادة الدراسات الاجتماعية للصف الثالث المتوسط

أ / ب

الفصل

اسم الطالب

5 درجات

السؤال الاول: ضع علامة (√) أمام العبارة الصائبة وعلامة (x) أمام العبارة الخاطئة لما يأتي؟

1	يحثنا ديننا الاسلامي على العمل والانجاز
2	التطور التقني لم يقلل من الاعتماد على الأيدي العاملة
3	يساعد علم المساحة في تمثيل مواقع الظواهر الطبيعية
4	عندما يكون الانسان منجزا فانه يشعر بالرضا
5	التضخم غير مضر بالاقتصاد

درجتين

السؤال الثاني:

البطالة مشكلة اقتصادية واجتماعية، وقامت حكومة وطني بجهود واجراءات لتقليص نسبة البطالة ومن هذه الاجراءات (برنامج جودة الحياة) عبر بأسلوبك ويايجاز عن هذا البرنامج واهدافه؟

.....

.....

4 درجات

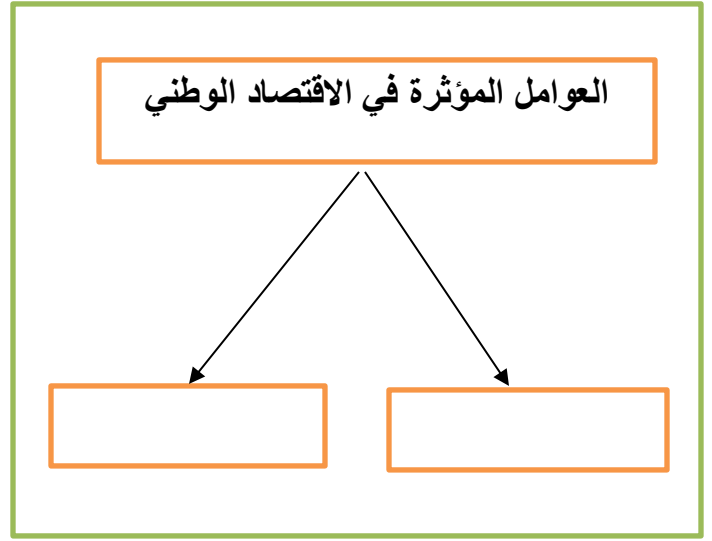
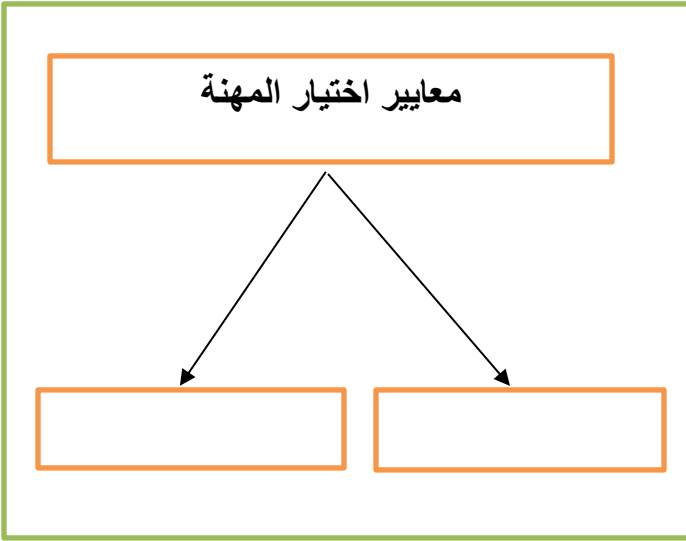
السؤال الثالث: اختر الاجابة الصحيحة في الجدول ادناه؟

1	نسبة البعد على الخريطة وما يقابله على الطبيعة:	2	كل ما يأتي من اقسام GPS ماعدا :
أ	مقياس الرسم	أ	المستخدم
ب	الاحداثيات	ب	المساحة الارضية
ج	اطار الخريطة	ج	التحكم
د	عنوان الخريطة	د	الاقمار الصناعية
3	الانشطة البشرية في مجال الانتاج والخدمات :	4	من تتوافر لديهم مهارات ولا تتوافر لهم فرص عمل
أ	الانجاز الذاتي	أ	بطالة اختيارية
ب	الانتاج	ب	بطالة هيكلية
ج	التضخم	ج	بطالة مقنعة
د	الاقتصاد الوطني	د	بطالة وظيفية

يتبع

السؤال الرابع: أكل خرائط المفاهيم التالية؟

4 درجات



درجتين

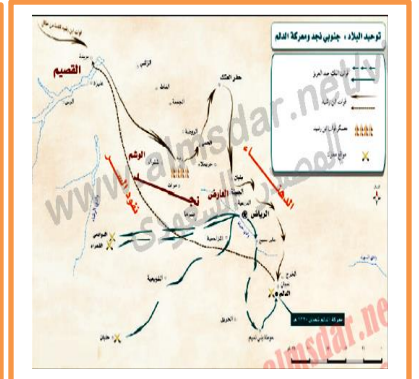
السؤال الخامس: قارن بين الخريطة والصور الجوية وفق الجدول أدناه؟

الصورة الجوية	وجه المقارنة	الخريطة
	المفتاح والرموز	
	الظواهر التي تفسرها	

3 درجات

السؤال السادس: من خلال درستك لأنواع الخرائط ومستعينا بالشكل المجاور حدد أنواع الخرائط أدناه؟

- خريطة سياسية
- خريطة مناخية
- خريطة اقتصادية
- خريطة تاريخية



انتهت الاسئلة / محمد القرني

20

الدرجة:

نموذج اختبار منتصف الفترة لمادة الدراسات الاجتماعية للصف الثالث المتوسط

اسم الطالب

نموذج اجابة

الفصل

أ / ب

5 درجات

السؤال الاول: ضع علامة (√) أمام العبارة الصائبة وعلامة (x) أمام العبارة الخاطئة لما يأتي؟

√	يحثنا ديننا الاسلامي على العمل والانجاز	1
x	التطور التقني لم يقلل من الاعتماد على الأيدي العاملة	2
√	يساعد علم المساحة في تمثيل مواقع الظواهر الطبيعية	3
√	عندما يكون الانسان منجزا فانه يشعر بالرضا	4
x	التضخم غير مضر بالاقتصاد	5

درجتين

السؤال الثاني:

البطالة مشكلة اقتصادية واجتماعية، وقامت حكومة وطني بجهود واجراءات لتقليص نسبة البطالة ومن هذه الاجراءات (برنامج جودة الحياة) عبر بأسلوبك ويايجاز عن هذا البرنامج واهدافه؟

هو احد برامج رؤية المملكة 2030 ويخدم عدة جوانب منها الجانب الاقتصادي والاجتماعي ويسهم في خفض البطالة وتوفير فرص عمل كثيرة في عدة قطاعات مختلفة

4 درجات

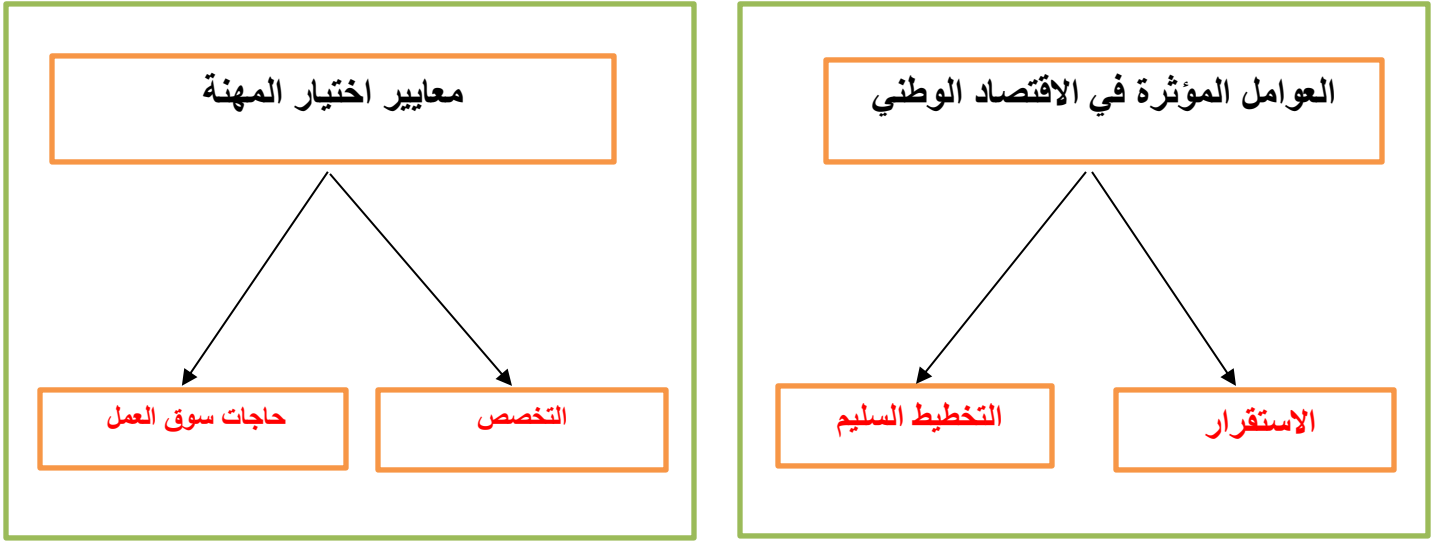
السؤال الثالث: اختر الاجابة الصحيحة في الجدول ادناه؟

كل ما يأتي من اقسام GPS ماعدا :	2	نسبة البعد على الخريطة وما يقابله على الطبيعة:	1
المستخدم	أ	مقياس الرسم	أ
المساحة الارضية	ب	الاحداثيات	ب
التحكم	ج	اطار الخريطة	ج
الاقمار الصناعية	د	عنوان الخريطة	د
من تتوافر لديهم مهارات ولا تتوافر لهم فرص عمل	4	الانشطة البشرية في مجال الانتاج والخدمات :	3
بطالة اختيارية	أ	الانجاز الذاتي	أ
بطالة هيكلية	ب	الانتاج	ب
بطالة مقنعة	ج	التضخم	ج
بطالة وظيفية	د	الاقتصاد الوطني	د

يتبع

السؤال الرابع: أكل خرائط المفاهيم التالية؟

4 درجات



درجتين

السؤال الخامس: قارن بين الخريطة والصور الجوية وفق الجدول أدناه؟

الصور الجوية	وجه المقارنة	الخريطة
لا يوجد بها مفتاح ورموز	المفتاح والرموز	يوجد بها مفتاح ورموز
الظواهر الثابتة والمتحركة	الظواهر التي تفسرها	الظواهر الثابتة

3 درجات

السؤال السادس: من خلال درستك لأنواع الخرائط ومستعينا بالشكل المجاور حدد أنواع الخرائط أدناه؟

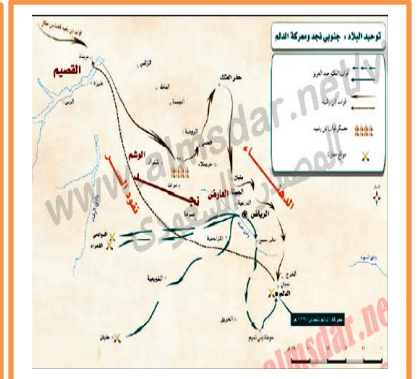
خريطة سياسية
خريطة مناخية
خريطة اقتصادية
خريطة تاريخية



خريطة اقتصادية



خريطة مناخية



خريطة تاريخية

انتهت الاسئلة / محمد القرني