

تم تحميل هذا الملف من موقع المناهج السعودية



## شرح الدرس الأول تمثيل الدوال التربيعية بيانياً

موقع المناهج ← المناهج السعودية ← الصف الثالث المتوسط ← رياضيات ← الفصل الثالث ← ملفات متنوعة ← الملف

تاريخ إضافة الملف على موقع المناهج: 17:01:57 2025-03-03

ملفات اكتب للمعلم اكتب للطالب الاختبارات الكترونية | اختبارات | حلول | عروض بوربوينت | أوراق عمل  
منهج انجليزي | ملخصات و تقارير | مذكرات و بنوك | الامتحان النهائي للمدرس

المزيد من مادة  
رياضيات:

## التواصل الاجتماعي بحسب الصف الثالث المتوسط



صفحة المناهج  
السعودية على  
فيسبوك

الرياضيات

اللغة الانجليزية

اللغة العربية

التربية الاسلامية

المواد على تلغرام

## المزيد من الملفات بحسب الصف الثالث المتوسط والمادة رياضيات في الفصل الثالث

عرض بوربوينت طريقة تمثيل الدوال التربيعية بيانياً

1

خطة الأسبوع الأول

2

اختبار تشخيصي قبلي وبعدي مع الإجابة

3

الاختبار المحاكى لاختبار ناسف الأسبوع الأول بصيغة الورد

4

تحميل كتاب التمارين طبعة 1446 هـ

5



# الفصل الثامن / الدوال التربيعية

الدرس الأول / تمثيل الدوال التربيعية بيانيا



2025

2024

موقع المنهج

موقع المنهج

# خصائص الدوال التربيعية

## المقطع الصادي

جـ

## الرأس

(س ، ص)  
نقطة تقاطع محور التماثل مع القطع.  
قد يكون قيمة عظمى أو قيمة صغرى

## محور التماثل

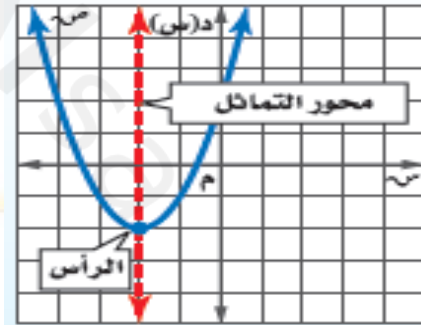
خط يتوسط القطع ويقسمه إلى نصفين متطابقين.  
 $s = \frac{-b}{2a}$

## التمثيل البياني

قطع مكافئ

## الصورة القياسية

$$d(s) = as^2 + bs + c \quad a \neq 0$$



## الدالة الأم

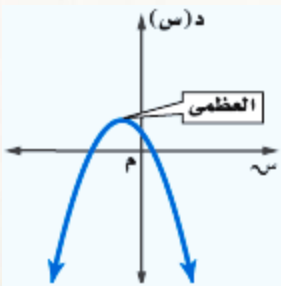
المجال  
جميع الأعداد الحقيقية (ح)

المدى

## قيمة عظمى

أ سالبة  
 $a > 0$

القطع مفتوح للأسفل وهي أعلى نقطة في القطع



## قيمة صغرى

أ موجبة  
 $a < 0$

القطع مفتوح للأعلى وهي أدنى نقطة في القطع



إذا كانت أ سالبة  
 $a > 0$

{ ص | ص  $\geq$  قيمة ص للرأس }  
جميع الأعداد الحقيقية أصغر أو تساوي قيمة ص للرأس

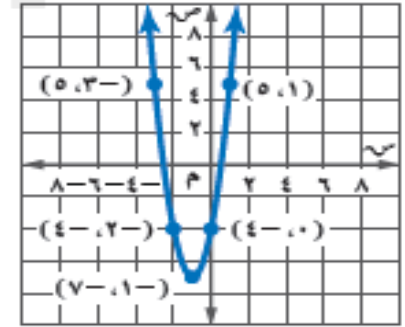
إذا كانت أ موجبة  
 $a < 0$

{ ص | ص  $\leq$  قيمة ص للرأس }  
جميع الأعداد الحقيقية أكبر أو تساوي قيمة ص للرأس

# أمثلة

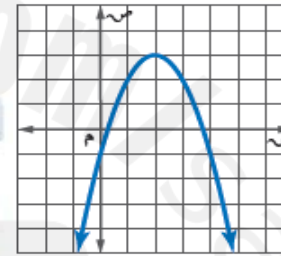
استعمل جدول القيم لتمثيل الدالة  $ص = ٣س^٢ + ٦س - ٤$  بيانيا وحدد مجالها ومداهما؟

ص	س
٥	١
٤-	٠
٧-	١-
٤-	٢-
٥	٣-



المجال/ جميع الأعداد الحقيقية  
المدى { ص | ص ≤ ٧- }

أوجد الرأس ومعادلة محور التماثل والمقطع الصادي للتمثيل البياني الآتي:



الرأس / (٣، ٢)  
محور التماثل / س = ٢  
المقطع الصادي / -١

أوجد الرأس ، ومعادلة محور التماثل والمقطع الصادي للدالة  $ص = ٢س^٢ + ٤س - ٣$   
المقطع الصادي / -٣  
محور التماثل /

$$س = \frac{-ب}{٢ا} = \frac{-٤}{٢(٢)} = \frac{-٤}{٤} = -١$$

الرأس / (-١، ٥)

ولإيجاد الإحداثي الصادي نعوض ب (-١) في الدالة  
 $ص = ٢(-١)^٢ + ٤(-١) - ٣ = ٢ - ٤ - ٣ = -٥$

فيكون الرأس (-١، ٥)

لتكن د(س) =  $٢س - ٤س + ٦$   
أ) حدد إذا كان للدالة قيمة

عظمى أو صغرى؟

أ =  $٢س - ٤س + ٦$  سالبة القطع مفتوح لأسفل يوجد قيمة عظمى

ب) أوجد القيمة العظمى أو الصغرى؟

القيمة العظمى هي قيمة ص للرأس

$$س = \frac{-ب}{٢ا} = \frac{-٤}{٢(-٢)} = \frac{-٤}{-٤} = ١$$

ولإيجاد الإحداثي الصادي

نعوض ب (١) في الدالة

$$ص = ٢(١) - ٤(١) + ٦ = ٨$$

القيمة العظمى = ٨

ج) حدد المجال والمدى؟

المجال/ جميع الأعداد الحقيقية

المدى { ص | ص ≥ ٨ }

جميع الأعداد الحقيقية أصغر أو تساوي ٨

# تمثيل الدوال التربيعية بيانيا

صل بين النقاط  
بمنحنى

استعمل التماثل لإيجاد نقاط  
أخرى على التمثيل البياني

أوجد المقطع الصادي

أوجد الرأس وحدد إذا كان  
قيمة عظمى أو صغرى

أوجد معادلة  
محور التماثل

مثال / مثل الدالة  $D(s) = s^2 + 4s + 3$  بيانيا ؟

(١) محور التماثل /

$$s = \frac{-b}{2a}$$

$$= \frac{-4}{2(1)}$$

$$= \frac{-4}{2} = -2$$

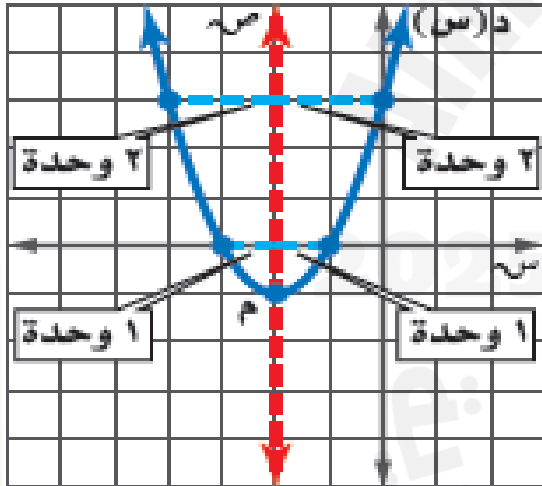
(٢) الرأس /  $(-2, -1)$

ولإيجاد الإحداثي الصادي نعوض ب  $(-2)$  في الدالة

$$ص = (-2)^2 + 4(-2) + 3 = 4 - 8 + 3 = -1$$

فيكون الرأس  $(-2, -1)$

(٣) المقطع الصادي / ٣



يمكن استعمال المعلومات في التمثيل البياني عند حل مسائل من واقع الحياة، حيث يمثل الارتفاع الذي أطلق منه المقذوف المقطع الصادي أما أقصى ارتفاع أو أدنى نقطة يصل له المقذوف إحداثيات الرأس



يمكن التمثيل بيانيا تقنيا باستخدام تطبيق الجيوبورا وتطبيق الديموس..