

تم تحميل هذا الملف من موقع المناهج السعودية



الملف أوراق عمل دروس الفصل السادس والسابع

[موقع المناهج](#) ← [المناهج السعودية](#) ← [الصف الثالث المتوسط](#) ← [رياضيات](#) ← [الفصل الثالث](#)

الملف أوراق عمل دروس الفصل السادس والسابع

[موقع المناهج](#) ← [المناهج السعودية](#) ← [الصف الثالث المتوسط](#) ← [رياضيات](#) ← [الفصل الثالث](#)

المزيد من الملفات بحسب الصف الثالث المتوسط والمادة رياضيات في الفصل الثالث

| | |
|-----------------------------------|---|
| تحضير الدروس للفصل الدراسي الثالث | 1 |
| أوراق عمل الفصل الثامن | 2 |
| حلول أوراق عمل الفصل الثامن | 3 |
| أوراق عمل الفصل الثامن | 4 |
| أوراق عمل للفصل التاسع | 5 |



ورقة عمل

الحوادث والاحتمالات

٦-٦

الاسم:

الصف:

أ. رُقمت مجموعة من البطاقات بالأعداد ١، ٢، ٣، ...، ٢٤، إذا سحب بطاقة عشوائية دون النظر إلى البطاقات. أوجد الاحتمالات الآتية، واكتبها في أبسط صورة:

almanahj.com/sa
المنهج السعودي

١. ح (٥) =

٢. ح (مضاعفات ٤) =

٣. ح (٦ أو ١٧) =

٤. ح (لا يساوي ١٥) =

٥. ح (عدد فردي) =

٦. ح (ليس من عوامل ٦) =

المرشدون للأنشطة المدرسية

| العدد | الصف |
|-------|--------|
| ٢٠ | الرابع |
| ٨ | الخامس |
| ١٣ | السادس |

ب. نشاط طلابي: يبيّن الجدول عدد الطلاب المرشحين للمشاركة في الأنشطة المدرسية، إذا تم اختيار أحد الطلاب عشوائيًا؛ ليمثّل المدرسة في مسابقة الشعر، فأوجد احتمال الحوادث الآتية في أبسط صورة:

٧. ح (طالب من الصف الرابع) =

٨. ح (طالب من الصف السادس) =

٩. ح (ليس من الصف الرابع) =

١٠. ح (طالب من الصف الرابع أو السادس) =

١١. ح (ليس من الصف الأول متوسط) =

١٢. ح (طالب من الصف الرابع أو الخامس أو السادس) =

١٣. ح (طالب من الصف الرابع أو الخامس) =

١٤. ح (ليس من الصف الخامس) =



ورقة عمل

مبدأ العد الأساسي

٨ - ٦

الصف:



الاسم:

almanahj.com/sa

أ. استعمل مبدأ العد الأساسي لتجدد عدد النواتج الممكنة في الحالات الآتية:

١. اختيار سيارة من ٨ موديلات، ٥ ألوان خارجية ولونين داخليين.

٢. اختيار عام من عشرة أعوام، وشهر من العام.

٣. اختيار موقف للسيارة من بين ٣ مواقف، واشتراك ليوم أو يومين أو ثلاثة أيام أو خمسة أيام.

٤. اختيار نوع اللحم ونوع الخضار لعمل فطيرة من القائمة
المبينة في الجدول المجاور

| اللحم | الخضار |
|-------|--------|
| لحم | طماطم |
| دجاج | فلفل |
| سمك | فطر |

٥. إلغاء قطعة نقود ومكعبي أرقام.

٦. اختيار شاي أحمر أو شاي زنجبيل، مع حليب أو بدونه، ومع سكر أو بدونه.

٧. نقود: إلغاء ٣ قطع نقد فئة نصف ريال، و٤ قطع نقد فئة ربع ريال.

ورقة عمل

عد النواتج

٧-٦



الصف:



الاسم:

أ. أوجد فضاء العينة لكل حالة مما يلي مستعملاً الجدول أو الرسم الشجري:

١. دهان جدار بأحد الألوان التالية: أزرق أو أخضر أو أصفر، وتركيب ستائر ألوانها: أبيض أو أحمر أو رمادي.

المناخ السموية

٢. اختيار وجبة غداء مكونة من حساء وسلطة وشطيرة من قائمة الطعام التالية:

| شطيرة | سلطة | حساء |
|----------|-------|------|
| سمك | خس | فطر |
| لحم خروف | ملفوف | خضار |
| دجاج | | |

ورقة عمل

الفصل ٧: الهندسة، المضلعات

العلاقات بين الزوايا

١-٧

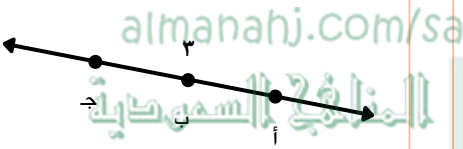
الصف:



الاسم:

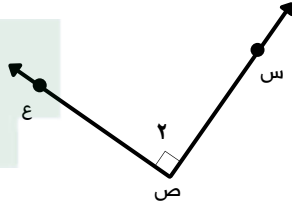
أ. سمِّ كل زاوية مما يأتي بأربع طرائق، ثم صنّفها إلى زاوية حادة أو قائمة أو منفرجة أو مستقيمة.

٣



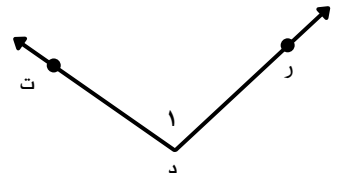
.....
.....
.....
.....
.....

٢



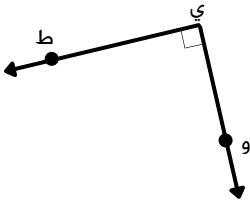
.....
.....
.....
.....
.....

١



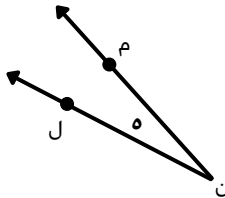
.....
.....
.....
.....
.....

٦



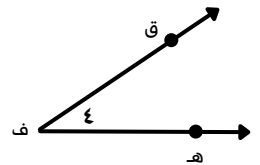
.....
.....
.....
.....
.....

٥



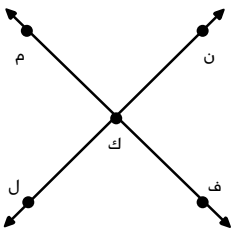
.....
.....
.....
.....
.....

٤



.....
.....
.....
.....
.....

ب. استعمل الشكل المجاور للإجابة عن التمرينين ٧ و٨:



٧ سمِّ زاويتين متقابلتين بالرأس.

.....

٨ سمِّ زاويتين متجاورتين.

.....