


شكراً لتحميلك هذا الملف من موقع المناهج السعودية



أوراق عمل درس الفرق بين مربعين

موقع المناهج ← المناهج السعودية ← الصف الثالث المتوسط ← رياضيات ← الفصل الثاني ← الملف

تاريخ نشر الملف على موقع المناهج: 2024-01-23 01:38:15

التواصل الاجتماعي بحسب الصف الثالث المتوسط



المزيد من الملفات بحسب الصف الثالث المتوسط والمادة رياضيات في الفصل الثاني

أوراق عمل درس المربعات الكاملة	1
أوراق عمل الباب السابع التحليل والمعادلات التربيعية	2
المهمة الأدائية للفصل الخامس أنظمة المعادلات الخطية	3
يوربونت عالي الجودة لدرس استعمال خاصية التوزيع	4
نموذج تدريب نافس	5

اسم الطالب:	رقم الجلوس:
 منصة الاختبارات الالكترونية لأبنائنا في الخارج ٢٠٢٤	امتحان مادة: الدراسات الاجتماعية للفيف الرابع الابتدائي امتحان الفصل الدراسي الأول - ٢٠٢٤

٥- أصغر محافظات مصر من حيث المساحة هي

(أ) دمياط
(ب) القاهرة
(ج) الجيزة
(د) الفيوم

٦- تقاس سرعة الرياح بواسطة

(أ) الترمومتر
(ب) الانيمومتر
(ج) مقياس المطر
(د) جروب الرياح

٧- ينتشر معدن النحاس والذهب بمصر في

(أ) الصحراء الغربية
(ب) وادي النيل
(ج) الصحراء الشرقية
(د) منخفض الفيوم

٨- احد مصادر الطاقة الحفرية

(أ) البترول
(ب) التربة
(ج) الشمس
(د) الهواء

رقم الجلوس :

امتحان مادة : الدراسات الاجتماعية
للفصل الرابع الابتدائي
امتحان الفصل الدراسي الأول - ٢٠٢٤



منصة الاختبارات الالكترونية
لأبنائنا في الخارج ٢٠٢٤

١- إذا اردت تحديد موقعك بدقة فأنت تحتاج لاستخدام

(أ) صورة جوية
(ب) خريطة
(ج) صورة فوتوغرافية
(د) رسم بياني

٢- نستطيع حساب المسافة بين مدينتين علي الخريطة عن طريق


(أ) وردة البوصلة
(ب) مقياس الرسم
(ج) مفتاح الخريطة
(د) عنوان الخريطة

٣- يحد مصر من الشمال

(أ) البحر الاحمر
(ب) دولة ليبيا
(ج) البحر المتوسط
(د) جمهورية السودان

٤- احد ألوان علم مصر ويدل علي ظلم الاستعمار

(أ) الأحمر
(ب) الأبيض
(ج) الأخضر
(د) الأسود

اسم الطالب:	رقم الجلوس:
 منصة الاختبارات الالكترونية لأبنائنا في الخارج ٢٠٢٤	امتحان مادة : الدراسات الاجتماعية للسف الرابع الابتدائي امتحان الفصل الدراسي الأول - ٢٠٢٤

١٣- أول بنك وطني تم إنشائه في تاريخ مصر هو بنك

(أ) القاهرة
(ب) مصر
(ج) المركزي
(د) الأهلي

١٤ - المادة الخام التي نحتاجها للقيام بصناعة الفخار هي

(أ) الزجاج
(ب) الكتان
(ج) الطين
(د) الرمال

١٥ - حفرت قناة سيزوستريس في عهد الملك

(أ) رمسيس الثاني
(ب) خوفو
(ج) منكاورع
(د) سنوسرت الثالث

١٦ - لو أنك من سكان القاهرة وتريد السفر الي أسوان فأنك تتجه الي

(أ) الجنوب
(ب) الشمال
(ج) الشرق
(د) الغرب

اسم الطالب:	رقم الجلوس:
 منصة الاختبارات الالكترونية لأبنائنا في الخارج ٢٠٢٤	امتحان مادة : الدراسات الاجتماعية للفيف الرابع الابتدائي امتحان الفصل الدراسي الأول - ٢٠٢٤

٩- احدي مبادرات الدولة للتوعية بأهمية التشجير واعادة تدوير المخلفات

(أ) ١٠٠ مليون صحة
(ب) كتف في كتف
(ج) حياة كريمة
(د) اتحضر للأخضر

١٠- صحراء تمتد من غرب ساحل البحر الاحمر حتي شرق نهر النيل هي


(أ) الصحراء الغربية
(ب) السهل الفيضي
(ج) الصحراء الشرقية
(د) السهل الساحلي

١١- تشتهر قرية الحرائية بالجيزة بصناعة

(أ) الغزل والنسيج
(ب) الفخار
(ج) الخيامية
(د) السجاد اليدوي

١٢- بناء المدارس يعد من الخدمات

(أ) التعليمية
(ب) الأمنية
(ج) الصحية
(د) الترفيهية

اسم الطالب:	رقم الجلوس:
 منصة الاختبارات الالكترونية لأبنائنا في الخارج ٢٠٢٤	امتحان مادة : الدراسات الاجتماعية للفصل الدراسي الأول - ٢٠٢٤ للصف الرابع الابتدائي

١٧- مساحة من الأرض مستوية تتكون من رواسب الأنهار هي السهول

أ) الساحلية
ب) الصحراوية
ج) الرملية
د) الفيضية

١٨- يسود مصر مناخ

أ) استوائي
ب) صحراوي
ج) مداري
د) قطبي

١٩- تخلو مصر من البيئة

أ) الزراعية
ب) الصحراوية
ج) القطبية
د) الساحلية

٢٠- احد الموارد المهمة لزراعة المحاصيل وتعرض للتجريف

أ) الهواء
ب) الماء
ج) الطاقة
د) التربة

انتهت الأسئلة