

تم تحميل هذا الملف من موقع المناهج السعودية



# موقع المناهج السعودي

\*للحصول على أوراق عمل لجميع الصفوف وجميع المواد اضغط هنا

<https://www.almanahj.com/sa>

\* للحصول على أوراق عمل لجميع مواد الصف الثالث المتوسط اضغط هنا

<https://almanahj.com/sa/9>

\* للحصول على جميع أوراق الصف الثالث المتوسط في مادة رياضيات ولجميع الفصول, اضغط هنا

<https://almanahj.com/sa/9math>

\* للحصول على أوراق عمل لجميع مواد الصف الثالث المتوسط في مادة رياضيات الخاصة بـ الفصل الثاني اضغط هنا

<https://www.almanahj.com/sa/9math2>

\* لتحميل كتب جميع المواد في جميع الفصول للـ الصف الثالث المتوسط اضغط هنا

<https://www.almanahj.com/sa/grade9>

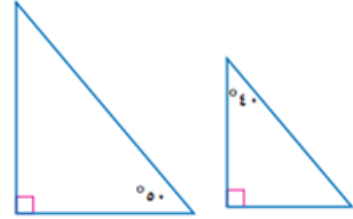
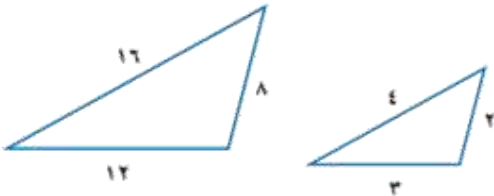
للحصول على جميع روابط الصفوف على تلغرام وفيسبوك من قنوات وصفحات: اضغط هنا

<https://t.me/sacourse>

النشاط:  فردي  
 جماعي

الاسم:

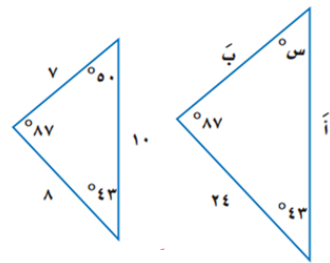
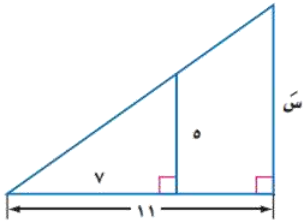
• حددي إذا كان كل زوج من المثلثات في السؤالين الآتيين متشابهين أو لا، وبرري اجابتك:



.....  
.....  
.....  
.....

.....  
.....  
.....  
.....

• أوجدي قياسات العناصر المجهولة في المثلثين المتشابهين الآتيين:



.....  
.....  
.....  
.....

.....  
.....  
.....  
.....

أ/ يوشا

«الوعي نصف العلاج»

شكراً لكل مواطن يحمل حس المسؤولية في داخله