

تم تحميل هذا الملف من موقع المناهج السعودية



موقع المناهج السعودي

*للحصول على أوراق عمل لجميع الصفوف وجميع المواد اضغط هنا

<https://www.almanahj.com/sa>

* للحصول على أوراق عمل لجميع مواد الصف الثالث المتوسط اضغط هنا

<https://almanahj.com/sa/9>

* للحصول على جميع أوراق الصف الثالث المتوسط في مادة رياضيات ولجميع الفصول, اضغط هنا

<https://almanahj.com/sa/9math>

* للحصول على أوراق عمل لجميع مواد الصف الثالث المتوسط في مادة رياضيات الخاصة بـ الفصل الثاني اضغط هنا

<https://www.almanahj.com/sa/9math2>

* لتحميل كتب جميع المواد في جميع الفصول للـ الصف الثالث المتوسط اضغط هنا

<https://www.almanahj.com/sa/grade9>

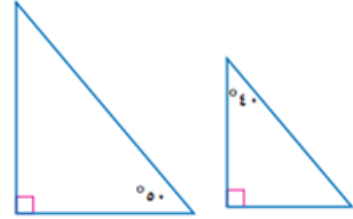
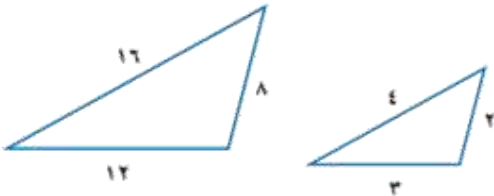
للحصول على جميع روابط الصفوف على تلغرام وفيسبوك من قنوات وصفحات: اضغط هنا

<https://t.me/sacourse>

النشاط: فردي
 جماعي

الاسم:

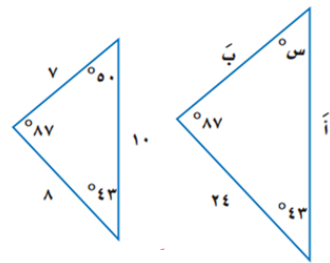
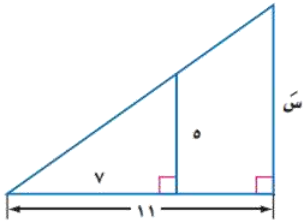
• حددي إذا كان كل زوج من المثلثات في السؤالين الآتيين متشابهين أو لا، وبرري اجابتك:



.....
.....
.....
.....

.....
.....
.....
.....

• أوجدي قياسات العناصر المجهولة في المثلثين المتشابهين الآتيين:



.....
.....
.....
.....

.....
.....
.....
.....

أ/ يوشا

«الوعي نصف العلاج»

شكراً لكل مواطن يحمل حس المسؤولية في داخله