

روابط مجموعات المناهج السعودية

كل ما يحتاجه الطالب في جميع الصفوف من أوراق عمل واختبارات ومذكرات, يجده هنا في الروابط التالية لأفضل مواقع المناهج السعودية:

القناة الرسمية لموقع المناهج السعودية : www.almanahj.com/sa

روابط مجموعات الواتساب

[الصف الأول الابتدائي](#)

[الصف الثاني الابتدائي](#)

[الصف الثالث الابتدائي](#)

[الصف الرابع الابتدائي](#)

[الصف الخامس الابتدائي](#)

[الصف السادس الابتدائي](#)

[الصف الأول متوسط](#)

[الصف الثاني متوسط](#)

[الصف الثالث متوسط](#)

[الصف الأول الثانوي](#)

[الصف الثاني الثانوي العلمي](#)

[الصف الثاني الثانوي الأدبي](#)

[الصف الثالث الثانوي العلمي](#)

[الصف الثالث الثانوي الأدبي](#)

[مجموعة أخبار التربية](#)

روابط قنوات التلغرام

[الصف الأول](#)

[الصف الثاني](#)

[الصف الثالث](#)

[الصف الرابع](#)

[الصف الخامس](#)

[الصف السادس](#)

[الصف الأول متوسط](#)

[الصف الثاني متوسط](#)

[الصف الثالث متوسط](#)

[الصف الأول الثانوي](#)

[الصف الثاني الثانوي الأدبي](#)

[الصف الثاني الثانوي العلمي](#)

[الصف الثالث الثانوي الأدبي](#)

[الصف الثالث الثانوي العلمي](#)

[المناهج السعودية](#)

منها
إلى
العلوي
سهر
الليالي

المملكة العربية السعودية

وزارة التربية والتعليم

مدرسة ربيعي بن عامر المتوسطة بالقطيف

almanahj.com/sa

حل أسئلة كتاب العلوم

الصف الثالث متوسط الفصل الدراسي الثاني

الأستاذ هاشم العلوي (المستفيد)

الوحدة الرابعة

الفصل السابع

مراجعة الدرس الأول:

- ج ١ - يتحكم الغشاء السيتوبلازمي في مرور المواد حيث يسمح لبعض الجزيئات بالعبور خلاله في حين لا يسمح لبعضها الآخر بذلك
- ج ٢ - أهمية عمليتي البلعمة والإخراج للخلية هو أن الجزيئات الكبيرة الحجم والتي لا يمكن نقلها عبر الانتشار أو بروتينات النقل في الغشاء السيتوبلازمي يمكن أن تدخل إلى الخلية وتخرج منها عبر هاتين العمليتين
- ج ٣ - مقارنة بين الخاصية الأسموزية والانتشار تنتقل الجزيئات في كلتا العمليتين من المناطق الأكثر تركيزا إلى الأقل تركيزا الخاصية الأسموزية عملية انتقال الماء إما الانتشار تصلح لأي مادة
- ج ٤ - المنتجات :- هي التي تصنع الغذاء أما المستهلكات فتحصل على الطاقة بأكل المنتجات أو الغذاء الذي تصنعه المنتجات
- ج ٥ - علل كل الطاقة التي تستعملها المخلوقات الحية على الأرض تعود في أصلها إلى الطاقة الشمسية تقوم المنتجات بتحويل الطاقة الشمسية إلى طاقة كيميائية مخزنة في جزيئات السكر خلال البناء الضوئي
- وعندما تتغذى المستهلكات على هذا الغذاء تتحرر الطاقة المخزنة في الغذاء خلال التنفس الخلوي وتحولها إلى طاقة حرارية وحركية
- ج ٦ - مقارنة بين التنفس الخلوي والتخمير كمية الطاقة الناتجة عن التخمير أقل من كمية الطاقة الناتجة عن التنفس الخلوي
- ج ٧ - علل يرش البائعون الماء على الخضروات والفواكه المعروضة في محالهم ؟ لأن الماء ينتشر داخلها ويحفظها نضرة
- ج ٧ - تساعد بعض النباتات الداخلية على تحسين هواء الغرفة
- لأن النباتات تخلص الغرفة من ثاني أكسيد الكربون وتستهلكه في عملية البناء الضوئي وتنتج الأكسجين أما في الليل فهي تتنفس فقط
- ج ٨ - عللي بشكل شرب كميات كبيرة من ماء البحر خطورة على جسم الإنسان لان التركيز العالي للأملاح فيها تسبب خروج الماء من الخلايا مما يؤدي إلى جفافها
- ج ٩ - إن عدد الذرات واحد قبل البناء الضوئي وبعده $6 = C$ $12 = H$ $18 = O$

مراجعة الفصل السابع الدرس الثاني

- ج ١ الانقسام المتساوي هو العملية التي تنقسم فيها النواة إلى نواتين في كل منهما المعلومات الوراثية نفسها
- في الخلايا الحيوانية ينقسم السيتوبلازم نتيجة تخرس الغشاء البلازمي أما في الخلايا النباتية فإن ظهور الصفيحة الخلوية يدل على بدء الانقسام السيتوبلازم
- ج ٢ - الكروموسومات قبل الانقسام المتساوي تتضاعف
- ج ٣ - تتكون الخلايا الجنسية (الحيوانات المنوية) في الجهاز التناسلي الذكري أما البويضات تتكون في الجهاز التناسلي الأنثوي
- ج ٤ - الكروموسومات في الطور الانفصالي الأول تنفصل أزواج الكروموسومات عن بعض وتتحرك إلى اطراف الخلية
- أما الطور الانفصالي الثاني تنفصل الكروماتيدات عن بعض وتتحرك في اتجاه الخلية
- ج ٥ - يعد اختفاء الغلاف النووي مهم خلال عملية الانقسام المتساوي (علل) لكي تستطيع الكروموسومات التحرك نحو اطراف الخلية
- علل لماذا تكون النباتات الناتجة عن العقل أو الدرناات مشابهة للنبات الأصلي بينما تختلف النباتات الناتجة عن البذور في الصفات عن أباؤها
- ج - النباتات التي تتكاثر لا جنسيا هي نتاج الانقسام المتساوي والانقسام الخلوي أما النباتات التي تنمو من البذور فإنها تنتج بفعل التكاثر الجنسي

استخدام المفردات:

١. الخاصية الأسموزية	٢. البلعمة	٣. البناء الضوئي
٤. التنفس الخلوي	٥. الأيض	٦. الانقسام المتساوي
٧. التبرعم	٨. التكاثر الجنسي	٩. دورة الخلية

تنبيت المفاهيم:

ج ١٠	ب ١١	أ ١٢	ج ١٣
ب ١٤	ج ١٥	أ ١٦	أ ١٧

التفكير الناقد

- ١٨ - النبات الأقرب إلى الضوء هو النبات الذي تحدث فيه عملية البناء الضوئي بصورة اسرع
- ١٩ - علل يستعمل الملح لإذابة الجليد على الطرق في المناطق الباردة ج - ١٩ - لينصهر الثلج
- ما تأثير ذلك في النباتات التي تنمو على جوانب الطرق ج - ستموت النباتات لأن الماء سينتقل إلى خارج الخلايا في اتجاه التربة المالحة
- ٢٠ - ستموت المستهلكات في البحيرة إذا ماتت جميع المنتجات فيها لأنها تعتمد على المنتجات في غذائها

٢١ - نبات الكرفس الذابل سيصبح نضرا إذا وضع في كأس به ماء عليل لأن جزيئات الماء ستدخل الكرفس عن طريق الخاصية الأسموزية

٢٢- يمكن أن تنتج بويضة مخصبة تحتوي على زيادة في عدد الكروموسومات ؟ عليل

ج - عندما لا تنفصل الكروموسومات المتماثلة أو الكروماتيدات الشقيقة بعضها عن بعض خلال الطور الانفصالي الأول أو الثاني

٢٣- يجب أن يمثل التسلسل الأشكال ٢٠ - ٢١ - ٢٢-

٢٤- يجب أن تعكس الإجابات من الطلاب المعلومات الواردة في الشكلين ٢١ - ٢٢-

٢٥ - يكون عدد الكروموسومات في الخلايا الجديدة هو عدد الكروموسومات نفسه في الخلايا الأصلية إذ يتم نسخ ال DNA قبل الانقسام المتساوي مما يؤدي إلى تساوي عدد كروموسومات الخلايا الجديدة مع عددها في الخلايا الأصلية

٢٦- يجب أن تكون البطاقات بالتسلسل نفسه الموجود في الشكلين ٢١ - ٢٢ وإذا كانت البطاقات تحوي الطور البيئي فيجب أن يكون موقعها قبل الطور التمهيدي الأول
تطبيق الرياضيات

٢٧ - يتم عمل رسم بياني يحوي المعلومات في الجدول المرفق مع السؤال ١٨

٢٨ - سينتج البناء الضوئي ٣ جزيئات سكر و ١٨ جزيء أكسجين
٨٠ ساعة

٢٩ - ----- = ٤ دورات ، ٤٢ = ١٦ خليه

٢٠ ساعة
almanahj.com/sa

الفصل الثامن

الوحدة الرابعة

حل مراجعة الدرس الاول

- ج١- عملية تضاعف DNA تحدث عندما تنفصل السلسلتان أحدهما عن الأخرى ثم تتشكل السلسلة المكملة الجديدة لكل من السلسلتين الأصليتين
ج٢- تنتقل شفرة تصنيع البروتينات من النواة إلى الرايبوسومات عندما تحمل الشيفرة على mRNA من النواة إلى الرايبوسوم
ج٣- اذا كان ترتيب القواعد النيتروجينية في سلسلة من DNA هو AGTAAC فإن ترتيب القواعد في سلسلة DNA المقابلة لها باستعمال الأحرف هو TCATTG
ج٤- دور tRNA في عملية بناء البروتينات هو حمل الأحماض الأمينية إلى الرايبوسومات وترتبط القواعد النيتروجينية الثلاث المحمولة على mRNA القالب بالقواعد النيتروجينية الثلاث الموجودة على tRNA مما يؤدي إلى ارتباط الأحماض الأمينية ثم تبدأ عملية بناء البروتين
ج٥- DNA في خلايا الدماغ وخلايا القلب متطابق ومتماثل

حل مراجعة الدرس الثاني

- ج١- تعبر الجينات السائدة عن الصفة التي تحملها عندما تكون الجينات المتقابلة نقيه GG أو غير نقيه Gg أما الجينات المتنحية فتظهر فقط عندما تكون الجينات المتقابلة للصفة النقيه gg
ج٢- تمثل الجينات السائدة والجينات المتنحية في مربع بانيت و تكتب الجينات السائدة في صورة أحرف كبيرة وتكتب الجينات المتنحية على شكل احرف صغيرة
ج٣- الطرز الجينية :- هي الجينات المتقابلة التي لدى المخلوق الحي أما الطرز الشكلية فهي تعبر عن الصفات المظهرية الناتجة عن هذه الجينات في المخلوق الحي
فمثلا قد تكون الطرز الجينية Tt صفة غير نقيه أي أن الطرز الشكلية هي الطول
ج٤- علي (أطلق على جريجور مندل لقب مؤسس علم الوراثة) لأنه أول شخص قام بوصف عملية انتقال الصفات الوراثية
ج٥- إذا عرفت الطرز الشكلية لصفة وراثية متنحية فهل يمكن معرفة الطرز الجينية لها - نعم لأنه يتطلب وجود نسختين من الجينات المتنحية لكي تظهر الصفات الشكلية المتنحية
ج٦- اذا تم تلقيح ذبابة فاكهة طويلة الجناح (غير نقيه) مع ذبابة فاكهة قصيرة الجناح (نقيه) اعمل مربع بانيت لمعرفة نسبة الأبناء الذين يحملون صفة قصر الجناح علما بأن صفة طول الجناح سائدة على قصر الجناح

	T	t
٥٠% قصير	Tt	tt
٥٠% طويل	Tt	tt
	t	t

تصور المفاهيم

انفصال سلسلتي ال DNA
ترتبط القواعد النيتروجينية مع القواعد النيتروجينية على السلسلتين الأصليتين
جزيئان من ال ينتج DNA

حل اسئلة مراجعة الفصل الثامن

استخدام المفردات

١. الجين	٢. الكروموسوم	٣. الطفرة	٤. الجينات المتقابلة
٥. الطرز الشكلية	٦. الجينات المتعددة	٧. الجينات السائدة	٨. الوراثة

تنشيط المفاهيم

٩. د - DNA	١٠. د - اليوراسيل	١١. ب - RNA
١٢. ب - الجينات المتقابلة	١٣. ب - الجينات	١٤. ب - جميعها سائدة

التفكير الناقد

ج ١٥- تسلسل القواعد النيروجينية على RNA الناتجة عن قطعه DNA تحمل تسلسل القواعد النيروجينية التالية

ATCCGTC الحل UAGGCAG

ج ١٦- الطفرة التي تحملها خلايا جلد شخص إلى أبنائه لا تنتقل لأن الطفرة التي تنتقل إلى الأبناء يجب أن تحدث في الخلايا الجنسية
ج ١٧-

وجه المقارنة	(DNA)	(RNA)
عدد السلاسل	يتكون من سلسلتان	يتكون من سلسلة واحدة
مكان وجوده بالخلية	يوجد في النواة	يصنع في النواة وينتقل إلى السيتوبلازم
نوع السكر	سكر خماسي الكربون منقوص الأوكسجين	سكر خماسي الكربون
القواعد النيروجينية	يحتوي أربع قواعد هي: A, C, G, T	يحتوي أربع قواعد هي: A, C, G, U يستبدل فيه الثايمين باليوراسيل

ج ١٨- العلاقة بين DNA والجينات المتقابلة والكروموسومات // ال DNA مادة كيميائية وتتكون الجينات من

ال DNA أما الجينات المتقابلة فهي الجينات المسؤولة عن صفة محددة وتكون محمولة على الكروموسومات

ج ١٩- مجموعة من الطرز الشكلية تنتج عن زوج واحد من الجينات المتقابلة // الجينات المتقابلة المتعددة

ب- مجموعة من الطرز الشكلية تنتج عن أكثر من زوج من الجينات المتقابلة // الجينات المتعددة

ج ٢٠- الطرز الجينية للأباء التي تنتج عنها مربع بنيت التالي

الحل هو احدهما TT والآخر tt

ج ٢١- تختلف الإجابات بين الطلاب

ج ٢٢- توقع صفة الشعر الأملس في الإنسان سائدة على صفة الشعر المتعرج توقع كيف يستطيع أبوان لهما صفة شعر

أملس انجاب طفل لديه شعر مجعد أي متعرج

يحمل كلا الأبوين الصفة غير النقية

تطبيق الرياضيات

ج ٢٣- تقريبا ١٠٠٠٠ جين

ج ٢٤- ٧

حل اختبار مقنن الوحدة الرابعة

أسئلة الاختيار من متعدد

١. د- التنفس	٢. ج- البيني	٣. ب - الإنبيات
٤. أ - مطابقة تماما	٥. ج - ١٦	٦. أ- تضاعف DNA
٧. ج- البيني	٨. ج - التغذية	٩. أ- تغير في الجين قد يكون ضار أو نافع أو لا يؤثر

ج ١٠- تؤثر عملية المضغ في قدرة جسمك على انتاج الطاقة الكيميائية المخزنة في الطعام لان عملية المضغ تساعد على

تقطيع الطعام إلى قطع صغيرة وهنا يكون الجسم قادر على انتاج الطاقة الكيميائية المخزنة في الطعام بشكل افضل

ج ١١- يأتي النشا المخزن في حبة البطاطس عندما تنتج عملية البناء الضوئي كميات كبيرة من السكر الذي يخزن في حبة البطاطس في صورة نشا

ج ١٢- التنفس الخلوي يحرر طاقة اكثر في العضلات من التخمر أما التخمر يسبب إعياء العضلة لأنه ينتج حمض اللاكتيك ويراكمه في العضلات

ج ١٣- أنواع RNA المستعملة في عملية تصنيع البروتين هي الرسول mRNA و الناقل tRNA و الرايبوسي rRNA

ج ١٤-

طور دورة الخلية	ما يحدث
البيني	تضاعف الكروموسومات
التمهيدي	تكون الكروموسومات مرئية
الاستوائي	تصطف الكروموسومات في وسط الخلية
الانفصالي	تنفصل الكروموسومات
النهائي	ينفصل السيتوبلازم

ج ١٥- في الانقسام المنصف (١) تنفصل الكروموسومات المتضاعفة بعضها عن بعض أما في

المرحلة الثانية فتنفصل الكروماتيدات الشقيقة في الكروموسوم الواحد بعضها عن بعض فينتج اربع خلايا في كل خلية نصف العدد الأصلي من الكروموسومات

ج ١٦- **علل يعد التجدد مهما لبعض المخلوقات الحية** يتيح التجدد لبعض المخلوقات الحية نمو بعض أجزائها المبتورة والنتام جروحها

ج ١٧- المقصود بالمخلوقات الحية المتعددة المجموعات الكروموسومية وأهميتها /// النبات هو النوع الأكثر شيوعا للمخلوقات المتعددة المجموعة الكروموسومية ويستعمل العديد من النبات طعاما

ج ١٨- عدد الجينات المتقابلة التي تحتويها الخلايا الجسمية هو زوج من الجينات المتقابلة لكل صفة وراثية وتحتوي الخلايا الجنسية فقط على جين مفرد نتيجة الانقسام المنصف

ج ١٩- ٥٠% غير نقي الصفة ، ٥٠% نقي الصفة ٧٥% الطرز الشكلية متماثلة للاباء

مسطح = ff

منتفخ = FF

	F	f
F	FF	Ff
f	Ff	ff

ج ٢٠- يستخدم الإنزيم في هذا الشكل للتفاعل الكيميائي فيسبب تحلل الجزيئات الكبيرة إلى جزيئات أصغر هذا الإنزيم ضروري لهذا التفاعل ويمكن إعادة استعماله هذا التفاعل مفيد للخلية لأن معظم الإنزيمات ضرورية للتفاعلات الكيميائية التي تحدث في الخلايا

ج ٢١- ثاني أكسيد الكربون مفيد للنبات لأنه يستخدمه في عملية البناء الضوئي حيث يتحول مع الماء إلى سكريات في البلاستيدات الخضراء بوجود الطاقة الشمسية ويستخدم الأكسجين الناتج في عملية التنفس الخلوي

ماء + ثاني أكسيد الكربون ----- < غذاء + أكسجين

ج ٢٢- مسار انتاج جزيء الأكسجين في النبات إلى استهلاكه في خلايا جسم الإنسان

يصنع النبات السكر من ثاني أكسيد الكربون والماء وناتج هذه العملية هو الأكسجين ، وينطلق الأكسجين إلى الهواء فيستنشقه الإنسان حيث ينتشر إلى الأوعية الدموية في الرئة ثم يتم حمله إلى الخلايا التي تستعمله في الميتوكوندريا خلال عملية التنفس الخلوي

ج ٢٣- الأربع طرق لانتقال الجزيئات من خلال الغشاء السيتوبلازمي هي

١- الانتشار و تستطيع الجزيئات الصغيرة الحجم الانتقال تبعا لتركيزها فتنتقل من المناطق الأعلى تركيزا إلى الأقل تركيزا خلال الغشاء البلازمي

٢- الانتشار المدعوم وفيه تنتقل الجزيئات الكبيرة الحجم وتستعمل بروتينات ناقلة لنقل الجزيئات الكبيرة عبر الغشاء البلازمي

٣- الخاصية الاسموزية وهي خاصة بانتقال جزيئات الماء من المناطق التي يكون فيها تركيزه عاليا إلى المناطق التي يكون تركيزه أقل بها

٤- النقل النشط وتنتقل فيه المواد اللازمة للخلايا التي يحتاج إليها مهما كان تركيزها ومنها

البلمعة التي يتم بها إحاطة الغشاء البلازمي بالجزيئات أثنائها

والطريقة الأخرى هي **الإخراج** حيث تلتحم الحويصلات مع الغشاء البلازمي لطرح الفضلات خلال الإخراج الخلوي

ج ٢٤- تظهر في الصورة خلية نباتية ، الانقسام في الخلية النباتية يشبه الانقسام في الخلية الحيوانية كثيرا إلا أن الأجسام المركزية لا تتكون في الخلايا النباتية خلال الطور التمهيدي ، كما أن الخلايا النباتية تكون صفائح خلوية لتكون خليتين في الطور الانفصالي ، أما الخلايا الحيوانية فلا تحتوي عليها

ج ٢٥- تركيب ال DNA بالتفصيل

DNA له تركيب يشبه السلم الملتوي وعلى طرفي السلم توجد جزيئات سكر ومجموعة فوسفات أما على درجات السلم فتوجد قواعد نيتروجينية

وتركيب RNA يشبه سلما بطرف واحد ودرجاته القواعد النيتروجينية ويحتوي كل من DNA و RNA على القاعدة النيتروجينية أدنين والسايروسين والجوانيين بينما يحتوي RNA على اليوراسيل بدل الثيامين

ج ٢٦- **علل (تختلف خلايا الجلد كثيرا عن خلايا المعدة على الرغم من احتوائها على DNA نفسه)**

لان الخلايا تستطيع تفعيل بعض الجينات وتثبيط الأخرى فالجينات النشطة في خلايا الجلد تختلف في وظيفتها عن الجينات النشطة في خلايا المعدة

ج ٢٧- الطفرة :- هي أي تغيير في سلسلة DNA المكونة للجين أو التغيير في عدد الكروموسومات في الخلية

وهناك العديد من الطفرات الضارة التي قد تسبب نقص المخلوقات الحية وقد تسبب الموت

أما الطفرات المفيدة فهي التي تزيد من فرص بقاء المخلوق الحي

وهناك طفرات لا تأثير لها ولا تؤثر على المخلوق الحي

الفصل التاسع

الوحدة الخامسة

مراجعة الدرس الأول

- العاملين اللذين تحتاج إليهما لمعرفة السرعة المتجهة لحركة جسم هي : السرعة والاتجاه
- يجب أن يدرج المحور الأفقي من صفر -٨ و يدرج المحور الرأسى من صفر -١٢ م ويكون الرسم خطأً قطريا من (٠،٠) - (٨،١٢)
- وشكل العلاقة لحركة زميلك خط من جزأين من (٠،٠) - (٤،٨) وآخر من (٤،٨) - (٨،١٢) بينما تحركت أنت وزميلك المسافة نفسها ١٢ م
- الحركة ١٥ م شمالا (١٠ - ٢٥) ثم ٥ م شرقا (٥ - ١٠)
- السرعة المتوسطة لطفل يجري مسافة ٥ م نحو الشرق خلال ١٥ ث = $\frac{5}{15}$ م/ث شرقا
- ٥٠ كم ÷ ٣٠٠ كم/س = ١٦،٢ ساعة

مراجعة الدرس الثاني

- مقارنة بين المفاهيم السرعة والسرعة المتجهة والتسارع تتضمن السرعة والسرعة المتجهة تغيرا في مواضع الجسم بينما يقيس التسارع معدل تغير السرعة المتجهة للتسارع والسرعة المتجهة اتجاه محدد بينما ليس لمقدار السرعة اتجاه
- نوع حركة سيارة اذا تم تمثيل حركتها بمنحنى السرعة - الزمن فكان الخط الباني أفقيا يليه خط مستقيم يميل نزولا إلى نهاية المنحنى تحركت السيارة بداية بسرعة ثابتة (خط أفقي) ثم تناقصت سرعتها (خط مائل) ثم توقفت (آخر المنحنى)
- اذا استخدمت مكابح لإيقاف سيارة تحركت الدراجة في اتجاه اسفل منحدر فيكون تسارعها عكس اتجاه الحركة ويكون تسارعها نحو أعلى التل
- تسارع عداد تنزايد سرعته من صفر م/ث إلى ٣/ث خلال زمن قدره ١٢ ثانية التسارع = $(3 - 0) \div 12 = 0,25$ م/ث
- سرعة جسم يسقط من السكون بتسارع ٨،٩ م/ث^٢ بعد ثابنتين من بدء حركته السرعة النهائية = $0 + (2 \times 9,8) = 19,6$ م/ث
- تأكد من الرسومات البيانية للطلاب موجب من صفر -٨ سالب من ٨ - ١٠ ث يجب أن يؤول التسارع إلى الصفر لفترة زمنية قصيرة عندما يتغير من موجب إلى سالب بين اللحظتين ٨ ث و ١٠ ث

وصف الحركة		
الكمية	التعريف	الاتجاه
المسافة	طول السار الذي تحرك عليه الجسم	لا يوجد
الإزاحة	مقدار واتجاه المتغير في موقع الجسم	نعم
السرعة	معدل التغير في موقع الجسم	لا يوجد
السرعة المتجهة	معدل التغير في موقع الجسم واتجاهه	نعم
التسارع	معدل التغير في السرعة المتجهة	نعم
الزخم	الكتلة مضروبة في السرعة المتجهة	نعم

حل أسئلة الفصل التاسع

استخدام المفردات

- ١- السرعة - السرعة المتجهة
كلاهما تقيس المعدل الزمني للتغير في الموضع إلا أن السرعة المتجهة تتضمن الاتجاه
- ٢- السرعة المتجهة - التسارع
كلاهما يقيس المعدل الزمني للتغير في الحركة والسرعة المتجهة هي المعدل الزمني للتغير في الموضع أما التسارع فهو المعدل الزمني للتغير في السرعة المتجهة
- ٣- التسارع الموجب - التسارع السالب
التسارع الموجب هو :- زيادة السرعة بالنسبة للزمن أما التسارع السالب :- هو نقصان السرعة بالنسبة للزمن
- ٤- السرعة المتجهة - الزخم
الزخم :- هو حاصل ضرب الكتلة في السرعة المتجهة وكلما زادت السرعة المتجهة زاد الزخم
- ٥- الزخم - قانون حفظ الزخم
ينص قانون حفظ الزخم على أن الزخم الكلي لمجموعة الأجسام هو نفسه قبل التصادم وبعده إلا إذا أثرت قوة خارجية في الأجسام
- ٦- الكتلة - الزخم
الزخم :- هو حاصل ضرب السرعة المتجهة في الكتلة وكلما زادت زاد الزخم أما الكتلة فهي مقياس للقصور
- ٧- الزخم - القصور الذاتي
للجسم دائما قصورا ولكنه ليس له زخم إلا اذا تحرك والقصور والزخم كلاهما يبين مدى صعوبة تغيير الحالة الحركية للجسم
- ٨- السرعة المتوسطة - السرعة اللحظية
كلاهما تقيس المعدل الزمني للتغير في الموضع فالسرعة اللحظية تعطي قيمة السرعة عند لحظة محددة من الزمن أما السرعة المتوسطة فتعطي متوسط السرعات اللحظية خلال زمن محدد أو مسافة معينة

تثبيت المفاهيم

٩. د- الكتلة	١٠. ج- المسافة ÷ الزمن	١١. أ- طائرة تطير بسرعة ثابتة
١٢. ج- ٢٥ م/ث ^٢ شرقا	١٣. ب- سرعة متجهة	١٤. ج- تزداد مقدار سرعة الجسم
١٤. د- التسارع	١٥. ج- ٨٠ كم/س	١٦. د- إن الزخم انتقل من الكرة البيضاء

التفكير الناقد

- ٩- إذا ركضت مسافة ١٠٠ م في زمن قدره ٢٥ ث ثم ركضت المسافة نفسها في زمن أقل فان مقدار السرعة المتوسطة يزداد فعندما تقسم المسافة نفسها على زمن أقل فإن السرعة تزداد
- ١٠- يكون تسارع السيارة صفر في الخط الأفقي
- ١١- التسارع بين الزمن صفر والزمن ٣ ث يكون أكبر لأن ميل الخط في هذه الفترة أكثر انحدارا
- ١٢- تسارع الجسم في الفترة الزمنية من صفر وحتى ٣ ث هو ١ م/ث^٢
- ١٣- إزاحة جسم اذا تحرك مسافة ١٠٠ متر شمالا و ٢٠ متر إلى الشرق و ٣٠ متر إلى الجنوب و ٥٠ متر إلى الغرب ثم ٧٠ إلى الجنوب هو ٣٠ متر غربا
- ١٤- يجب التحقق من أعمال الطلاب
- ١٥- المسافة المقطوعة لسيارة تحركت نصف ساعة بسرعة مقدارها ٤٠ كم/س $٠,٥ \times ٤٠ = ٢٠$ كم
- ١٦- يتحرك الجسم (أ) بسرعة اكبر أما الجسم (ج) فيتحرك بسرعة اقل

الفصل العاشر

الوحدة الخامسة

مراجعة الدرس الأول

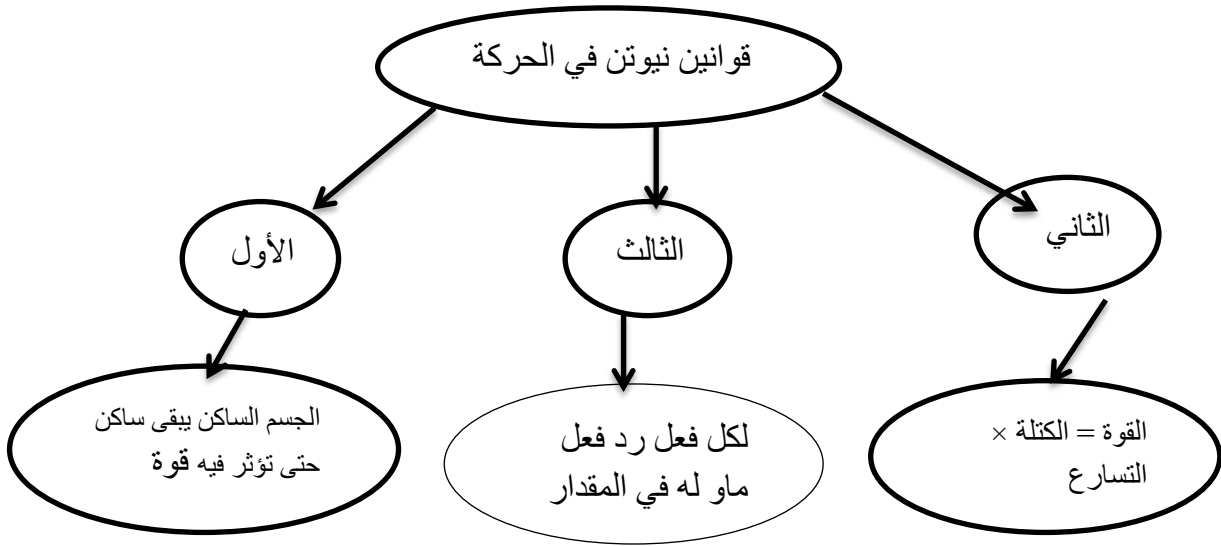
- ١- إذا أثرت قوة محصلة في سيارة تتحرك بسرعة ٢٠ كم/س وتنعطف إلى اليسار فإن ذلك يتطلب قوة للحفاظ على السيارة متحركة ولتغيير الاتجاه
- ٢- جعل الاحتكاك استكشاف القانون الأول لنيوتن صعبا
- لأن الاحتكاك يسبب توقف الأجسام المتحركة يبدو السكون وكأنه الحالة الطبيعية للمادة
- ٣- نعم يمكن لجسم أن يكون متحركا إذا كانت القوة المحصلة المؤثرة فيه تساوي صفر لأنه سيكمل بسرعة ثابتة حتى تؤثر فيه قوة خارجية
- ٤- فحص رسومات الطلاب حيث أن قوة الجاذبية إلى أسفل تترن مع القوة التي تؤثر بها الأرض إلى أعلى
- ٥- حلل يتغير وزنك باستمرار إذا كنت في مركبة فضائية تتحرك من الأرض باتجاه القمر
- سوف تقل قوة جذب الأرض وسيقل وزنك
- ٦- تعتمد قوة مقاومة الهواء لجسم متحرك على سرعته على
- بزيادة السرعة تزداد مقاومة الهواء
- ٧- استنتج اتجاه القوة المحصلة المؤثرة في سيارة تتناقص سرعتها وتنعطف إلى اليمين
- تؤثر المحصلة قطريا في السيارة بزوايا نحو اليمين
- ٨- بين ماذا كانت القوى متزنة أو غير متزنة في الحالات الآتية
- أ- تدفع صندوقا حتى يتحرك ----- غير متزنة لأن الصندوق يبدأ في الحركة
- ب- تدفع صندوقا لكنه لا يتحرك ----- متزنة لأن الصندوق لا يتحرك
- ج- تتوقف عن دفع صندوق فتنبأ حركته ----- غير متزنة لأن الصندوق يتباطأ
- د- يدفع ثلاثة طلبة صندوقا لكي تتغير حركة الصندوق لابد أن تكون القوى غير متزنة
- ٩- القوة المحصلة المؤثرة في سيارة كتلتها ١٥٠٠ كجم تتحرك بتسارع ٢٠ م/ث
- ق = ك × ت = ١٥٠٠ × ٢ = ٣٠٠٠ نيوتن
- ١٠- تتحرك كرة بتسارع مقداره ١٥٠٠ م/ث ٢ فإذا كانت القوة المحصلة المؤثرة فيها تساوي ٣٠٠ نيوتن
- فإن كتلتها

$$ق = ك \times ت$$

$$ك = ق \div ت = ٣٠٠ \div ١٥٠٠ = ٠.٢ \text{ كجم}$$

حل مراجعة الدرس الثاني

- ١- مقدار القوة التي يؤثر بها لوح التزلج عليك إذا كانت كتلتك ٦٠ كجم وقوتك التي تؤثر بها ٦٠ نيوتن فإن رد الفعل المقابل لوزنك ٥٨٨ نيوتن رد الفعل على القوة المؤثرة ٦٠ نيوتن
- ٢- علل يتحرك القارب إلى الخلف عندما تقفز منه في اتجاه الرصيف لأنك أنت تدفع القارب وتسبب حركته إلى الخلف والقارب يدفعك إلى الأمام مسببا حركتك للأمام حسب قانون نيوتن الثالث
- ٣- قوتي الفعل ورد الفعل عندما تطرق مسمارا بواسطة مطرقة هي الفعل هو قوة المطرقة المؤثرة في المسمار قوة رد الفعل يؤثر بها المسمار في المطرقة مسببا توقفها عن الحركة
- ٤- إذا وقفت على مزلاج ووقف طفل كتلته نصف كتلتك على مزلاج آخر ودفع كل منكما الآخر بقوة فأيكما يكون تسارعه أكبر وكم نسبة التسارع سيكون للطفل تسارع يساوي ضعفي تسارعك
- ٥- وصف تأثير حركتك في الطائرة أثناء طيرانها أنت تدفع الطائرة إلى الخلف والطائرة تدفعك إلى الأمام ولأن كتلة الطائرة كبيرة جدا فستكون قوة دفعك لها صغيرة جدا إلى درجة الإهمال
- ٦- اثر شخص يقف على متن زورق بقوة مقدارها ٧٠٠ نيوتن لقفذ المرساة جانبا احسب تسارع الزورق إذا كانت كتلته مع الشخص تساوي ١٠٠ كجم
- ت = ق ÷ ك = ٧٠٠ ÷ ١٠٠ = ٧ م/ث



حل أسئلة الفصل العاشر

استخدام المفردات

١- القوة - القصور - الوزن

القوة العامل الذي يؤثر على الجسم فيغير حالته الحركية أو شكله ، القصور :- ممانعة التغير في الحركة ، الوزن :- قوة جذب الأرض للجسم

٢- القانون الأول لنيوتن في الحركة - القانون الثالث لنيوتن في الحركة

القانون الأول للجسم قصور ذاتي أما الثالث لكل فعل ردة فعل مساوية له في المقدار ومعاكسة له في الاتجاه

٣- الاحتكاك - القوة

الاحتكاك :- شكل من أشكال القوة

٤- القوى المحصلة - القوى المتزنة

القوى المحصلة : مجموع كل القوى المؤثرة في جسم ، القوى المتزنة : محصلة القوى تساوي صفر

٥- الوزن - انعدام الوزن

الوزن :- قوة جذب الأرض للجسم أما انعدام الوزن فهو انعدام القوى المؤثرة

٦- القوى المتزنة - القوى غير المتزنة

القوى المتزنة:- محصلتها صفر ولا تسبب تسارع القوى غير المتزنة :- محصلتها لا تساوي صفر وتسبب تسارع

٧- الاحتكاك - الوزن

الاحتكاك :- قوة معاكسة لاتجاه الحركة الوزن :- قوة جذب الأرض للجسم

٨- القانون الأول لنيوتن في الحركة - القانون الثاني

القانون الأول : للجسم له قصور القانون الثاني لنيوتن ت = ق ÷ ك

٩- الاحتكاك - القوى غير المتزنة

الاحتكاك :- قوة معاكسة لاتجاه الحركة القوى غير المتزنة :- محصلتها لا تساوي صفر وتسبب تسارع

١٠- القوة المحصلة - القانون الثالث لنيوتن

قوة محصلة : مجموع القوى قانون نيوتن الثالث :- لكل فعل ردة فعل مساوية له في المقدار ومعاكسة في الاتجاه

تنشيط المفاهيم

١١. ب- الحركة	١٢. ب- الاحتكاك الانزلاقي	١٣. د- عندما تتحرك بسرعة ثابتة	١٤. ب- إلى اليسار
١٥. ب- كجم . م/ث ^٢	١٦. أ- القوة	١٧. ب- في اتجاه القوة	

التفكير الناقد

١٨- علل تزداد سرعة عربة التزلج مع نزولها تلامس مغطى بالثلج على الرغم من عدم وجود من يدفعها؟

لان تسارع الجاذبية يزيد من مقدار السرعة

١٩- قذفت كرة بسرعة ٤٠ كم/س في اتجاه الشرق فارتدت عن حائط بسرعة ٤٠ كم/س في اتجاه الغرب هل تتسارع

الكرة؟

نعم لأنها غيرت اتجاهها

٢٠- الفعل وردة الفعل عادة ما تكون غير ملاحظين عندما تكون الأرض أحد الجسمين ولا تكون القوة المؤثرة في

الأرض واضحة لأن كتلة الأرض كبيرة جدا ولذلك القوة التي يؤثر بها البشر في الأرض تسبب تسارعا لا يذكر

٢١- تثبت السيارة فوق النل بسبب الاحتكاك السكوني عندما تتحرك بسرعة ثابتة فإن الاحتكاك التدريجي ومقاومة الهواء

يعادلان قوة العجلات الناتجة من المحرك وعند الفرامل يعمل الاحتكاك الانزلاقي بين العجلة والفرامل على إبطاء السرعة

٢٢- عندما ينزلق قرص الهوكي فوق الجليد لا توجد قوة مؤثرة تبقيه متحركا إلى الأمام بالمقابل فهو يبقى متحركا بفعل

القصور الذاتي أما الاحتكاك بين القرص والجليد فيعمل على إبطائه تدريجيا حتى يتوقف

٢٣- استخدام قانون نيوتن الثالث الذي يصف القوى المؤثرة بين جسمين متصادمين (عندما تضرب بقدمك كرة القدم)

عندما تضرب الكرة فإنها تتسارع إلى الأمام ولأنها ذات كتلة صغيرة فهي تؤثر في القدم بقوة تجعلها تتسارع إلى الخلف

فتعمل على إبطاء حركة القدم إلى الأمام

٢٤- استخدام القانون الثالث لنيوتن في تفسير تسارع الصاروخ

عند انطلاقه عندما ينفجر الوقود داخل الصاروخ تدفعه جزيئات الغاز الناتج إلى الأعلى والصاروخ يدفعها إلى الأسفل

٢٥- كرتان متماثلتان في الحجم والشكل كتلة إحداهما ضعف كتلة الأخرى أي الكرتين تواجه قوة مقاومة هواء أكبر عندما

تصل سرعة كل منهما إلى السرعة الحدية

الكرة ذات الكتلة الأكبر

٢٦- في الشكل هل القوى المؤثرة في الصندوق متزنة ؟

لا محصلة القوى تدفع الجسم إلى اليسار بقوة ٣ نيوتن

٢٩- إذا أثرت بقوة محصلة مقدارها ٨ نيوتن في جسم كتلته ٢ كجم فاحسب تسارع الكتلة؟

$$ت = ق \div ك = ٨ \div ٢ = ٤ \text{ م/ث}$$

٣٠- اذا دفعت الجدار بقوة تساوي ٥ نيوتن فإن مقدار القوة التي يؤثر بها الحائط في يديك هي ٥ نيوتن

٣١- القوة المحصلة لجسم يتحرك كتلته ٠,٤ كجم يتسارع مقداره ٢ م/ث

$$ق = ك \times ت = ٠,٤ \times ٢ = ٠,٨ \text{ نيوتن}$$

٣٢- اذا دفع كتاب كتلته ٢ كجم على سطح طاولة بقوة مقدارها ٤ نيوتن فإن قوة الاحتكاك المؤثرة في الكتاب اذا كان

تسارعه ١,٥ م/ث

$$ق = ك \times ت = ١,٥ \times ٢ = ٣ \text{ نيوتن} , \quad ٤ \text{ ن} - ٣ \text{ ن} = ١ \text{ نيوتن}$$

حل أسئلة اختبار مقنن

أسئلة اختيار من متعدد

١. ج- سرعة	٢. ب- ٤،٥ ثانية	٣. أ- بين صفر و ١ ثانية	٤. أ- ٠،٧٥ م/ث	٥. د- ٥،٠ م/ث
٦. د- جميع ماسبق	٧. ب- ٥ م/ث	٨. ب- بين ٢ و ٤ ثوان	٩. د- ٣ م/ث	١٠. ج- ١٥ م/ث
١١. ب- قوة تناافر	١٢. ب- ٤،٣ م/ث	١٣. د- المكبس	١٤. ب- ٣،٥ نيوتن	١٥.

الإجابات القصيرة

١٦. سرعة حصان سباق يقطع مسافة ١٥٠٠ متر خلال ١٢٥ ثانية؟ ١٢ م/ث
١٧. تحركت سيارة مدة ٥،٥ ساعة بسرعة متوسطة مقدارها ٧٥ كم/س ما المسافة التي قطعتها هي ٤١٠ كم
١٨. اذا سجل عداد سيارة تسير بسرعة ثابتة خلال فترة زمنية محددة هل السيارة تتسارع خلال تلك الفترة؟ لا ، لأنه حتى لو كانت السيارة تسير بسرعة ثابتة فقد تغير من اتجاهها وهذا يعد شكلا من أشكال التسارع
١٩. تحركت رزان مسافة ٢ كم شمالا ثم مسافة ٢ كم شرقا ثم مسافة ٢ كم جنوبا ثم مسافة ٢ كم غربا ما المسافة الكلية التي قطعتها؟ وما إزاحتها؟
- المسافة التي قطعتها هي ٨ كم وإزاحتها صفر لأنها رجعت إلى نقطة البداية
٢٠. أي قوانين الحركة يفسر مقدرة على الاستمرار في الحركة لمزلج ينزلق على الجليد دون تأثير أي قوة ظاهرة القانون الأول لنيوتن في الحركة
٢١. هل يعتمد التسارع على سرعة الجسم لا ، لا يعتمد التسارع على سرعة الجسم لكنه يعتمد على محصلة القوى وعلى كتلة الجسم

almanahj.com/sa

الفصل الحادي عشر

الوحدة السادسة

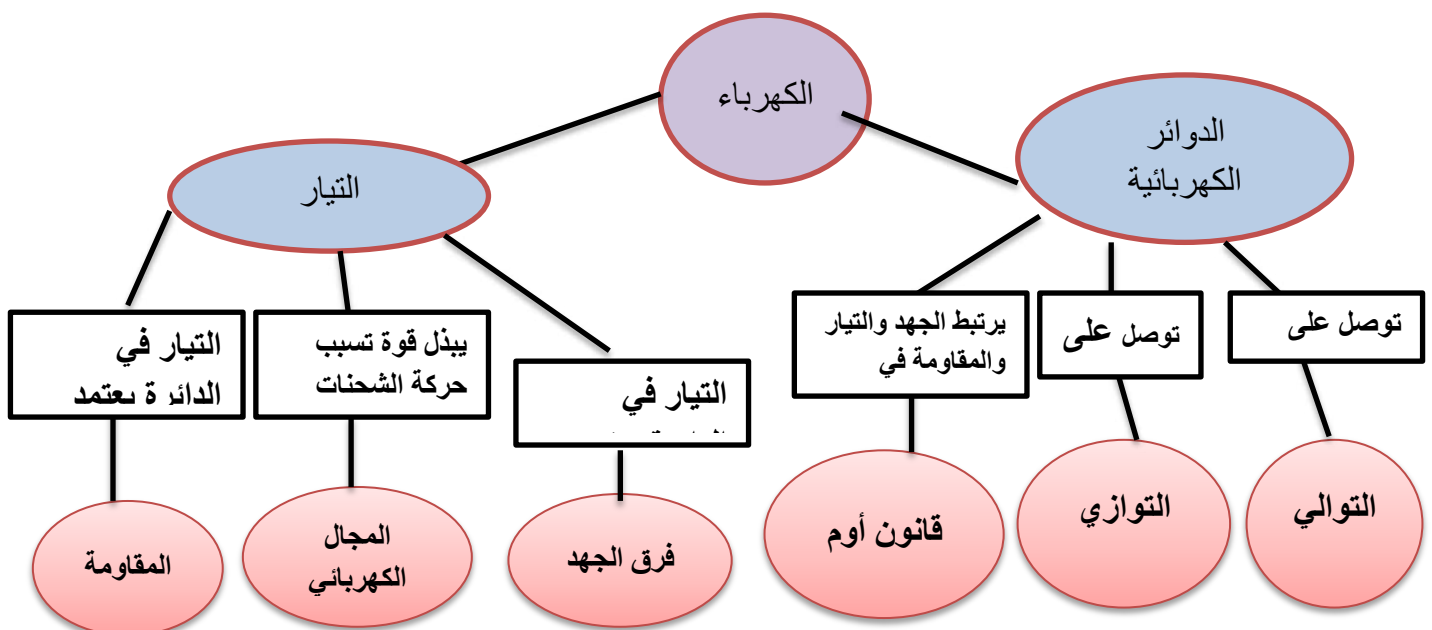
مراجعة الدرس الأول

- ١- تسبب البطارية الجافة حركة الإلكترونات في الدائرة الكهربائية لأن لها طرف موجب الإلكترونات وآخر سالب تتنافر معه فتؤدي هذه القوى إلى حركة الإلكترونات في الدائرة الكهربائية
- ٢- تتغير المقاومة الكهربائية للسلك عندما يزداد طوله لأن للسلك الأطول مقاومة أكبر وتتغير المقاومة عندما يزداد قطره لأن زيادة القطر تقلل المقاومة
- ٣- **علل استخدام النحاس في صناعة أسلاك التمديدات الكهربائية في الأبنية** لأن النحاس موصل جيد للكهرباء ومقاومته قليلة لذا لا يسخن كثيرا عند مرور تيار كهربائي فيه
- ٤- مصدر الإلكترونات التي تتدفق عبر الدائرة الكهربائية هي الإلكترونات التي في ذرات العناصر التي تتكون منها الأسلاك
- ٥- لا يرتبط جهد البطارية بحجمها فبطارية السيارة جهدها ١٢ فولت والبطارية من نوع D ١,٥ فولت أما بطارية آلة التصوير فجهدها ٦ فولت

مراجعة الدرس الثاني

- ١- عند المقارنة بين تيار مصباحين كهربائيين يتصلان على التوالي في دائرة كهربائية فإنه تكون شدة التيار المار فيهما هي نفسها
- ٢- تزداد قيمة التيار الكهربائي في دائرة كهربائية إذا نقصت قيمة المقاومة الكهربائية وبقي الجهد الكهربائي ثابتا
- ٣- **علل سبب استخدام التوصيل على التوازي في المباني بدلا من التوصيل على التوالي** حتى يستمر التيار الكهربائي في التدفق عبر الأجهزة إذا توقف جهاز آخر عن العمل
- ٤- الذي يسبب الأذى لجسم الإنسان عند حدوث الصدمة الكهربائية هو كمية التيار المار في الجسم ومدة مروره وما إذا توقف القلب عن النبض أم لا
- ٥- الذي يجعل استخدام مصباح قدرته ١٠٠ واط أكثر تكلفة على المستهلك من استخدام مجفف الشعر الذي قدرته ١٢٠٠ واط هو زمن تشغيل كل منهما
- ٦- يستهلك منزل طاقة كهربائية مقدارها ١٠٠٠ كيلوواط .ساعه كل شهر إذا كانت شركة الكهرباء تزود ١٠٠٠ منزل بهذا المستوى فما مقدار الطاقة اللازم إنتاجها في السنة؟
 $12000 = 12 \times 1000$ كيلو واط .ساعه
الطاقة اللازم إنتاجها = $12000 \times 1000 = 12,000,000$ كيلو واط .ساعه

تصور الأفكار



حل مراجعة الفصل الحادي عشر

استخدام المفردات

١. التيار الكهربائي	٢. قانون أوم	٣. الموصلات
٤. الدائرة الكهربائية	٥. الدائرة الموصولة على التوازي	٦. الدائرة الموصولة على التوالي

تنشيت المفاهيم

٧. د- تناافر	٨. أ- المقاومة	٩. أ- تزداد ٤ مرات	١٠. ج- الهواء أو الفراغ
--------------	----------------	--------------------	-------------------------

التفكير الناقد

١١. اذا تم تصغير قطر سلك فلزي فكيف تغير من طوله للإبقاء على مقاومته الكهربائية ثابتة جعل السلك أقصر

١٢. التحقق من رسوم الطلاب

١٣. نحدد من الرسم البياني أي العلاقتين يكون خطها أقرب إلى الأفقي المذيع أم مشغل الأقراس المدمجة المذيع

١٤. احسب المقاومة الكهربائية لكل القيم في الجدولين السابقين مستخدما قانون أوم ما مقاومة كل جهاز

$$\text{الحل} \quad م = ج \div ت$$

$$\text{للمذيع : } م = ٢ \div ١ = ٢ \text{ أوم}$$

$$\text{لمشغل الأقراس } م = ٢ \div ٠,٥ = ٤ \text{ أوم}$$

١٥. الجهاز الذي كان منحنى الرسم البياني له أقرب إلى الأفقي هو الجهاز ذو المقاومة الأقل

١٦. تفقد ألعاب الطلاب

١٧. احسب المقاومة اذا وصلت جهازا كهربائيا بمقيس جهد يعطي ١١٠ فولت فما مقاومة هذا الجهاز اذا كان شدة التيار

الكهربائي المار فيه ١٠ أمبير

$$\text{الحل} \quad م = ج \div ت$$

$$١١٠ = ١٠ \div ١١ \text{ أوم}$$

١٨. احسب التيار الكهربائي اذا وصل مجفف شعر قدرته ١٠٠٠ واط بمصدر جهد ١١٠ فولت فما مقدار التيار

الكهربائي الذي يمر فيه

$$\text{الحل} \quad \text{القدرة} = ج \times ت$$

$$ت = \text{القدرة} \div ج$$

$$= ١٠٠٠ \div ١١٠ = ٩ \text{ أمبير}$$

١٩. احسب الجهد الكهربائي وصل مصباح كهربائي مقاومته ٣٠ أوم ببطارية فإذا علمت أن شدة التيار

الكهربائي المار فيه ٠,١٠ أمبير فما مقدار جهد البطارية

$$\text{الحل} \quad ج = ت \times م$$

$$= ٠,١ \times ٣٠ = ٣ \text{ فولت}$$

$$٢٠. \text{ الحاسوب - } ٠,٠٠٧ \text{ كيلوات} (٠,٠٢ \times ٦٠٠ \times ٠,٨٤ = \text{ريال})$$

الفصل الثاني عشر

الوحدة السادسة

مراجعة الدرس الاول

- ١- تسلك الذرات سلوك المغناطيس لأنها تحتوي على إلكترونات متحركة
- ٢- تجذب المغناط الحديد ولا تجذب الورق لأن لبعض الفلزات مناطق مغناطيسية تتجه فيها الذرات في الاتجاه نفسه أما الورق فليس له مثل تلك المناطق
- ٣- يكون سلوك الشحنات الكهربائية مماثلا لسلوك الأقطاب المغناطيسية لأن الشحنات المتشابهة تتنافر والشحنات المختلفة تتجاذب تماما كالقطاب
- ٤- يكون المجال المغناطيسي أقوى ما يكون بالقرب من قطبيه ويضعف كلما زاد البعد عنهما
- ٥- في المغناطيس شكل حذاء الفرس إذا تم تقريب مغناطيسان منهما من بعضهما فإذا تقابل القطبان المتشابهان يتنافر المغناطيسان وإذا تقابل القطبان المختلفان يتجاذب المغناطيسان أما إذا تقابل الانحناءان فسيؤثر المغناطيسان ببعضهما تأثيرا ضعيفا
- ٦- البوصلة ترشد الملاحون والبحارة بالاتجاه الذي يتحركون إليه دون الحاجة إلى رؤية الشمس أو النجوم

مراجعة الدرس الثاني

- ١- تعتمد قوة المغناطيس الكهربائي على مقدار التيار وعدد اللفات حيث يزداد المجال المغناطيسي بزيادة التيار المار في اللفات كما يزداد أيضا بزيادة عدد اللفات
- ٢- كيفية عمل المحول الكهربائي حيث يولد التيار المتردد في الملف الابتدائي للمحول مجالا مغناطيسيا في القلب وهذا بدوره يولد تيارا مترددا في الملف الثانوي
- ٣- عندما يسري تيار في سلك فإن المغناطيس يؤثر في السلك بقوة
- ٤- وصف عملية توليد التيار المتردد فإن إحدى الطرائق هي جعل مصدر قدرة يدور حول نفسه في مجال مغناطيسي فعندئذ تولد حركة السلك بالنسبة للمجال المغناطيسي تيارا فيه
- ٥- مزاي وسليبات استخدام الموصلات فائقة التوصيل في صناعة أسلاك نقل الطاقة الكهربائية
المزايا :- يقلل من الطاقة الكهربائية المتحولة إلى حرارة
السليبات :- صعوبة تبريد الأسلاك باستمرار للإبقاء على التوصيل الفائق
- ٦- احسب النسبة إذا كان عدد لفات الملف الابتدائي لمحول كهربائي ١٠ لفات وعدد لفات ملفه الثانوي ٥٠ لفة وكان الجهد على الملف الابتدائي ١٢٠ فولت فما مقدار الجهد على ملفه الثانوي
الحل $٥٠ \div ١٠ \times ١٢٠ = ٦٠٠$ فولت

المغناطيس

يستخدم في

المولد الكهربائي

الذي فيه طاقه

حركية

تسبب

دوران الحلقة

والتي تدور

التيار الكهربائي

يستخدم في

المحرك الكهربائي

التي يمر فيه

التيار الكهربائي

والذي يولد

مجالات كهربائية

وينتج

طاقة حركية

مصنوع من

مواد مغناطيسية

تؤدي فيها

حركة الإلكترونات في
ذراتها

إلى إنتاج

مجالات
مغناطيسية

وتصطف ذراتها لعمل

منطقة مغناطيسية

حل مراجعة الفصل الثاني عشر

استخدام المفردات

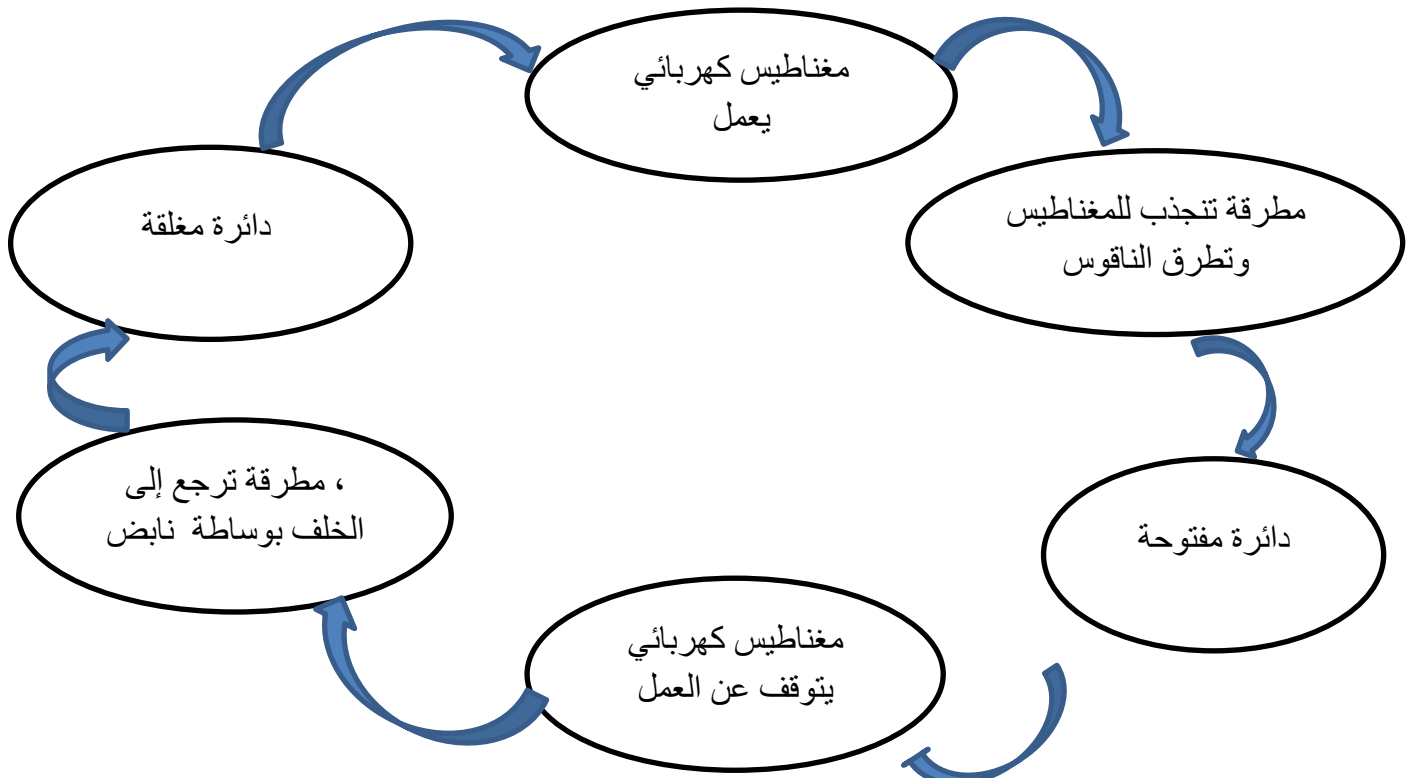
- ١-الولد الكهربائي – المحول الكهربائي ينتج المولد الكهربائي تيارا كهربائيا ويغير المحول الكهربائي جهد ذلك التيار
- ٢-القوة المغناطيسية - المجال المغناطيسي هو الحيز الذي تؤثر خلاله القوة المغناطيسية
- ٣-التيار المتردد - التيار المستمر يغير التيار المتردد اتجاهه باستمرار أما التيار المستمر فيكون ثابت الاتجاه
- ٤-التيار الكهربائي - المغناطيس الكهربائي يولد التيار الكهربائي المغناطيسية في المغناطيس الكهربائي
- ٥-المحرك الكهربائي - المولد الكهربائي يحول المحرك الكهربائي الطاقة الكهربائية إلى طاقة حركية بينما يعكس المولد الكهربائي العملية فيحول الطاقة الحركية إلى طاقة كهربائية
- ٦-الإلكترون - المغناطيسية تؤدي الإلكترونات المتحركة إلى توليد المغناطيسية
- ٧-الغلاف المغناطيسي للكرة الأرضية – الشفق القطبي تشتت الجسيمات المشحونة القادمة من الشمس نحو القطبين بواسطة الغلاف المغناطيسي للكرة الأرضية وهناك تصطم هذه الجسيمات بذرات الهواء فتجعلها تبعث ضوء يعرف بالشفق القطبي
- ٨-المغناطيس - المنطقة المغناطيسية المناطق المغناطيسية هي مجموعات من الذرات التي تكون أقطابها المغناطيسية مرتبة في اتجاه محدد وتوجد مثل هذه المناطق في المغناطيس وفي المواد المغناطيسية

تنبيه المفاهيم

٩. أ- المجال المغناطيسي	١٠. د- إبرة البوصلة تتجه مع مجال الأرض	١١. ب- يتنافران
١٢. ج- اثنان	١٣. ج- المغناطيس	١٤. ب- يخفض قيمة الجهد الكهربائي
١٥. أ- أكبر	١٦. أ- الطاقة الكهربائية إلى طاقة حركية	١٧. ب- المجال المغناطيسي للأرض

التفكير الناقد

١٨. رتب العبارات الآتية التي توضح عمل الجرس الكهربائي في دورة مخطط مفاهيم دائرة مفتوحة . دائرة مغلقة ، مغناطيس كهربائي يعمل ، مغناطيس كهربائي يتوقف عن العمل ، مطرقة تنجذب للمغناطيس وتطرق الناقد ، مطرقة ترجع إلى الخلف بواسطة نابض



١٩. إذا ثبت القطب الجنوبي لمغناطيس على رأس مسمار فان راسه يصبح قطبا شماليا وطبعة المسمار قطبا جنوبيا
٢٠. **علل لا يدور القطب المغناطيسي ويتجه مع خطوط المجال المغناطيسي للأرض عند وضعه فوق سطح طاولة لأنه**
لا تكون القوة المغناطيسية كافية للتغلب على قوة الجاذبية والاحتكاك السكوني
٢١. يمكن تحديد القطبين المجهولين للمغناطيس بالاعتماد على القطبين المعروفين للمغناطيس الآخر عند تقريب المغناطيس المعلوم القطبين من المغناطيس المجهول القطبين لتعرف أي قطبيه يتجاذب وأيها يتنافر
٢٢. **علل يصبح مشبك ورق مصنوع من الحديد مغناطيسا ويجذب المشابك الخرى إذا لامس قضيب مغناطيسي**
لأنه عند تقريب المغناطيس من المشبك يتم ترتيب المناطق المغناطيسية في المشبك في اتجاه واحد لتشكل مجالا مغناطيسيا ولذا يصبح المشبك مغناطيسا مؤقتا
٢٣. **علل تزداد قوة المجال المغناطيسي للمغناطيس الكهربائي عندما يكون داخل الملف قلب من الحديد**
لأن المجال المغناطيسي المتولد يعمل بفعل التيار المار في الملف على ترتيب المناطق المغناطيسية للقلب الحديدي ليصبح مغناطيسا مؤقتا ويضاف مجاله المغناطيسي إلى المجال المغناطيسي للملف
٢٤. **إذا مان المجال المغناطيسي للمغناطيس (أ) أكبر من المجال المغناطيسي للمغناطيس (ب) ثلاث مرات وكان المغناطيس (أ) يؤثر في المغناطيس (ب) بقوة ١٠ نيوتن فما مقدار القوة التي يؤثر بها المغناطيس (ب) في المغناطيس (أ) المغناطيس (أ) يؤثر في المغناطيس (ب) بقوة ١٠ نيوتن ووفق القانون الثالث لنيوتن فإن المغناطيس (ب) يؤثر في المغناطيس (أ) بالقوة نفسها**
٢٥. **سلكان معزولان متلاصقان جنبا إلى جنب ويسري فيها تياران كهربائيان في الاتجاه نفسه توقع كيف تتغير القوة بينهما إذا عكسنا اتجاه التيارين** ستبقى القوة بين السلكين تجاذبا علما أن القوى تكون تجاذبا إذا كانت التيارات التي تتدفق في الأسلاك في الاتجاه نفسه
٢٦. يطلب من الطلاب الانتباه إلى مصادر معلوماتهم
٢٧. نسبة عدد لفات الملف الابتدائي إلى عدد لفات الملف الثانوي في المحول (ع) بالاستعانة بالجدول هي ١ : ٢ أو ٥،٥
٢٨. **الجهد الداخل والجهد الخارج إذا كان الجهد الداخل يساوي ٦٠ فولت فإن المحول الذي يعطي جهد ناتجا مقداره ١٢ فولت**
- المحول هو (ص) لان نسبة عدد لفات الملف الابتدائي الى عدد لفات الملف الثانوي تساوي نسبة الجهد الداخل إلى الجهد الناتج وهذه النسبة تساوي ٥

اختبار مقنن الوحدة السادسة

أسئلة اختيار من متعدد

١. د- العازل	٢. ج- المقاومة الكهربائية	٣. أ- فرن الميكروويف
٤. ب- ٩ أمبير	٥. د- ٠,٨٠ ريال	٦. ج- يتضاعف مرتين
٧. ج- يمكن إغلاق المجال المغناطيسي	٨. ب- مولد كهربائي	٩. ب- تحول الطاقة الحركية إلى طاقة كهربائية
١٠. ج- المولدات	١١. ج- الخشب والزجاج	١٢. ج- تتجه أقطابها في اتجاه واحد
١٣. ب- الغلاف المغناطيسي للكرة الأرضية	١٤. ب- مجال قضيب مغناطيسي	١٥. ب- القلب الخارجي

أسئلة الإجابات القصيرة

١٦. إذا أزيل أحد المصباحين في دائرة على التوازي فإن التيار الكهربائي المار في المصباح الآخر سيبقى مضاء علل لأن الدائرة الكهربائية لديها أكثر من مسار واحد حتى يسري فيه التيار الكهربائي
١٧. في هذه الدائرة لا يمكن أن تكون قيمتا مقاومتي الفرعين مختلفتين وذلك يعتمد على الأجهزة الموصولة في كل فرع فالفرع الذي تكون فيه قيمة المقاومة أقل يكون التيار المسار فيه أكبر
١٨. إذا استخدمت محمصة خبز قدرتها ١١٠٠ واط ، ٥ ساعات يوميا مع وجود ثلاجة قدرتها ٤٠٠ واط تعمل طوال الوقت فإيهما تستهلك طاقة أكثر وضح إجابتك الثلاجة لأن الطاقة المستهلكة تعتمد على القدرة كما تعتمد أيضا على طول الفترة الزمنية التي عمل فيها الجهاز
١٩. مامقدار التيار الكهربائي الذي يمر في مصباح كهربائي قدرته ٧٥ واط عندما يعمل على جهد مقداره ١٠٠ فولت ٠,٧٥ أمبير
٢٠. دائرة كهربائية فيها مصابيح صغيرة موصولة على التوالي إذا كانت الدائرة مفتوحة وفيها بعض المصابيح التي تمت إزالتها فماذا يحدث عند إغلاق الدائرة ؟ لن تضيء المصابيح الصغيرة لأن الدائرة الكهربائية مفتوحة
٢١. افترض أنك وصلت مدفأة كهربائية بمقيس الجار وعندما أشعلتها انطفت المصابيح جميعها في الغرفة وضح ما حدث
- مر تيار كهربائي كبير في المدفأة مما أدى إلى مرور تيار كهربائي كبير في أداة الأمان في البيت المنصهر الكهربائي فاحترق المنصهر مما أدى إلى فتح الدائرة الكهربائية
٢٢. علل سبب تغليف الأسلاك النحاسية المستخدمة في التمديدات بمادة بلاستيكية أو المطاط تتحرك الإلكترونات بسهولة خلال الأسلاك النحاسية إلا أنها لا تتحرك خلال البلاستيك أو المطاط لأنهما من المواد العازلة وذلك من شأنه أن يحمي الشخص الذي يلمس تلك الأسلاك من الصدمة الكهربائية
٢٣. علل تشير إبر البوصلات إلى اتجاهات مختلفة سوف تتجه إبر البوصلات في اتجاهات خطوط المجال حول القضيب المغناطيسي سندور إبرة كل بوصة حتى تصطف مع خط المجال الذي يمر بتلك البوصلة
٢٤. ماذا يحدث لإبر البوصلات عند إزالة القضيب المغناطيسي من بينها وضح إجابتك ستشير إبر البوصلات جميعها في اتجاه شمال – جنوب لأنها سوف تدور حتى تنتظم مع خطوط المجال المغناطيسي للأرض
٢٥. صف التفاعل بين إبرة البوصلة وسلك يسري فيه تيار كهربائي يولد التيار الكهربائي مجالا مغناطيسيا حول السلك فتؤدي قوة المجال المغناطيسي إلى اصطاف إبرة البوصلة مع خطوط المجال المغناطيسي
٢٦. ما الطريقتان اللتان يمكن من خلالهما زيادة المجال المغناطيسي للمغناطيس الكهربائي زيادة التيار الكهربائي وزيادة عدد اللفات في الملف
٢٧. إذا كان الجهد الداخل إلى محول كهربائي هو ١٠٠ فولت والجهد الناتج منه هو ٥٠ فولت فأوجد نسبة عدد لفات الملف الابتدائي إلى عدد لفات الملف الثانوي
- نسبة عدد لفات الملف الابتدائي إلى عدد لفات الملف الثانوي = نسبة الجهد الداخل : الجهد الناتج = $100 \div 50 = 2$
٢٨. كيف يمكن مغنطة مفك البراغي الفولاذي ذلك المفك بمغناطيس دائم على أن يكون ذلك في اتجاه واحد

٢٩. إذا كسرنا قضيبا مغناطيسيا إلى قطعتين سيكون لكل قطعة قطب مغناطيسي شمالي وآخر جنوبي وسيتنافر القطبان المتشابهان من كلتا القطعتين فيما يتجاذب القطبان المختلفان

٣٠. **علل لا يكون من الصواب استعمال المغناط المصنوعة من سبائك مكونة من الفولاذ و الألمونيوم والنيكل والكوبالت والتي يصعب مغنطتها بالرغم من احتفاظها بمغنطتها فترة طويلة**

لأنه يجب أن يكون قلب المغناطيس الكهربائي قادرا على التمغنط بسهولة أو لديه القدرة على فقد مغناطيسيته بسهولة أيضا لأنه يجب أن يستجيب بصورة سريعة لتشغيل التيار الكهربائي أو فصله

أسئلة الإجابات المفتوحة

٣١. **علل من الخطر استخدام منصهر كهربائي مكتوب عليه ٣٠ أمبير في دائرة كهربائية تحتاج إلى تيار كهربائي مقداره ١٥ أمبير فقط**

لأن المنصهر الذي قدرة تحمله تساوي ٣٠ أمبير يسمح بمرور تيار كبير جدا خلال الدائرة الكهربائية مما قد يسبب اشتعال حريق

٣٢. **قارن عمل الماء في الدورة أعلاه بعمل البطارية في الدائرة الكهربائية**

تزود المضخة الماء بالطاقة التي تمكنه من التدفق في الدائرة أما البطارية فتزود التيار بالطاقة التي يتطلبها تدفقه خلال الدائرة الكهربائية

٣٣. **علل يصاحب البرق العواصف الرعدية** تصبح الغيوم في العاصفة الرعدية مشحونة بشحنة سالبة من أسفلها وهذه الشحنة السالبة تولد شحنة موجبة على سطح الأرض بطريقة الحث مما يؤدي إلى حدوث التفريغ الكهربائي

٣٤. **علل يدفع البالون المنفوخان أحدهما الآخر بعيدا حتى عندما لا يتلامسان معا**

لأنه يحاط بكل بالون بمجال كهربائي ويؤثر المجال الكهربائي الذي يحيط بكل بالون بقوة في البالون الآخر وحتى في حالة عدم تلامسهما معا

٣٥. **اشرح ما يمكن أن يحدث عندما تدلك قدميك بالسجاد ثم تلمس المقبض المعدني للباب**

تنتقل الإلكترونات من السجاد إلى حذائك ثم تتوزع على جلدك كاملا فتؤدي الإلكترونات الفائضة الموجودة على يديك إلى توليد شحنة موجبة على المقبض الفلزي للباب بطريقة الحث وقد تؤدي قوة التجاذب الكهربائي بين الإلكترونات الموجودة على يدك والشحنة الموجبة الموجودة على مقبض الباب إلى تحريك الإلكترونات وانتقالها نحو مقبض الباب مما يؤدي إلى إنتاج شرارة كهربائية

٣٦. **علل تؤدي درجة الانصهار المرتفعة لفلز التنجستن إلى استخدامه بشكل واسع في صنع فتيل المصباح**

لأن فتيل التنجستن يمكن أن يسخن بدرجة كافية ويتوهج دون أن ينصهر

٣٧. **علل سبب حدوث ظاهرة الشفق القطبي في مناطق القطبين الشمالي والجنوبي للأرض فقط**

عندما تبعث الشمس الجسيمات المشحونة في الفضاء يشنت مجال الأرض المغناطيسي الكثير منها إلا أن بعضها يولد جسيمات مشحونة داخل طبقات الغلاف الجوي العلوي للأرض فتتحرك في اتجاه المجال المغناطيسي للأرض وتتحرف نحو قطبي الأرض فتتصادم هذه الجسيمات بذرات الغلاف الجوي هناك فتثار تلك الذرات وتتوهج وتصدر أضواء تعرف باسم الشفق القطبي

٣٨. **علل يجذب المغناطيس إبرة من الحديد من أي من طرفيها ولا يجذب المغناطيس مغناطيسا آخر إلا من طرف واحد**

لأن الإبرة مادة مغناطيسية ولكنها ليست مغناطيسا لذا سوف تترتب مناطقها المغناطيسية في اتجاه تكون أقطابها موجبة نحو قطب المغناطيس المؤثر المخالف لها فتتسا قوة تجاذب بين المغناطيس و الإبرة حيث تتجاذب الأقطاب المختلفة فقط

٣٩. **إذا وصلت بطارية مع ملف ابتدائي لمحول رافع للجهد فصف ما يحدث لمصباح كهربائي عند وصله مع الملف**

الثانوي لذلك المحول

لن يتوهج المصباح ولن يمر التيار في الملف الثانوي لأن التيار المار في الملف الابتدائي مستمر وليس متردد

٤٠. **اشرح كيف تتشابه القوى الكهربائية مع القوى المغناطيسية**

تتنافر الشحنات الكهربائية المتشابهة وكذلك الأقطاب المغناطيسية المتشابهة أما الشحنات الكهربائية المختلفة فتتجاذب وكذلك الأقطاب المغناطيسية المختلفة تولد الشحنات الكهربائية المتحركة مجالات مغناطيسية تؤثر بقوى في الشحنات الكهربائية المتحركة

- ٤١- في الشكل صف القوى التي تحرك الإلكترونات في السلك
يؤثر المجال المغناطيسي بقوة مغناطيسية في الإلكترونات الموجودة داخل السلك مما يؤدي إلى تدفقها
- ٤٢- توقع كيف تتحرك الإلكترونات في السلك نفسه اذا سحب السلك نحو الأعلى
ستكون القوة المغناطيسية في الاتجاه المعاكس لذا ستتحرك الإلكترونات في الاتجاه المعاكس
- ٤٣- علل يمكن مغنطة الإبرة التي تحتوي على الحديد في حين لا يمكن مغنطة قطعة بحجم الإبرة من سلك نحاسي
الحديد مادة مغناطيسية تحتوي على مناطق مغناطيسية يمكنها أن تنتظم معا وتصطف لتشكل مغناطيسا أما النحاس ليس مادة مغناطيسية ولا يحتوي على مناطق مغناطيسية ولا يمكن أن تتمغنط
- ٤٤- لكل مغناطيس قطبان شمالي وجنوبي أين تتوقع أن يكون القطبان في مغناطيس على شكل قرص
عند السطحين العلوي والسفلي للقرص

almanahj.com/sa